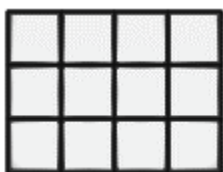



ΟΝΟΜΑ: _____


ΜΑΘΗΜΑΤΙΚΑ 5^η ΕΝΟΤΗΤΑ

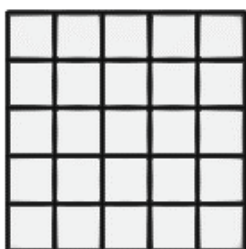
Κεφ.31 Καλύπτω επιφάνειες


1. Πόσα  χρειάζονται για να καλύψουμε τις παρακάτω επιφάνειες;







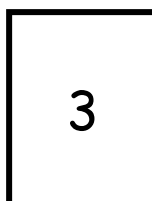
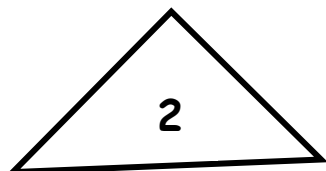










2. Με ποιο σχήμα (1, 2 ή 3) θα μετρήσω τις παρακάτω επιφάνειες;



Το Α σχήμα με το _____




Το Β σχήμα με το _____

Μια επιφάνεια
μπορούμε να
την
μετρήσουμε με
άλλες
μικρότερες.



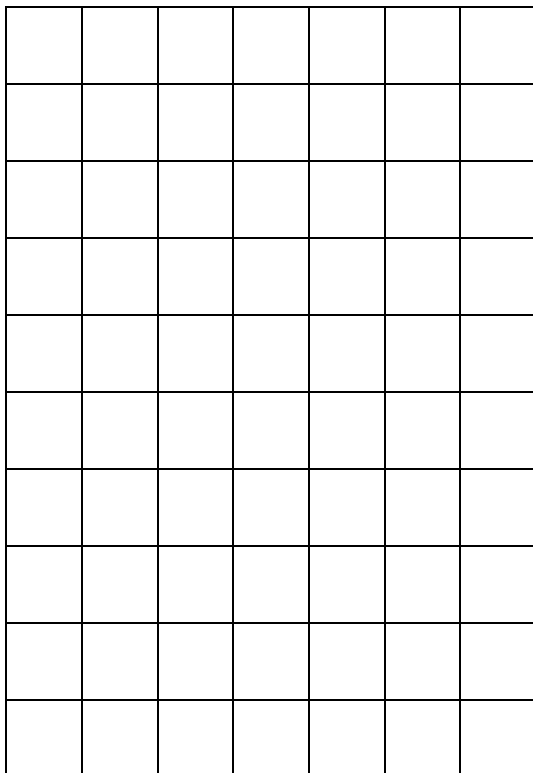
3. Υπολογίζω πόσα πλακάκια θα χρειαστεί ο μάστορας ακόμα για να καλύψει την επιφάνεια του πατώματος ενός παιδικού δωματίου;



Υπολογίζω με πολλαπλασιασμό:

Απάντηση: _____

4. Χρωματίζω στον παρακάτω πίνακα 5 στήλες και 8 γραμμές.



Μπορείς να υπολογίσεις γρήγορα πόσα τετραγωνάκια χρωμάτισες;

$$\underline{\quad} \times \underline{\quad} = \underline{\quad}$$

Θα βρεις τον ίδιο αριθμό αν τα μετρήσεις;
