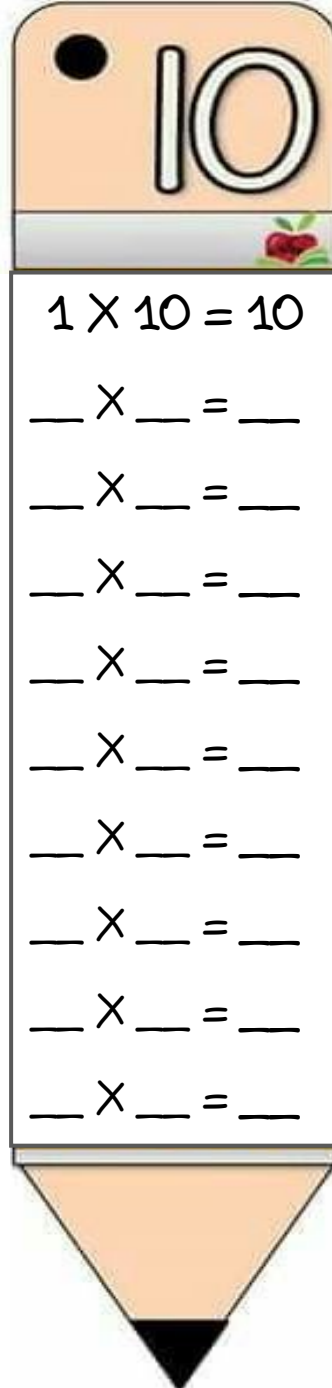
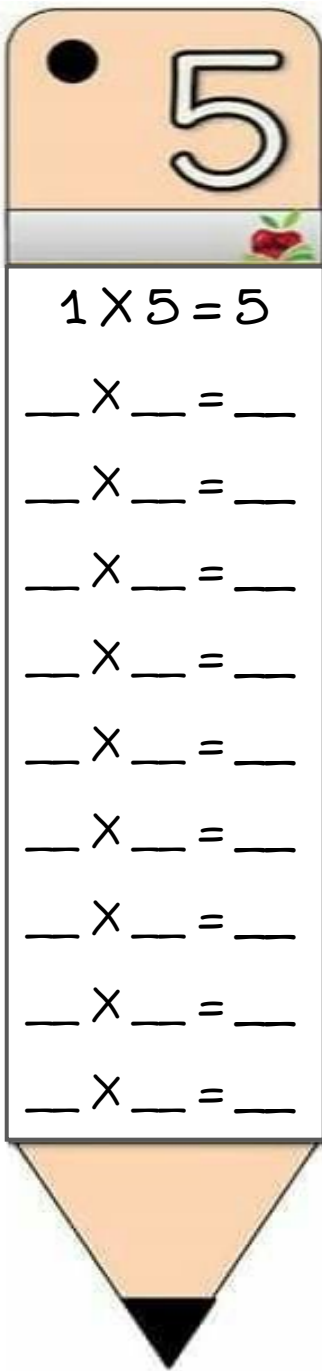


ΟΝΟΜΑ: _____

ΜΑΘΗΜΑΤΙΚΑ 4^η ΕΝΟΤΗΤΑ

Κεφ.24 Βρίσκω την προπαίδεια του 10 και του 5

1. Γράφω τις προπαίδειες του 5 και του 10 μέσα στα μολύβια.



Μάθε να λες τις
προπαίδειες απ' έξω
σαν ποιημάκι:



1 φορά το 5 πέντε

2 φορές το 5 δέκα

...



2. Συμπληρώνω τα παρακάτω μοτίβα με τα αποτελέσματα από τις προπαίδειες.



3. Υπολογίζω τους παρακάτω πολλαπλασιασμούς.

$4 \times 5 = \underline{\quad}$

$5 \times 4 = \underline{\quad}$

$9 \times 5 = \underline{\quad}$

$5 \times 9 = \underline{\quad}$

$8 \times 5 = \underline{\quad}$

$5 \times 8 = \underline{\quad}$

$2 \times 5 = \underline{\quad}$

$5 \times 2 = \underline{\quad}$

$3 \times 10 = \underline{\quad}$

$10 \times 3 = \underline{\quad}$

$7 \times 10 = \underline{\quad}$

$10 \times 7 = \underline{\quad}$

$5 \times 10 = \underline{\quad}$

$10 \times 5 = \underline{\quad}$

$0 \times 10 = \underline{\quad}$

$10 \times 0 = \underline{\quad}$

4. Λύνω τα παρακάτω προβλήματα:

A. Η μέλισσα έχει 6 πόδια. Πόσα πόδια έχουν οι 5 μέλισσες;



Υπολογίζω με πολλαπλασιασμό:

Απάντηση: _____

B. Για να φτιάξει ένα κολιέ η Αγγελική σε κάθε κλωστή βάζει 10 χάντρες. Πόσες χάντρες χρειάζεται για να φτιάξει 4 κολιέ;



Υπολογίζω με πολλαπλασιασμό:

Απάντηση: _____
