

BACCALAURÉAT GÉNÉRAL

ÉPREUVE D'ENSEIGNEMENT DE SPÉCIALITÉ

SESSION 2022

MATHÉMATIQUES

Mercredi 11 mai 2022

Durée de l'épreuve : **4 heures**

*L'usage de la calculatrice avec mode examen actif est autorisé.
L'usage de la calculatrice sans mémoire, « type collègue » est autorisé.*

Dès que ce sujet vous est remis, assurez-vous qu'il est complet.
Ce sujet comporte 5 pages numérotées de 1/5 à 5/5.

Le sujet propose 4 exercices.

Le candidat choisit 3 exercices parmi les 4 exercices et **ne doit traiter que ces 3 exercices.**

Chaque exercice est noté sur **7 points (le total sera ramené sur 20 points).**

Les traces de recherche, même incomplètes ou infructueuses, seront prises en compte.

Exercice 1 (7 points)**Thèmes : fonction exponentielle, suites.**

Dans le cadre d'un essai clinique, on envisage deux protocoles de traitement d'une maladie. L'objectif de cet exercice est d'étudier, pour ces deux protocoles, l'évolution de la quantité de médicament présente dans le sang d'un patient en fonction du temps.

Les parties A et B sont indépendantes.

Partie A : Etude du premier protocole

Le premier protocole consiste à faire absorber un médicament, sous forme de comprimé, au patient. On modélise la quantité de médicament présente dans le sang du patient, exprimée en mg, par la fonction f définie sur l'intervalle $[0; 10]$ par $f(t) = 3te^{-0,5t+1}$, où t désigne le temps, exprimé en heure, écoulé depuis la prise du comprimé.

1. a. On admet que la fonction f est dérivable sur l'intervalle $[0; 10]$ et on note f' sa fonction dérivée. Montrer que, pour tout nombre réel t de $[0; 10]$, on a : $f'(t) = 3(-0,5t + 1)e^{-0,5t+1}$.
b. En déduire le tableau de variations de la fonction f sur l'intervalle $[0; 10]$.
c. Selon cette modélisation, au bout de combien de temps la quantité de médicament présente dans le sang du patient sera-t-elle maximale ? Quelle est alors cette quantité maximale ?
2. a. Montrer que l'équation $f(t) = 5$ admet une unique solution sur l'intervalle $[0; 2]$, notée α , dont on donnera une valeur approchée à 10^{-2} près.

On admet que l'équation $f(t) = 5$ admet une unique solution sur l'intervalle $[2; 10]$, notée β , et qu'une valeur approchée de β à 10^{-2} près est 3,46.

- b. On considère que ce traitement est efficace lorsque la quantité de médicament présente dans le sang du patient est supérieure ou égale à 5 mg. Déterminer, à la minute près, la durée d'efficacité du médicament dans le cas de ce protocole.

Partie B : Etude du deuxième protocole

Le deuxième protocole consiste à injecter initialement au patient, par piqûre intraveineuse, une dose de 2 mg de médicament puis à réinjecter toutes les heures une dose de 1,8 mg.

On suppose que le médicament se diffuse instantanément dans le sang et qu'il est ensuite progressivement éliminé.

On estime que lorsqu'une heure s'est écoulée après une injection, la quantité de médicament dans le sang a diminué de 30 % par rapport à la quantité présente immédiatement après cette injection.

On modélise cette situation à l'aide de la suite (u_n) où, pour tout entier naturel n , u_n désigne la quantité de médicament, exprimée en mg, présente dans le sang du patient immédiatement après l'injection de la n -ème heure. On a donc $u_0 = 2$.

1. Calculer, selon cette modélisation, la quantité u_1 de médicament (en mg) présente dans le sang du patient immédiatement après l'injection de la première heure.
2. Justifier que, pour tout entier naturel n , on a : $u_{n+1} = 0,7u_n + 1,8$.

3. a. Montrer par récurrence que, pour tout entier naturel n , on a : $u_n \leq u_{n+1} < 6$.
- b. En déduire que la suite (u_n) est convergente. On note ℓ sa limite.
- c. Déterminer la valeur de ℓ . Interpréter cette valeur dans le contexte de l'exercice.
4. On considère la suite (v_n) définie, pour tout entier naturel n , par $v_n = 6 - u_n$.
- a. Montrer que la suite (v_n) est une suite géométrique de raison 0,7 dont on précisera le premier terme.
- b. Déterminer l'expression de v_n en fonction de n , puis de u_n en fonction de n .
- c. Avec ce protocole, on arrête les injections lorsque la quantité de médicament présente dans le sang du patient est supérieure ou égale à 5,5 mg.
- Déterminer, en détaillant les calculs, le nombre d'injections réalisées en appliquant ce protocole.

Exercice 2 (7 points)

Thème : géométrie dans l'espace

Dans l'espace rapporté à un repère orthonormé $(O; \vec{i}, \vec{j}, \vec{k})$, on considère :

- le point A de coordonnées $(-1; 1; 3)$,
- la droite \mathcal{D} dont une représentation paramétrique est :
$$\begin{cases} x = 1 + 2t \\ y = 2 - t \\ z = 2 + 2t \end{cases}, t \in \mathbb{R}.$$

On admet que le point A n'appartient pas à la droite \mathcal{D} .

1. a. Donner les coordonnées d'un vecteur directeur \vec{u} de la droite \mathcal{D} .
- b. Montrer que le point $B(-1; 3; 0)$ appartient à la droite \mathcal{D} .
- c. Calculer le produit scalaire $\overrightarrow{AB} \cdot \vec{u}$.
2. On note \mathcal{P} le plan passant par le point A et orthogonal à la droite \mathcal{D} , et on appelle H le point d'intersection du plan \mathcal{P} et de la droite \mathcal{D} . Ainsi, H est le projeté orthogonal de A sur la droite \mathcal{D} .
- a. Montrer que le plan \mathcal{P} admet pour équation cartésienne : $2x - y + 2z - 3 = 0$.
- b. En déduire que le point H a pour coordonnées $\left(\frac{7}{9}; \frac{19}{9}; \frac{16}{9}\right)$.
- c. Calculer la longueur AH . On donnera une valeur exacte.
3. Dans cette question, on se propose de retrouver les coordonnées du point H , projeté orthogonal du point A sur la droite \mathcal{D} , par une autre méthode.

On rappelle que le point $B(-1; 3; 0)$ appartient à la droite \mathcal{D} et que le vecteur \vec{u} est un vecteur directeur de la droite \mathcal{D} .

- a. Justifier qu'il existe un nombre réel k tel que $\overrightarrow{HB} = k\vec{u}$.
 - b. Montrer que $k = \frac{\overrightarrow{AB} \cdot \vec{u}}{\|\vec{u}\|^2}$.
 - c. Calculer la valeur du nombre réel k et retrouver les coordonnées du point H .
 4. On considère un point C appartenant au plan \mathcal{P} tel que le volume du tétraèdre $ABCH$ soit égal à $\frac{8}{9}$. Calculer l'aire du triangle ACH .
- On rappelle que le volume d'un tétraèdre est donné par : $V = \frac{1}{3} \times \mathcal{B} \times h$ où \mathcal{B} désigne l'aire d'une base et h la hauteur relative à cette base.

Exercice 3 (7 points)

Thème : probabilités

Le directeur d'une grande entreprise a proposé à l'ensemble de ses salariés un stage de formation à l'utilisation d'un nouveau logiciel.

Ce stage a été suivi par 25 % des salariés.

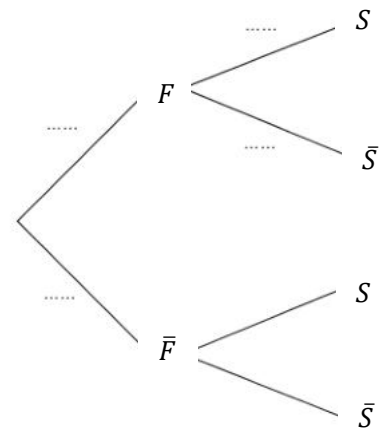
1. Dans cette entreprise, 52 % des salariés sont des femmes, parmi lesquelles 40 % ont suivi le stage.

On interroge au hasard un salarié de l'entreprise et on considère les événements :

- F : « le salarié interrogé est une femme »,
- S : « le salarié interrogé a suivi le stage ».

\bar{F} et \bar{S} désignent respectivement les événements contraires des événements F et S .

- Donner la probabilité de l'événement S .
- Recopier et compléter les pointillés de l'arbre pondéré ci-contre sur les quatre branches indiquées.
- Démontrer que la probabilité que la personne interrogée soit une femme ayant suivi le stage est égale à 0,208.
- On sait que la personne interrogée a suivi le stage. Quelle est la probabilité que ce soit une femme ?
- Le directeur affirme que, parmi les hommes salariés de l'entreprise, moins de 10 % ont suivi le stage. Justifier l'affirmation du directeur.



2. On note X la variable aléatoire qui à un échantillon de 20 salariés de cette entreprise choisis au hasard associe le nombre de salariés de cet échantillon ayant suivi le stage. On suppose que l'effectif des salariés de l'entreprise est suffisamment important pour assimiler ce choix à un tirage avec remise.

- Déterminer, en justifiant, la loi de probabilité suivie par la variable aléatoire X .
- Déterminer, à 10^{-3} près, la probabilité que 5 salariés dans un échantillon de 20 aient suivi le stage.
- Le programme ci-contre, écrit en langage Python, utilise la fonction **binomiale**(i, n, p) créée pour l'occasion qui renvoie la valeur de la probabilité $P(X = i)$ dans le cas où la variable aléatoire X suit une loi binomiale de paramètres n et p .

```
def proba(k):  
    P=0  
    for i in range(0,k+1):  
        P=P+binomiale(i,20,0.25)  
    return P
```

Déterminer, à 10^{-3} près, la valeur renvoyée par ce programme lorsque l'on saisit proba(5) dans la console Python. Interpréter cette valeur dans le contexte de l'exercice.

- Déterminer, à 10^{-3} près, la probabilité qu'au moins 6 salariés dans un échantillon de 20 aient suivi le stage.

3. Cette question est indépendante des questions 1 et 2.

Pour inciter les salariés à suivre le stage, l'entreprise avait décidé d'augmenter les salaires des salariés ayant suivi le stage de 5%, contre 2% d'augmentation pour les salariés n'ayant pas suivi le stage.

Quel est le pourcentage moyen d'augmentation des salaires de cette entreprise dans ces conditions ?

Exercice 4 (7 points)

Thème : fonctions numériques

Cet exercice est un questionnaire à choix multiple.

Pour chaque question, une seule des quatre réponses proposées est exacte. Le candidat indiquera sur sa copie le numéro de la question et la réponse choisie. Aucune justification n'est demandée.

Une réponse fausse, une réponse multiple ou l'absence de réponse à une question ne rapporte ni n'enlève de point.

Les six questions sont indépendantes.

1. La courbe représentative de la fonction f définie sur \mathbb{R} par $f(x) = \frac{-2x^2+3x-1}{x^2+1}$ admet pour asymptote la droite d'équation :

- a. $x = -2$;
- b. $y = -1$;
- c. $y = -2$;
- d. $y = 0$.

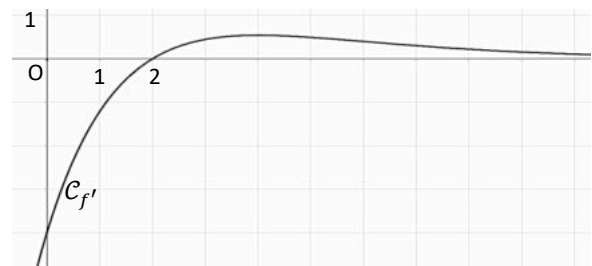
2. Soit f la fonction définie sur \mathbb{R} par $f(x) = xe^{x^2}$.
La primitive F de f sur \mathbb{R} qui vérifie $F(0) = 1$ est définie par :

- a. $F(x) = \frac{x^2}{2}e^{x^2}$;
- b. $F(x) = \frac{1}{2}e^{x^2}$;
- c. $F(x) = (1 + 2x^2)e^{x^2}$;
- d. $F(x) = \frac{1}{2}e^{x^2} + \frac{1}{2}$.

3. On donne ci-dessous la représentation graphique $\mathcal{C}_{f'}$ de la fonction dérivée f' d'une fonction f définie sur \mathbb{R} .

On peut affirmer que la fonction f est :

- a. concave sur $]0; +\infty[$;
- b. convexe sur $]0; +\infty[$;
- c. convexe sur $[0; 2]$;
- d. convexe sur $[2; +\infty[$.



4. Parmi les primitives de la fonction f définie sur \mathbb{R} par $f(x) = 3e^{-x^2} + 2$:

- a. toutes sont croissantes sur \mathbb{R} ;
- b. toutes sont décroissantes sur \mathbb{R} ;
- c. certaines sont croissantes sur \mathbb{R} et d'autres décroissantes sur \mathbb{R} ;
- d. toutes sont croissantes sur $]-\infty; 0]$ et décroissantes sur $[0; +\infty[$.

5. La limite en $+\infty$ de la fonction f définie sur l'intervalle $]0; +\infty[$ par $f(x) = \frac{2\ln x}{3x^2+1}$ est égale à :

- a. $\frac{2}{3}$;
- b. $+\infty$;
- c. $-\infty$;
- d. 0 .

6. L'équation $e^{2x} + e^x - 12 = 0$ admet dans \mathbb{R} :

- a. trois solutions ;
- b. deux solutions ;
- c. une seule solution ;
- d. aucune solution.

BACCALAURÉAT GÉNÉRAL

ÉPREUVE D'ENSEIGNEMENT DE SPÉCIALITÉ

SESSION 2022

MATHÉMATIQUES

Jeudi 12 mai 2022

Durée de l'épreuve : **4 heures**

*L'usage de la calculatrice avec mode examen actif est autorisé.
L'usage de la calculatrice sans mémoire, « type collègue » est autorisé.*

Dès que ce sujet vous est remis, assurez-vous qu'il est complet.
Ce sujet comporte 7 pages numérotées de 1/7 à 7/7.

Le sujet propose 4 exercices.

Le candidat choisit 3 exercices parmi les 4 exercices et **ne doit traiter que ces 3 exercices**

Chaque exercice est noté sur **7 points (le total sera ramené sur 20 points)**.

Les traces de recherche, même incomplètes ou infructueuses, seront prises en compte

Exercice 1 (7 points)

Thème : probabilités

Le coyote est un animal sauvage proche du loup, qui vit en Amérique du Nord.

Dans l'état d'Oklahoma, aux États-Unis, 70 % des coyotes sont touchés par une maladie appelée ehrlichiose.

Il existe un test aidant à la détection de cette maladie. Lorsque ce test est appliqué à un coyote, son résultat est soit positif, soit négatif, et on sait que:

- Si le coyote est malade, le test est positif dans 97 % des cas.
- Si le coyote n'est pas malade, le test est négatif dans 95% des cas.

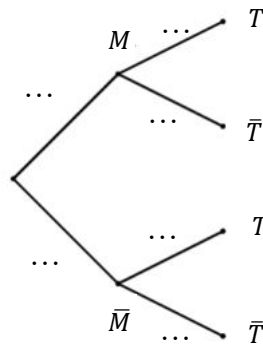
Partie A

Des vétérinaires capturent un coyote d'Oklahoma au hasard et lui font subir un test pour l'ehrlichiose. On considère les événements suivants :

- M : « le coyote est malade » ;
- T : « le test du coyote est positif ».

On note \bar{M} et \bar{T} respectivement les événements contraires de M et T .

1. Recopier et compléter l'arbre pondéré ci-dessous qui modélise la situation.



2. Déterminer la probabilité que le coyote soit malade et que son test soit positif.
3. Démontrer que la probabilité de T est égale à 0,694.
4. On appelle « valeur prédictive positive du test » la probabilité que le coyote soit effectivement malade sachant que son test est positif.
Calculer la valeur prédictive positive du test. On arrondira le résultat au millième.
5. a. Par analogie avec la question précédente, proposer une définition de la « valeur prédictive négative du test », et calculer cette valeur en arrondissant au millième.
b. Comparer les valeurs prédictives positive et négative du test, et interpréter.

Partie B

On rappelle que la probabilité qu'un coyote capturé au hasard présente un test positif est de 0,694.

1. Lorsqu'on capture au hasard cinq coyotes, on assimile ce choix à un tirage avec remise.
On note X la variable aléatoire qui à un échantillon de cinq coyotes capturés au hasard associe le nombre de coyotes dans cet échantillon ayant un test positif.
 - a. Quelle est la loi de probabilité suivie par X ? Justifier et préciser ses paramètres.
 - b. Calculer la probabilité que dans un échantillon de cinq coyotes capturés au hasard, un seul ait un test positif. On arrondira le résultat au centième.
 - c. Un vétérinaire affirme qu'il y a plus d'une chance sur deux qu'au moins quatre coyotes sur cinq aient un test positif : cette affirmation est-elle vraie ? Justifier la réponse.
2. Pour tester des médicaments, les vétérinaires ont besoin de disposer d'un coyote présentant un test positif. Combien doivent-ils capturer de coyotes pour que la probabilité qu'au moins l'un d'entre eux présente un test positif soit supérieure à 0,99 ?

Exercice 2 (7 points)

Thèmes : fonctions numériques et suites

Cet exercice est un questionnaire à choix multiples. Pour chacune des questions suivantes, une seule des quatre réponses proposées est exacte. Une réponse fautive, une réponse multiple ou l'absence de réponse à une question ne rapporte ni n'enlève de point.

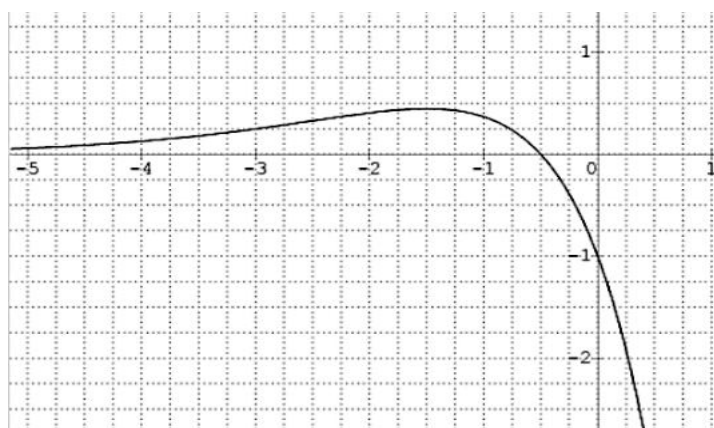
Pour répondre, indiquer sur la copie le numéro de la question et la lettre de la réponse choisie. Aucune justification n'est demandée.

Pour les questions 1 à 3 ci-dessous, on considère une fonction f définie et deux fois dérivable sur \mathbb{R} .

La courbe de sa fonction dérivée f' est donnée ci-dessous.

On admet que f' admet un maximum en $-\frac{3}{2}$ et que sa courbe coupe l'axe des abscisses au point de coordonnées $(-\frac{1}{2}; 0)$.

On rappelle que la courbe ci-dessous représente la fonction dérivée f' de f .



Question 1 :

- a. La fonction f admet un maximum en $-\frac{3}{2}$;
- b. La fonction f admet un maximum en $-\frac{1}{2}$;
- c. La fonction f admet un minimum en $-\frac{1}{2}$;
- d. Au point d'abscisse -1 , la courbe de la fonction f admet une tangente horizontale.

Question 2 :

- a. La fonction f est convexe sur $] -\infty; -\frac{3}{2} [$;
- b. La fonction f est convexe sur $] -\infty; -\frac{1}{2} [$;
- c. La courbe \mathcal{C}_f représentant la fonction f n'admet pas de point d'inflexion ;
- d. La fonction f est concave sur $] -\infty; -\frac{1}{2} [$.

Question 3 :

La dérivée seconde f'' de la fonction f vérifie :

- a. $f''(x) \geq 0$ pour $x \in]-\infty; \frac{-1}{2} [$;
- b. $f''(x) \geq 0$ pour $x \in [-2; -1]$;
- c. $f''(\frac{-3}{2}) = 0$;
- d. $f''(-3) = 0$.

Question 4 : On considère trois suites (u_n) , (v_n) et (w_n) .

On sait que, pour tout entier naturel n , on a : $u_n \leq v_n \leq w_n$ et de plus : $\lim_{n \rightarrow +\infty} u_n = 1$ et $\lim_{n \rightarrow +\infty} w_n = 3$.

On peut alors affirmer que :

- a. La suite (v_n) converge ;
- b. Si la suite (u_n) est croissante alors la suite (v_n) est minorée par u_0 ;
- c. $1 \leq v_0 \leq 3$;
- d. La suite (v_n) diverge.

Question 5 :

On considère une suite (u_n) telle que, pour tout entier naturel n non nul : $u_n \leq u_{n+1} \leq \frac{1}{n}$.
On peut alors affirmer que :

- a. La suite (u_n) diverge ;
b. La suite (u_n) converge ;
c. $\lim_{n \rightarrow +\infty} u_n = 0$;
d. $\lim_{n \rightarrow +\infty} u_n = 1$.

Question 6 :

On considère (u_n) une suite réelle telle que pour tout entier naturel n , on a : $n < u_n < n + 1$.
On peut affirmer que :

- a. Il existe un entier naturel N tel que u_N est un entier ;
b. La suite (u_n) est croissante ;
c. La suite (u_n) est convergente ;
d. La suite (u_n) n'a pas de limite.

Exercice 3 (7 points)

On considère un cube $ABCDEFGH$ et on appelle K le milieu du segment $[BC]$.

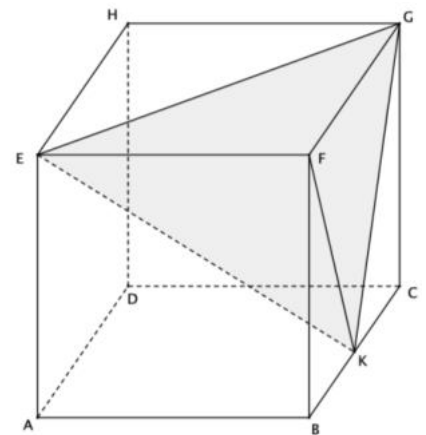
On se place dans le repère $(A; \overrightarrow{AB}, \overrightarrow{AD}, \overrightarrow{AE})$ et on considère le tétraèdre $EFGK$.

On rappelle que le volume d'un tétraèdre est donné par :

$$V = \frac{1}{3} \times B \times h$$

où B désigne l'aire d'une base et h la hauteur relative à cette base.

1. Préciser les coordonnées des points E, F, G et K .
2. Montrer que le vecteur $\vec{n} \begin{pmatrix} 2 \\ -2 \\ 1 \end{pmatrix}$ est orthogonal au plan (EGK) .
3. Démontrer que le plan (EGK) admet pour équation cartésienne : $2x - 2y + z - 1 = 0$.
4. Déterminer une représentation paramétrique de la droite (d) orthogonale au plan (EGK) passant par F .
5. Montrer que le projeté orthogonal L de F sur le plan (EGK) a pour coordonnées $(\frac{5}{9}; \frac{4}{9}; \frac{7}{9})$.
6. Justifier que la longueur LF est égale à $\frac{2}{3}$.
7. Calculer l'aire du triangle EFG . En déduire que le volume du tétraèdre $EFGK$ est égal à $\frac{1}{6}$.
8. Déduire des questions précédentes l'aire du triangle EGK .
9. On considère les points L milieu du segment $[EG]$, M milieu du segment $[EK]$ et N milieu du segment $[GK]$. Déterminer le volume du tétraèdre $FLMN$.

Thème : géométrie dans l'espace

Exercice 4 (7 points)

Thèmes : fonctions numériques, fonction exponentielle

Partie A : études de deux fonctions

On considère les deux fonctions f et g définies sur l'intervalle $[0 ; +\infty[$ par :

$$f(x) = 0,06(-x^2 + 13,7x) \text{ et } g(x) = (-0,15x + 2,2)e^{0,2x} - 2,2.$$

On admet que les fonctions f et g sont dérivables et on note f' et g' leurs fonctions dérivées respectives.

1. On donne le tableau de variations complet de la fonction f sur l'intervalle $[0 ; +\infty[$.

- a. Justifier la limite de f en $+\infty$.
- b. Justifier les variations de la fonction f .
- c. Résoudre l'équation $f(x) = 0$.

x	0	6,85	$+\infty$
$f(x)$	$f(6,85)$ 		

2. a. Déterminer la limite de g en $+\infty$.

- b. Démontrer que, pour tout réel x appartenant à $[0 ; +\infty[$ on a : $g'(x) = (-0,03x + 0,29)e^{0,2x}$.
- c. Étudier les variations de la fonction g et dresser son tableau de variations sur $[0 ; +\infty[$. Préciser une valeur approchée à 10^{-2} près du maximum de g .
- d. Montrer que l'équation $g(x) = 0$ admet une unique solution non nulle et déterminer, à 10^{-2} près, une valeur approchée de cette solution.

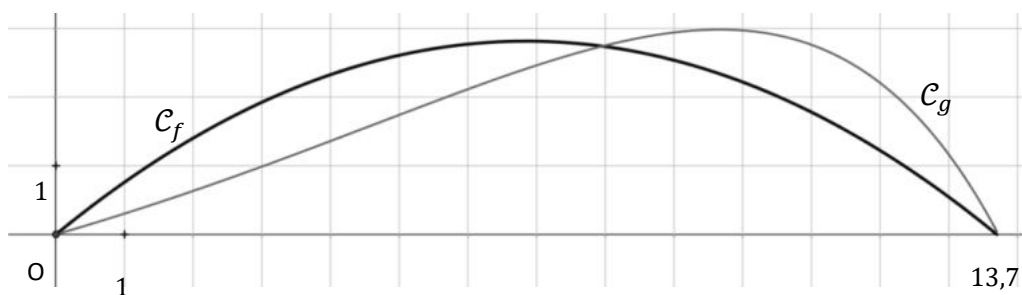
Partie B : trajectoires d'une balle de golf

Pour frapper la balle, un joueur de golf utilise un instrument appelé « club » de golf.

On souhaite exploiter les fonctions f et g étudiées en **Partie A** pour modéliser de deux façons différentes la trajectoire d'une balle de golf. On suppose que le terrain est parfaitement plat.

On admettra ici que 13,7 est la valeur qui annule la fonction f et une approximation de la valeur qui annule la fonction g .

On donne ci-dessous les représentations graphiques de f et g sur l'intervalle $[0; 13,7]$.

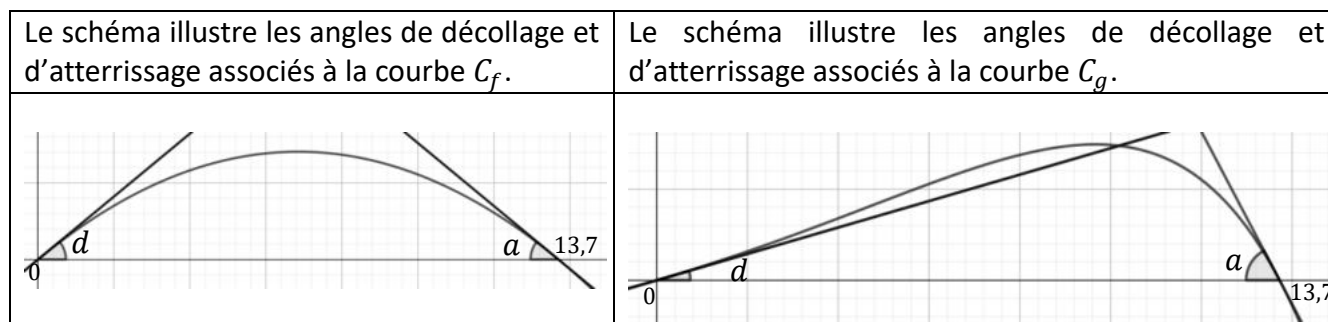


Pour x représentant la distance horizontale parcourue par la balle en dizaine de yards après la frappe, (avec $0 \leq x \leq 13,7$), $f(x)$ (ou $g(x)$ selon le modèle) représente la hauteur correspondante de la balle par rapport au sol, en dizaine de yards (1 yard correspond à environ 0,914 mètre).

On appelle « angle de décollage » de la balle, l'angle entre l'axe des abscisses et la tangente à la courbe (C_f ou C_g selon le modèle) en son point d'abscisse 0. Une mesure de l'angle de décollage de la balle est un nombre réel d tel que $\tan(d)$ est égal au coefficient directeur de cette tangente.

De même, on appelle « angle d'atterrissage » de la balle, l'angle entre l'axe des abscisses et la tangente à la courbe (C_f ou C_g selon le modèle) en son point d'abscisse 13,7. Une mesure de l'angle d'atterrissage de la balle est un nombre réel a tel que $\tan(a)$ est égal à l'opposé du coefficient directeur de cette tangente.

Tous les angles sont mesurés en degré.



1. Première modélisation : on rappelle qu'ici, l'unité étant la dizaine de yards, x représente la distance horizontale parcourue par la balle après la frappe et $f(x)$ la hauteur correspondante de la balle.

Selon ce modèle :

- a. Quelle est la hauteur maximale, en yard, atteinte par la balle au cours de sa trajectoire ?
- b. Vérifier que $f'(0) = 0,822$.
- c. Donner une mesure en degré de l'angle de décollage de la balle, arrondie au dixième. (On pourra éventuellement utiliser le tableau ci-dessous).
- d. Quelle propriété graphique de la courbe C_f permet de justifier que les angles de décollage et d'atterrissage de la balle sont égaux ?

2. Seconde modélisation : on rappelle qu'ici, l'unité étant la dizaine de yards, x représente la distance horizontale parcourue par la balle après la frappe et $g(x)$ la hauteur correspondante de la balle.

Selon ce modèle :

- a. Quelle est la hauteur maximale, en yard, atteinte par la balle au cours de sa trajectoire ?

On précise que $g'(0) = 0,29$ et $g'(13,7) \approx -1,87$.

- b. Donner une mesure en degré de l'angle de décollage de la balle, arrondie au dixième. (On pourra éventuellement utiliser le tableau ci-dessous).
- c. Justifier que 62 est une valeur approchée, arrondie à l'unité près, d'une mesure en degré de l'angle d'atterrissage de la balle.

Tableau : extrait d'une feuille de calcul donnant une mesure en degré d'un angle quand on connaît sa tangente :

▲	A	B	C	D	E	F	G	H	I	J	K	L	M
1	$\tan(\theta)$	0,815	0,816	0,817	0,818	0,819	0,82	0,821	0,822	0,823	0,824	0,825	0,826
2	θ en degrés	39,18	39,21	39,25	39,28	39,32	39,35	39,39	39,42	39,45	39,49	39,52	39,56
3													
4	$\tan(\theta)$	0,285	0,286	0,287	0,288	0,289	0,29	0,291	0,292	0,293	0,294	0,295	0,296
5	θ en degrés	15,91	15,96	16,01	16,07	16,12	16,17	16,23	16,28	16,33	16,38	16,44	16,49

Partie C : interrogation des modèles

À partir d'un grand nombre d'observations des performances de joueurs professionnels, on a obtenu les résultats moyens suivants :

Angle de décollage en degré	Hauteur maximale en yard	Angle d'atterrissage en degré	Distance horizontale en yard au point de chute
24	32	52	137

Quel modèle, parmi les deux étudiés précédemment, semble le plus adapté pour décrire la frappe de la balle par un joueur professionnel ? La réponse sera justifiée.