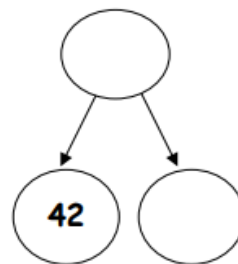
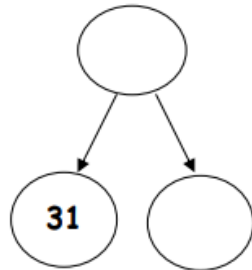
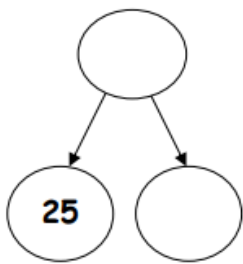
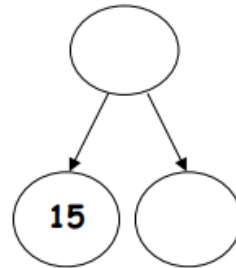
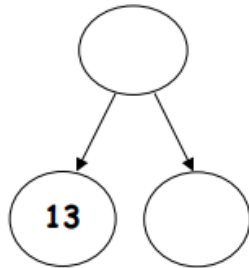
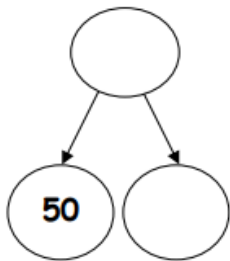


Όνομα:.....

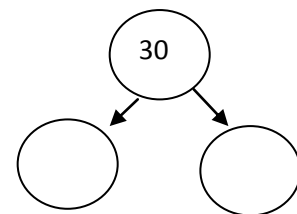
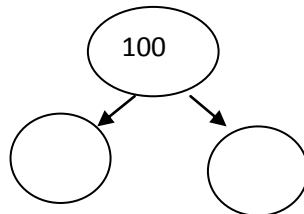
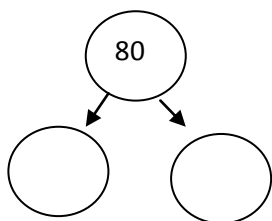
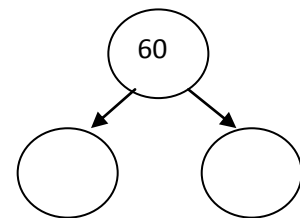
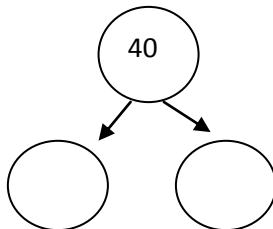
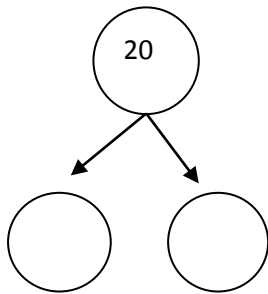
Κεφάλαιο 9 – Βρίσκω το διπλάσιο και το μισό

Ασκήσεις

1.Βρίσκω το διπλάσιο:



2.Βρίσκω το μισό:




Οι μαθητές της Β' τάξης είναι χωρισμένοι σε δυο τμήματα, το Β₁ και το Β₂, που έχουν ίσο αριθμό μαθητών. Το Β₁ έχει **16 μαθητές**. Πόσους μαθητές έχει συνολικά η Β' τάξη;

ΛΥΣΗ:



ΖΩΓΡΑΦΙΣΩ:



ΑΠΑΝΤΗΣΗ:

2. Η Αριάδνη έχει ένα καλάθι με 26 πορτοκάλια. Ο Χρήστος έχει ένα καλάθι με ακριβώς τα μισά. Πόσα πορτοκάλια έχει ο Χρήστος; Ζωγράψιέ τα.

