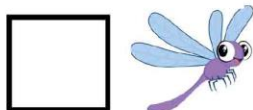






ΠΑΡΑΤΗΡΗΣΗ-ΜΕΤΡΗΣΕΙΣ

Μέτρησε πόσα είναι γράψε στο σωστό κουτί :





ΠΑΡΑΤΗΡΗΣΗ- ΜΕΤΡΗΣΕΙΣ

Μέτρησε τα **άγρια ζώα** και γράψε τον αριθμό στο σωστό κουτί:
















**ΠΑΡΑΤΗΡΗΣΗ- ΜΕΤΡΗΣΕΙΣ- ΓΡΑΦΗΜΑ**

Μέτρησε τα **πτηνά** και γράψε πόσα είναι στο σωστό κουτί.  
 Κατόπιν συμπλήρωσε το γράφημα.

Ποιά είναι τα περισσότερα; \_\_\_\_\_



10				
9				
8				
7				
6				
5				
4				
3				
2				
1				

<input type="text"/>		<input type="text"/>	
<input type="text"/>		<input type="text"/>	








**ΠΑΡΑΤΗΡΗΣΗ- ΜΕΤΡΗΣΕΙΣ- ΓΡΑΦΗΜΑ**

Μέτρησε τα έντομα και γράψε πόσα είναι στο σωστό κουτί.  
Κατόπιν συμπλήρωσε το γράφημα.

Ποια είναι τα λιγότερα; \_\_\_\_\_



10				
9				
8				
7				
6				
5				
4				
3				
2				
1				

