


Κυκλώνω τον σωστό κάθε φορά αριθμό



6 7 8




5 6 7




3 5 2



6 8 9



4 7 5



8 7 6

Ποιος αριθμός λείπει κάθε φορά;



Ποια είναι περισσότερα;

(Χρησιμοποιώ το στόμα του κροκόδειλου ή τις γραμμές της τραμπάλας)

