





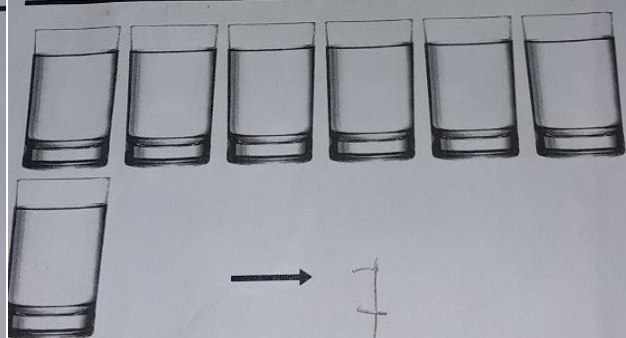
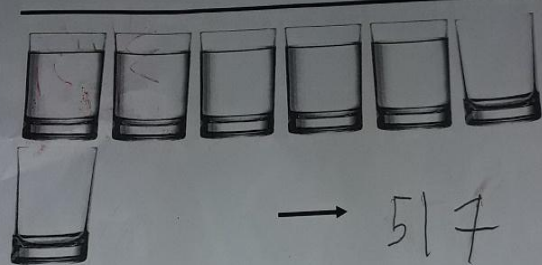
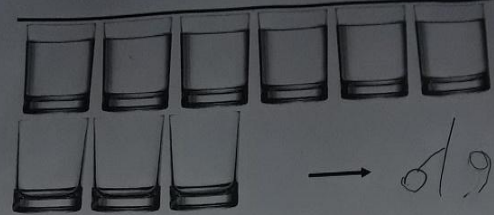
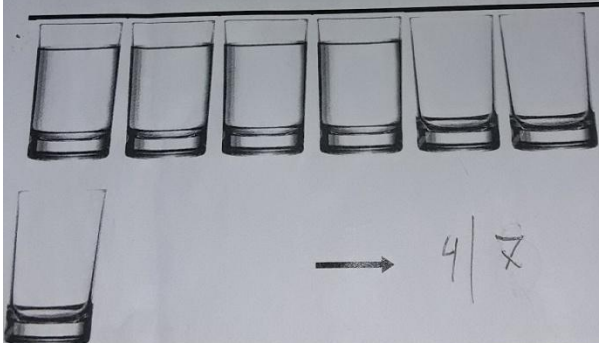




Ο μικρός πρίγκιπας ταξιδεύει από αστεροειδή σε αστεροειδή για να μορφωθεί. Συμπλήρωσε κάθε φορά τον αριθμό του προηγούμενου και επόμενου αστεροειδή.




Ο μικρός πρίγκιπας και ο αεροπόρος περπάτησαν και τελικά βρήκαν ένα τηγάκι και κατάφεραν να ξεδιψάσουν. Σημείωσε κάθε φορά πόση ποσότητα νερού ήτταν.

(π.χ.  ήτταν τα 2 από τα 3, άρα 2/3)



Μπορείς να βρεις τη διαδρομή για να γυρίσει  
ο μικρός πρίγκιπας στον πλανήτη του;



Παρατηρώ τη ζωγραφιά και ενεργοποιώ τη φαντασία μου. Τι μπορεί να είναι αυτό που βλέπω; Πώς θα τη συμπληρώνα;



Μια φορά κι έναν καιρό ήταν ένα αγόρι που του άρεσε πολύ να ζωγραφίζει. Μια μέρα ζωγράφιζε ένα βόα που τρώει έναν έφανα, γιατί είχε διαβάσει σ' ένα βιβλίο πως οι βόες καταπίνουν τη λεία τους ολόκληρη χωρίς να τη μασήσουν. Όταν όμως ξέχξε τη ζωγραφιά του στους μεγάλους, απογοητεύτηκε πολύ γιατί όλοι του έλεξαν ότι είχε ζωγραφίσει ένα καπέλο... (Από «Μικρό πρίγκιπα» του Σαιντ-Εξυτερύ)

4



3

