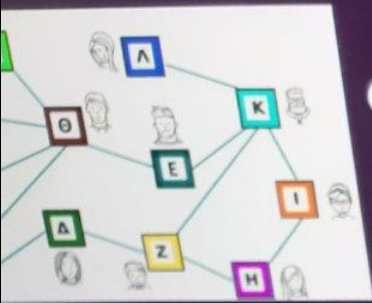


Άλμπουμ φωτογραφιών

του χρήστη Teacher



(Χρόνος bonus 3') Η εικόνα δείχνει πώς επικοινωνούν 12 φίλοι μεταξύ τους. Όταν ένας από αυτούς μάθει ένα νέο, ενημερώνει αυτούς με τους οποίους είναι συνδεδεμένος. Στη συνέχεια αυτοί ενημερώνουν εκείνους με τους οποίους είναι οι ίδιοι συνδεδεμένοι κ.ο.κ. Σε ποιον από όλους τους 12 να πούμε το νέο πρώτα, όταν θέλουμε να μαθευτεί και από τους 12 το γρηγορότερο δυνατά;

Στον Θ

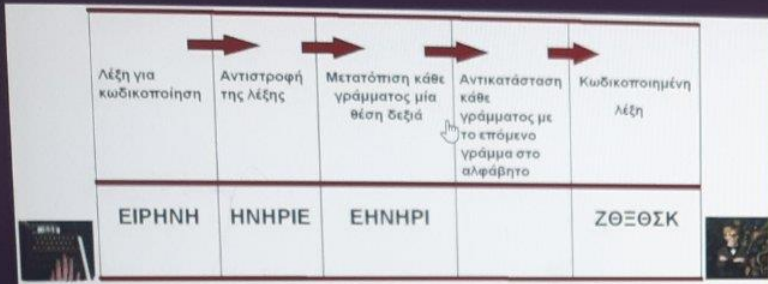
Στον Κ

Στον Ε

Στον Α



6/10



(Χρόνος bonus 3') Σε μία μηχανή κωδικοποίησης που είναι προγραμματισμένη να εκτελεί εντολές, όπως αυτές στην εικόνα, αν μπει σαν είσοδος (input) η λέξη "ΕΙΡΗΝΗ" θα βγει σαν έξοδος (output) η λέξη "ΖΘΞΘΣΚ". Αν η έξοδος της μηχανής είναι "ΕΒΦΣΛΒ" ποια λέξη ήταν η είσοδος;

ΠΙΘΑΝΑ

ΔΑΚΡΥΑ

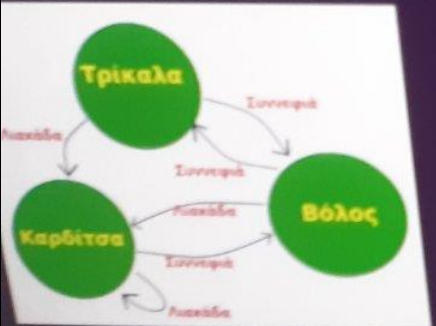
ΓΟΝΕΑΣ

ΑΠΟΥΣΑ

ΜΑΚΡΥΣ

SKIP ▶

PHILIPS



(Χρόνος bonus 3') Στην εικόνα η μετάβαση π.χ. Τρίκαλα -> Συννεφιά -> Βόλος σημαίνει ότι κάποιος που βρίσκεται στα Τρίκαλα, αν έχει συννεφιά, θα μεταβεί στον Βόλο. Έστω όλες οι μετακινήσεις γίνονται με βάση την εικόνα. Οι μετακινήσεις μπορούν να ξεκινήσουν από οποιαδήποτε πόλη και διαρκούν μία ημέρα. Αν δύο μέρες ΔΕΝ έχει τον ίδιο καιρό, σε ποια πόλη ΔΕΝ πρόκειται να φτάσουμε;

1 Βόλος	2 Τρίκαλα	3 Καρδίτσα	4 Σε όλες φτάνουμε
------------	--------------	---------------	-----------------------



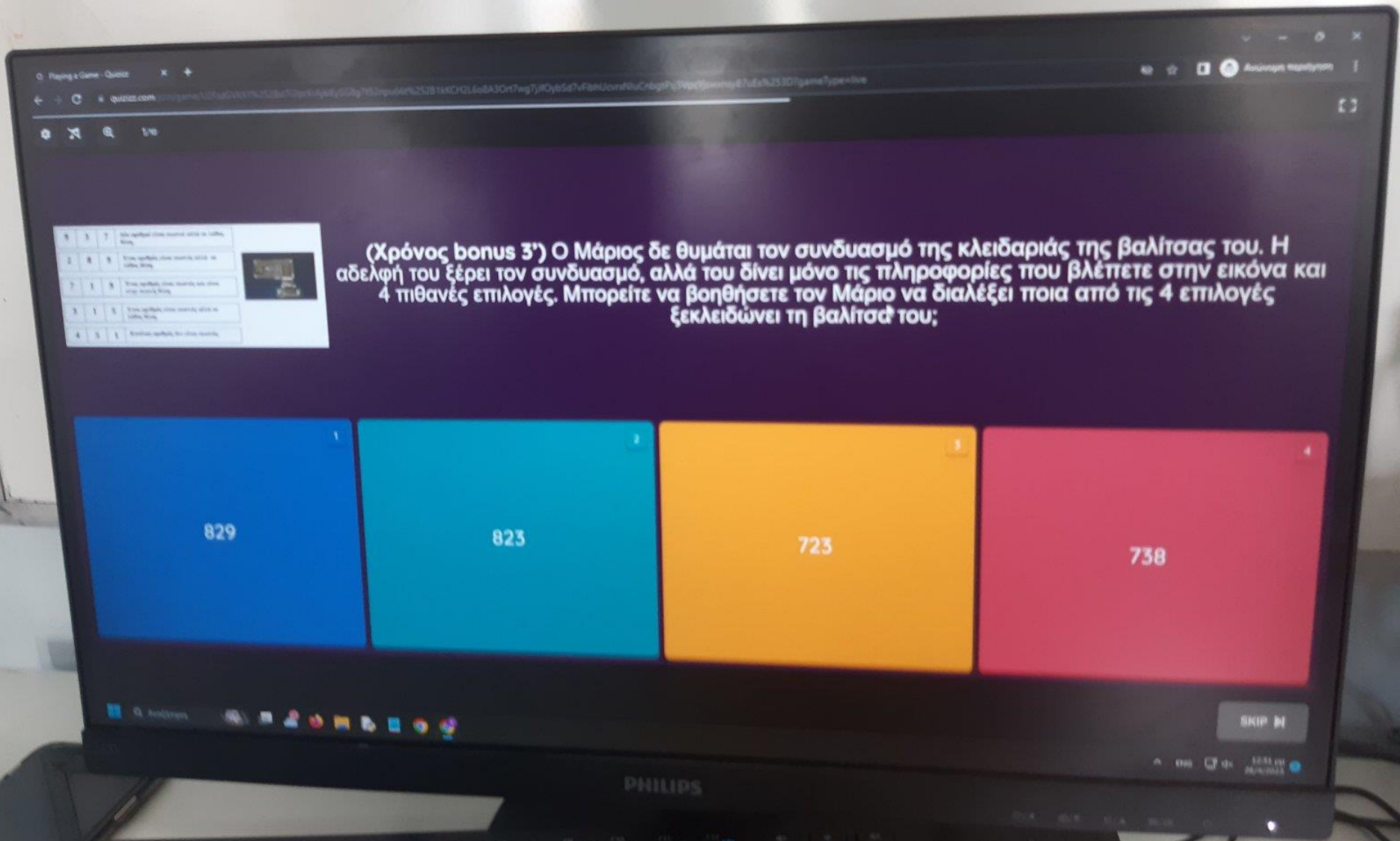
(Χρόνος bonus 1') Ας παίξουμε "Κορώνα" ή "Γράμματα". Ρίχνουμε ένα νόμισμα δύο φορές. Το ποσοστό να φέρουμε το πολύ μία φορά "Γράμματα" είναι:

30%

75%

25%

50%



1	1	1	1	1
2	1	1	1	1
3	1	1	1	1
4	1	1	1	1

(Χρόνος bonus 3') Ο Μάριος δε θυμάται τον συνδυασμό της κλειδαριάς της βαλίτσας του. Η αδελφή του ξέρει τον συνδυασμό, αλλά του δίνει μόνο τις πληροφορίες που βλέπετε στην εικόνα και 4 πιθανές επιλογές. Μπορείτε να βοηθήσετε τον Μάριο να διαλέξει ποια από τις 4 επιλογές ξεκλειδώνει τη βαλίτσα του;

829

823

723

738

SKIP

PHILIPS

10:51 AM 20/10/2023

ΟΔΗΓΙΕΣ

Κινήσου μπροστά μέχρι να φτάσεις σε πολλαπλάσιο του 3

Στρίψε δεξιά

Κινήσου μπροστά

Αν ο αριθμός που βρίσκεσαι είναι μεγαλύτερος του 9 τότε Κινήσου μπροστά

Στρίψε δεξιά




Επανάλαβε 2 φορές Κινήσου μπροστά

Στρίψε αριστερά

Κινήσου μπροστά

1	12	2	9
8	7	8	11
12	10	4	6
2	10	15	14

(Χρόνος bonus 3') Πλοηγούμεστε στο 4x4 ταμπλό της εικόνας με βάση τις οδηγίες. Με την Κινήσου μπροστά γίνεται μετακίνηση στο διπλανό κελί από εκεί που είμαστε. Όταν ακολουθήσουμε όλες τις εντολές σε ποιο κελί θα καταλήξουμε;



SKIP



PHILIPS

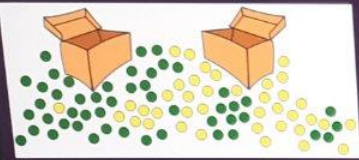
223V

Playing a Game - Quizizz

quizizz.com/join/game/U2FsdGVhX1%252BfakG2H2WKM85GxHh%252F6v%252Fz5WzA546xhAm293pPw8ZQUduY59%252FOHvTL0kQXIRyeT7EGD7ok3H5LO5miTbdeWinvTDYsW0bKHPs1DUBRjYCWZpmFEnIgameType=iwe

4/10

Ανώνυμη περιήγηση



(Χρόνος Bonus: 5') Σε ένα κουτί τοποθετούμε 50 κίτρινες μπάλες και σε ένα άλλο κουτί 50 πράσινες μπάλες. Θέλουμε να ανακατέψουμε τις μπάλες στα δύο κουτιά ώστε όταν τραβήξουμε μία μπάλα από ένα κουτί να έχουμε τη μέγιστη πιθανότητα να είναι πράσινη. Ποιος από τους παρακάτω τρόπους είναι ο σωστός;

να τοποθετήσουμε 25 κίτρινες μπάλες στο κουτί με τις πράσινες

να τοποθετήσουμε 49 πράσινες στο κουτί με τις κίτρινες μπάλες

να τοποθετήσουμε όλες τις μπάλες σε ένα κουτί

να τοποθετήσουμε τις 49 κίτρινες στο κουτί με τις πράσινες

SKIP

PHILIPS

Windows taskbar with search bar and icons for various applications.

323V





Οδηγίες



- (1) Είτε η Μαρία είτε η Όλγα ασχολούνται με την κεραμική, αλλά ποτέ και οι δύο ταυτόχρονα.
- (2) Όταν η Μαρία ασχολείται με την κεραμική, ο Πέτρος ασχολείται με την φωτογραφία.
- (3) Ο Πέτρος και η Όλγα ποτέ δεν ασχολούνται και οι δύο με το ίδιο hobby.

Με ποιο hobby ασχολείται ο καθένας;

- | | | | |
|----|-------------------|--------------------|------------------|
| A. | Μαρία: Κεραμική | Πέτρος: Φωτογραφία | Όλγα: Κεραμική |
| B. | Μαρία: Φωτογραφία | Πέτρος: Φωτογραφία | Όλγα: Κεραμική |
| Γ. | Μαρία: Κεραμική | Πέτρος: Κεραμική | Όλγα: Φωτογραφία |
| Δ. | Μαρία: Φωτογραφία | Πέτρος: Κεραμική | Όλγα: Φωτογραφία |

Ο. Οκρόνος (bonus 3') Τρεις φίλοι, η Μαρία, η Όλγα και ο Πέτρος στον ελεύθερο χρόνο τους ασχολούνται με τη Φωτογραφία και την Κεραμική. Ποτέ όμως δεν ασχολούνται και οι τρεις με το ίδιο hobby. Λαμβάνοντας υπόψη τις οδηγίες της εικόνας, με ποιο hobby ασχολείται ο κάθε ένας από τους τρεις φίλους όταν συναντούνται και οι τρεις μαζί;

Playing a Game - Quizizz

quizizz.com/join/game/U2FsdGVkX1%2528stTGiprXrAjkEYSG8g715Znpu66t%252B1kKCH2L6a8A3Ort7wg7JlOybSd7vFibhUcvrxNluCnbgTPsj5VpcYjswxnsy87uEs%253D?gameType=live

Ανώνυμη περιήγηση

Το ελληνικό Νομισματοκοπείο θα εκδώσει για το 2023 αναμνηστικά κέρματα δύο τύπων:

- Τύπος Α +150 χρόνια από τη γέννηση του Κωνσταντίνου Καραθεοδωρίδη, ονομαστικής αξίας 2€
- Τύπος Β +20 χρόνια από το θάνατο του Αυτοῦ το Σαρραφάκη, ονομαστικής αξίας 6€ (αργυρό συλλεκτικό νόμισμα)

(Χρόνος bonus 3') Η Μαρία παίζει σε ένα τηλεπαιχνίδι 40 ερωτήσεων έχοντας ένα επαρκή ποσό χρημάτων σε νομίσματα τύπου Α και Β. Για κάθε σωστή απάντηση, κερδίζει ένα (1) νόμισμα τύπου Β. Για κάθε λάθος απάντηση χάνει δύο (2) νομίσματα τύπου Α. Στο τέλος του παιχνιδιού η Μαρία έχει το ποσό που είχε στην αρχή! Σε πόσες ερωτήσεις απάντησε σωστά;

24	10	16	30
----	----	----	----

SKIP

PHILIPS



Question Image



9	3	7	Δύο αριθμοί είναι σωστοί αλλά σε λάθος θέση.
2	8	9	Ένας αριθμός είναι σωστός αλλά σε λάθος θέση.
7	1	9	Ένας αριθμός είναι σωστός και είναι στην σωστή θέση.
3	1	5	Ένας αριθμός είναι σωστός αλλά σε λάθος θέση.
4	5	1	Κανένας αριθμός δεν είναι σωστός.



Q. (Χρόνος bonus 3') Ο Μάριος δε θυμάται τον συνδυασμό της κλειδαριάς της βαλίτσας του. Η αδελφή του ξέρει τον συνδυασμό, αλλά του δίνει μόνο τις πληροφορίες που βλέπετε στην εικόνα και 4 πιθανές επιλογές. Μπορείτε να βοηθήσετε τον Μάριο να διαλέξει ποια από τις 4 επιλογές ξεκλειδώνει τη βαλίτσα

ΟΔΗΓΙΕΣ

Κινήσου μπροστά μέχρι να φτάσεις σε πολλαπλάσιο του 3

1	12	3	9
6	7	8	11
12	10	4	8
2	18	15	14

Αν ο αριθμός που βρίσκεσαι είναι μεγαλύτερος του 6 τότε Κινήσου μπροστά

Επανέλαβε 2 φορές Κινήσου μπροστά

Επανέλαβε 2 φορές Κινήσου μπροστά

Επανέλαβε 2 φορές Κινήσου μπροστά

(Χρόνος bonus 3') Πλοηγούμαστε στο 4x4 ταμπλό της εικόνας με βάση τις οδηγίες. Με την εντολή Κινήσου μπροστά γίνεται μετακίνηση στο διπλανό κελί από εκεί που είμαστε. Όταν ακολουθήσουμε όλες τις εντολές σε ποιο κελί θα καταλήξουμε;





(Χρόνος bonus 3') Έχουμε τέσσερα διαφορετικά χαρτονομίσματα (των 20€, 50€, 100€ και 200€) μέσα σε τέσσερις φακέλους. Ζητήθηκε από 25 ανθρώπους να μαντέψουν ποιο χαρτονόμισμα βρίσκεται σε κάθε φάκελο. 6 άνθρωποι δεν μάντεψαν κανένα σωστά, 7 μάντεψαν ένα σωστά, 5 μάντεψαν δύο σωστά. Πόσοι άνθρωποι μάντεψαν και τα τέσσερα σωστά;

1
1 άνθρωπος

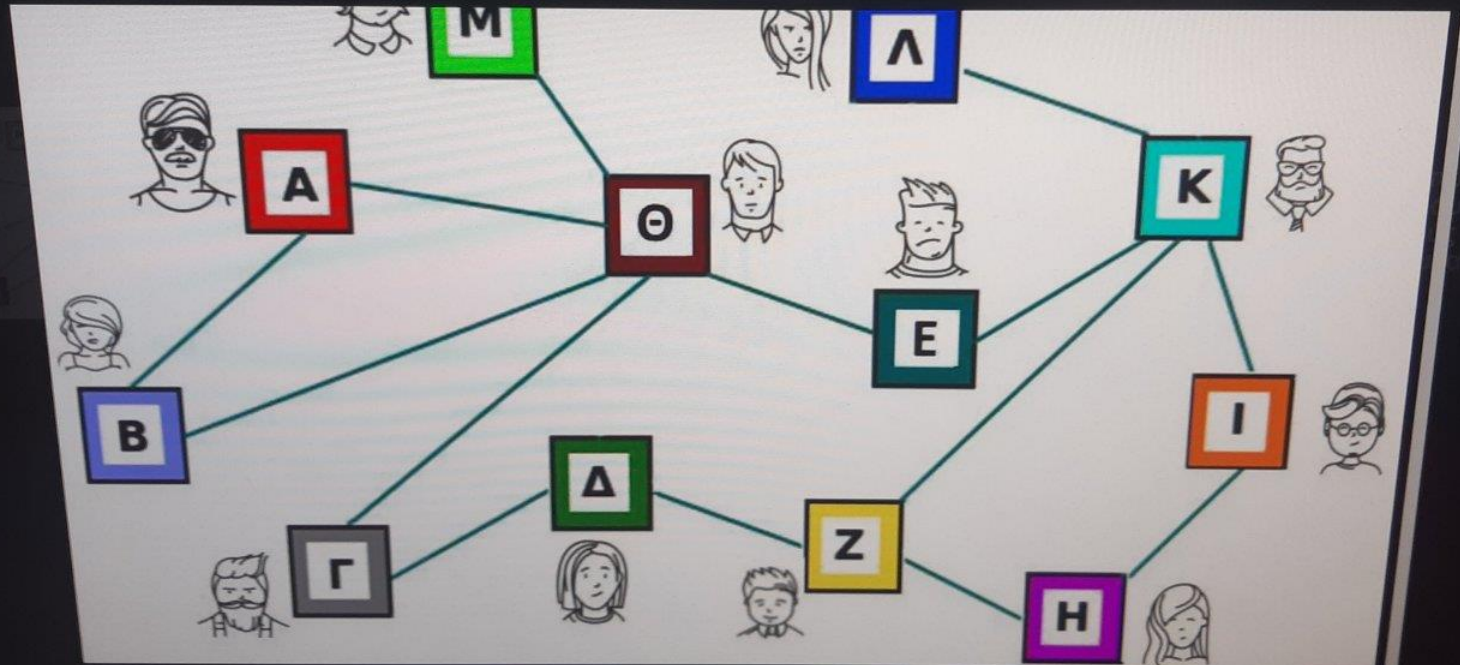
2
5 άνθρωποι

3
7 άνθρωποι

4
Κανένας άνθρωπος

SKIP

Question Image



Q. (Χρόνος bonus 3') Η εικόνα δείχνει πώς επικοινωνούν 12 φίλοι μεταξύ τους. Όταν ένας από αυτούς μαγειρεύει ένα νέο, ενημερώνει αυτούς με τους οποίους είναι συνδεδεμένος. Στη συνέχεια αυτοί ενημερώνουν εκείνους με τους οποίους είναι οι ίδιοι συνδεδεμένοι κ.α.κ. Σε ποιον από όλους πρέπει να πομπό το νέο πρώτα, όταν θέλουμε να μαγειρέψουμε και από τους 12 το γρηγορότερο δυνατό;