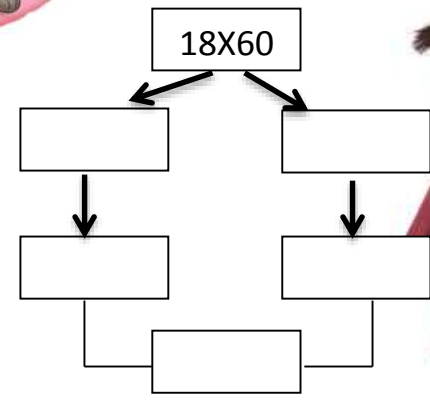
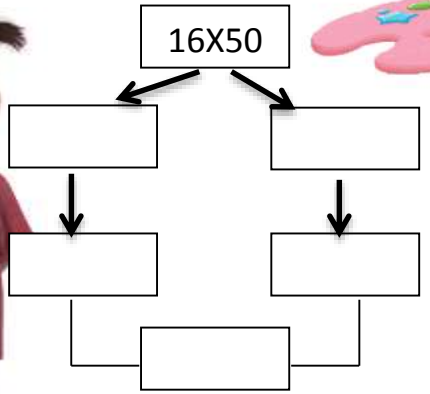
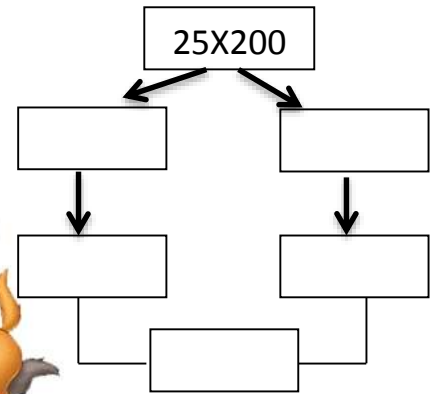
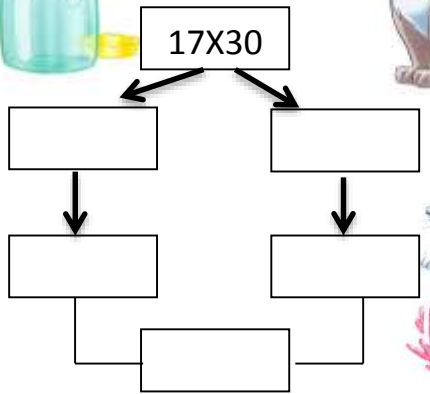
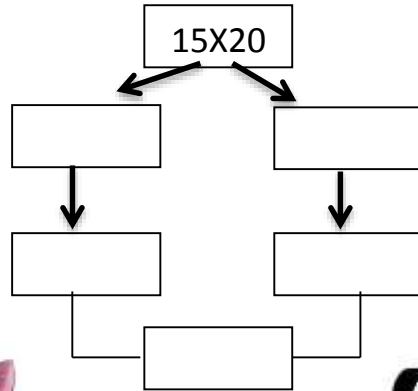
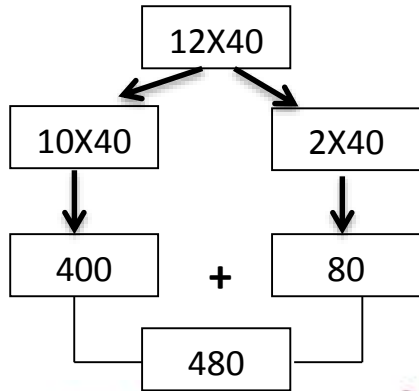


Όνομα:.....

Υπολόγισε τα παρακάτω γινόμενα σύμφωνα με το παράδειγμα:



Συμπλήρωσε τα αποτελέσματα:

$2 \times 11 = \dots\dots$

$3 \times 11 = \dots\dots$

$4 \times 11 = \dots\dots$

$5 \times 11 = \dots\dots$

$5 \times 11 = \dots\dots$

$6 \times 11 = \dots\dots$

$7 \times 11 = \dots\dots$

$8 \times 11 = \dots\dots$

$1 \times 12 = \dots\dots\dots$

$2 \times 12 = \dots\dots\dots$

$3 \times 12 = \dots\dots\dots$

$4 \times 12 = \dots\dots\dots$

$5 \times 12 = \dots\dots\dots$

$6 \times 12 = \dots\dots\dots$

$7 \times 12 = \dots\dots\dots$

$8 \times 12 = \dots\dots\dots$

$9 \times 12 = \dots\dots\dots$

$10 \times 12 = \dots\dots\dots$

$9 \times 11 = \dots\dots\dots$

$10 \times 11 = \dots\dots\dots$

Σ' ένα περιβόλι είναι φυτεμένες 8 σειρές πορτοκαλιές. Σε κάθε σειρά υπάρχουν 35 πορτοκαλιές. Πόσες πορτοκαλιές έχει το περιβόλι;



Απάντηση:.....

Ο χρόνος έχει 12 μήνες. Ο Γιάννης είναι 13 χρονών. Πόσων μηνών είναι;



Απάντηση :.....

Η εβδομάδα έχει 7 ημέρες και ο χρόνος έχει 52 εβδομάδες. Πόσες μέρες έχει ο χρόνος;



Απάντηση:.....

Το ύψος του Ολύμπου είναι 2.917 μέτρα και το ύψος του Ψηλορείτη της Κρήτης 2.456 μέτρα. Ποια είναι η διαφορά ύψους των δυο βουνών;



Απάντηση :.....