











A.5.1. Ποσοστά

1. Να συμπληρώσεις τον παρακάτω πίνακα όπως στο πρώτο παράδειγμα:

		Κλάσμα	Δεκαδικός	Ποσοστό
1		$\frac{55}{100}$	0,55	55%
2				
3				
4				
5				
6				
7				
8				
9				
10				

2. Να συμπληρώσεις τον πίνακα:

α/α	Ποσοστό	Κλάσμα με παρονομαστή το 100	Δεκαδικός
1.	30%	$\frac{30}{100}$ ή $\frac{3}{10}$	0,30 ή 0,3
2.	45%		
3.	10%		
4.	1%		
5.		$\frac{2}{5}$	
6.		$\frac{3}{25}$	
7.		$\frac{7}{50}$	
8.		$\frac{4}{200}$	
9.			0,15
10.			0,7

3. Να συμπληρώσεις τον παρακάτω πίνακα:

Ποσοστό	Δεκαδική μορφή ποσοστού	Κλασματική μορφή ποσοστού
12%		
25%		
	0,07	
	0,13	
		$\frac{47}{100}$
		$\frac{25}{100}$
		$\frac{1}{4}$
		$\frac{3}{20}$
		$\frac{4}{5}$