

2^ο ΦΥΛΛΟ ΕΡΓΑΣΙΑΣ ΒΙΟΛΟΓΙΑ

Καλημέρα παιδιά,

Πώς είστε σήμερα?

Ελπίζω όλοι καλά!!!!

Θα ήθελα να σας ενημερώσω ότι στην παρακάτω ηλεκτρονική διεύθυνση μπορείτε να βρείτε το βιβλίο της Βιολογίας, σε περίπτωση που δεν το έχετε μαζί σας.

ebooks.edu.gr/modules/ebook/show.php/DSGL-A105/321/2155,7803

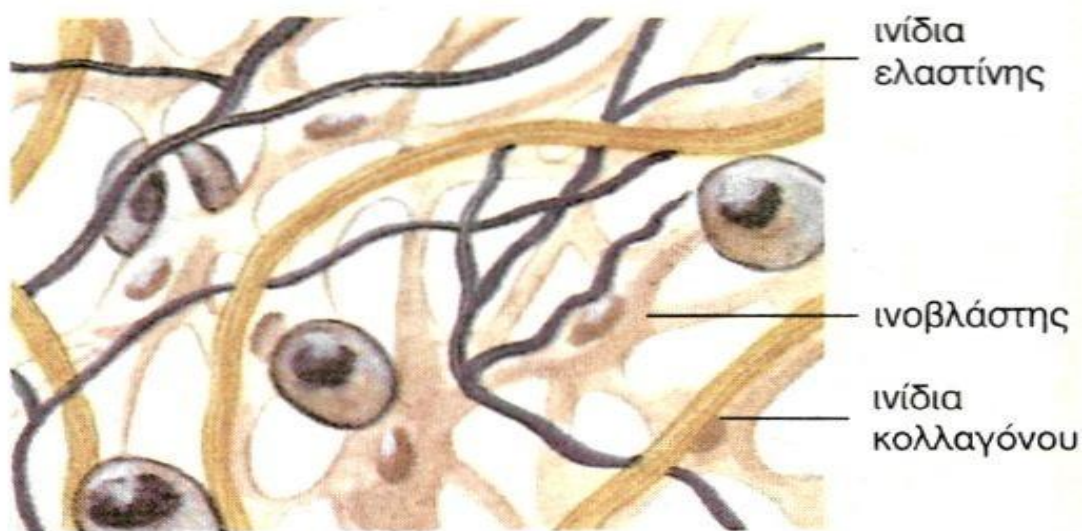
Στο κεφάλαιο 1. ΑΠΟ ΤΟ ΚΥΤΤΑΡΟ ΣΤΟΝ ΟΡΓΑΝΙΣΜΟ

ΚΥΤΤΑΡΑ ΚΑΙ ΙΣΤΟΙ

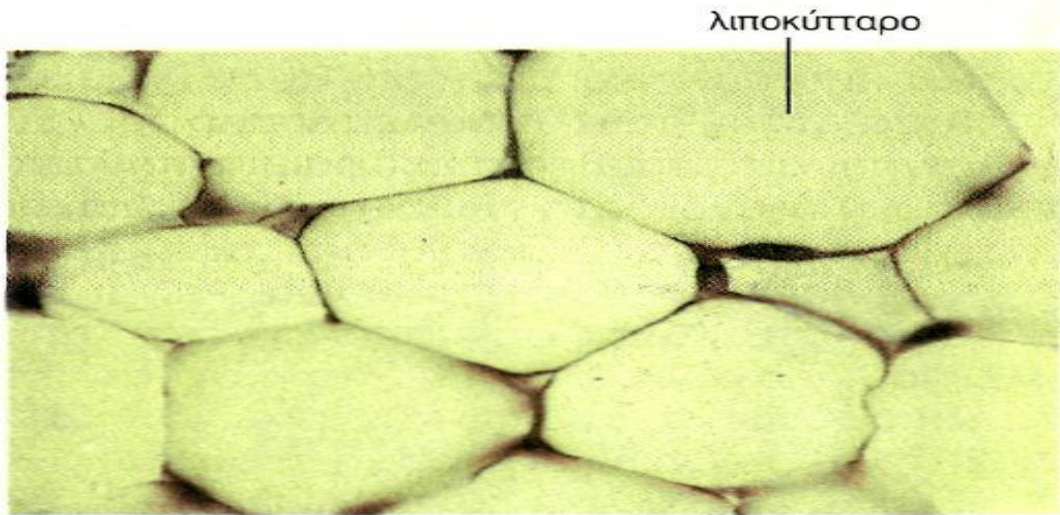
Βρίσκονται οι παρακάτω εικόνες

Αφού τις παρατηρήσετε προσεκτικά γράψτε κάτω από την καθεμία αυτό που ζητάει.

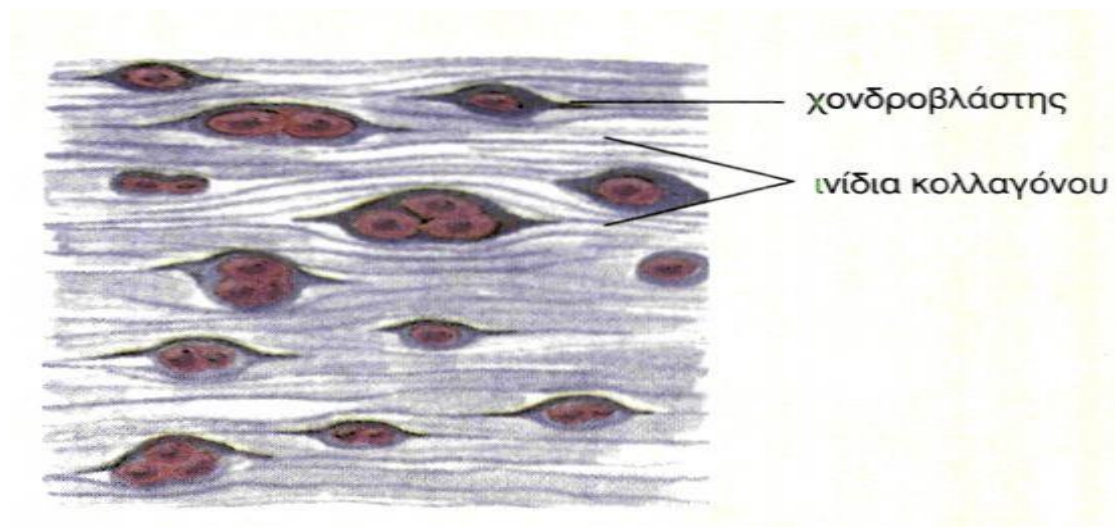
Μπορείτε να γράψετε τις απαντήσεις στο τετράδιο σας.



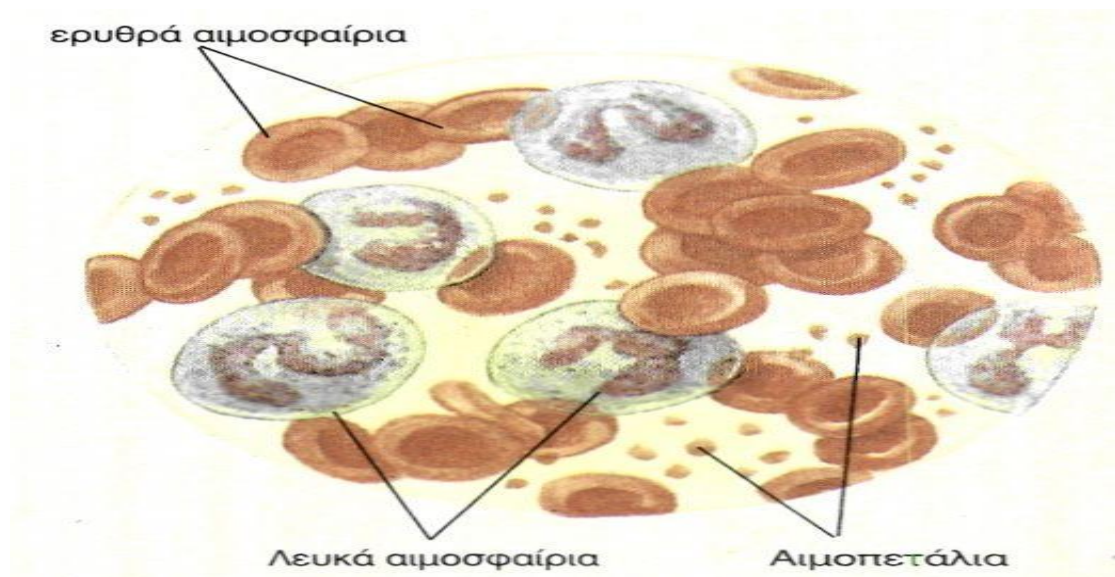
1. Ποιον ιστό παριστάνει η εικόνα?
2. Που συναντάμε κυρίως αυτόν τον ιστό?



3. Ποιον ιστό παριστάνει η εικόνα?
4. Πώς λέγονται τα κύτταρα που υπάρχουν σε αυτόν τον ιστό και τι αποθηκεύουν?



5. Ποιον ιστό παριστάνει η εικόνα?
6. Πού συναντάται αυτός ο ιστός?



7. Πού υπάρχουν τα παραπάνω που περιγράφονται στην εικόνα? (σε ιστό, στο αίμα, στα κόκκαλα?)

8. Τι τύπος ιστού θεωρείται από τους περισσότερους επιστήμονες το αίμα?

Σας εύχομαι καλή συνέχεια

Η καθηγήτριά σας

Μπαρμπεράκη Μαρία