

Έχει βρεθεί πειραματικά ότι η ακουστότητα L σχετίζεται με την ένταση I με λογαριθμικό τρόπο, σύμφωνα με τον τύπο $L = 10 \cdot \log \frac{I}{I_0}$, όπου I_0 η μικρότερη ένταση ήχου που μπορεί να ακούσει το αυτί του ανθρώπου, και είναι περίπου ίση με $10^{-12} \text{ watt/m}^2$. Να υπολογίσετε την ακουστότητα απλού ήχου έντασης: α) 10^{-6} watt/m^2 και β) δεκαπλάσιας από το I_0 .

§5.3 Προτείνεται να διατεθούν 5 ώρες

Κατ' αντιστοιχία με την εκθετική συνάρτηση, έμφαση θα πρέπει να δοθεί σε προβλήματα και στις ιδιότητες της λογαριθμικής συνάρτησης όπως προκύπτουν από τη γραφική της παράσταση.

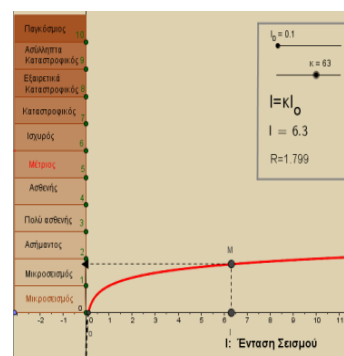
Θα διδαχθούν μόνο οι συναρτήσεις $f(x)=\log x$ και $f(x)=\ln x$. Ωστόσο, για λόγους κατανόησης της σχέσης με την αντίστοιχη εκθετική συνάρτηση, θα μπορούσαν να αναφερθούν και οι λογαριθμικές συναρτήσεις με βάση a , με $0 < a < 1$, σε αυτή την περίπτωση όμως, θα πρέπει να επισημανθεί ότι η διδακτέα ύλη περιορίζεται στις $f(x)=\log x$ και $f(x)=\ln x$. Προτείνεται να συζητηθούν μόνο οι ασκήσεις: 2, 4, 7 και 8 της Α' Ομάδας.

Να μη διδαχθούν οι εξισώσεις, οι ανισώσεις και τα συστήματα της παραγράφου.

Ενδεικτική δραστηριότητα:

Προτείνεται να χρησιμοποιηθεί το μικροπείραμα « Λογαριθμική μεταβολή – Κλίμακα Richter» από τα εμπλουτισμένα σχολικά βιβλία, για την κατανόηση της λογαριθμικής μεταβολής. Με τη βοήθεια του λογισμικού, οι μαθητές από τη γραφική παράσταση της συνάρτησης του μεγέθους ενός σεισμού σε κλίμακα Richter ως προς την έντάσή του, δημιουργούν εικασίες σχετικά με τη σχέση που έχουν αυτά τα δύο μεγέθη και τις αποδεικνύουν αλγεβρικά. Στη συνέχεια, συγκρίνουν τις εντάσεις σεισμών που έχουν συμβεί στο παρελθόν και λύνουν τα προβλήματα γραφικά και αλγεβρικά.

<http://photodentro.edu.gr/v/item/ds/8521/5240>



ΜΑΘΗΜΑΤΙΚΑ: ΓΕΩΜΕΤΡΙΑ

Βιβλία:

1. «Ευκλείδεια Γεωμετρία Α' ΓΕΛ Τεύχος Α'» των Αργυρόπουλου Η., Βλάμου Π., Κατσούλη Γ., Μαρκάτη Σ., Σίδερη Π.
2. «Ευκλείδεια Γεωμετρία Β' ΓΕΛ Τεύχος Β'» των Αργυρόπουλου Η., Βλάμου Π., Κατσούλη Γ., Μαρκάτη Σ., Σίδερη Π.

Διδακτέα-Εξεταστέα Ύλη

Από το βιβλίο «Ευκλείδεια Γεωμετρία Α' ΓΕΛ Τεύχος Α'» των Αργυρόπουλου Η., Βλάμου Π., Κατσούλη Γ., Μαρκάτη Σ., Σίδερη Π.

Κεφ.5ο: Παραλληλόγραμμα – Τραπεζία

- 5.1. Εισαγωγή
- 5.2. Παραλληλόγραμμα (εκτός των αποδείξεων των προτάσεων της υποπαραγράφου «Κριτήρια για παραλληλόγραμμα»)
- 5.3. Ορθογώνιο (εκτός των αποδείξεων των προτάσεων της υποπαραγράφου «Κριτήρια για να είναι ένα τετράπλευρο ορθογώνιο»)
- 5.4. Ρόμβος (εκτός των αποδείξεων των προτάσεων της υποπαραγράφου «Κριτήρια για να είναι ένα τετράπλευρο ρόμβος»)
- 5.5. Τετράγωνο
- 5.6. Εφαρμογές στα τρίγωνα (εκτός των αποδείξεων)
- 5.7. Βαρύκεντρο τριγώνου (εκτός της απόδειξης)
- 5.8. Το ορθόκεντρο τριγώνου (χωρίς το Λήμμα, χωρίς την απόδειξη του θεωρήματος και χωρίς το πόρισμα)
- 5.9. Μια ιδιότητα του ορθογώνιου τριγώνου
- 5.10. Τραπεζίο (χωρίς τις αποδείξεις)
- 5.11. Ισοσκελές τραπέζιο (χωρίς τις αποδείξεις)

Από το βιβλίο «Ευκλείδεια Γεωμετρία Β' ΓΕΛ Τεύχος Β'» των Αργυρόπουλου Η, Βλάμου Π., Κατσούλη Γ., Μαρκάκη Σ. και Σιδέρη Π.

Κεφ. 7ο: Αναλογίες

- 7.1. Εισαγωγή
- 7.4. Ανάλογα ευθύγραμμα τμήματα – Αναλογίες
- 7.5. Μήκος ευθύγραμμου τμήματος
- 7.6. Διαίρεση τμημάτων εσωτερικά και εξωτερικά ως προς δοσμένο λόγο (μόνο οι ορισμοί της διαίρεσης ευθυγράμμου τμήματος ΑΒ από σημείο Μ εσωτερικά ή εξωτερικά)
- 7.7. Θεώρημα του Θαλή (χωρίς τις αποδείξεις των θεωρημάτων και του Πορίσματος, χωρίς το πρόβλημα 2 και χωρίς τους ορισμούς «συζυγή αρμονικά» και «αρμονική τετράδα»)

Κεφ. 8ο: Ομοιότητα

- 8.1. Όμοια ευθύγραμμα σχήματα
- 8.2. Κριτήρια ομοιότητας (χωρίς τις αποδείξεις των θεωρημάτων Ι, ΙΙ και ΙΙΙ και χωρίς τις εφαρμογές 1 και 3)

Κεφ. 9ο: Μετρικές σχέσεις

- 9.1. Ορθές προβολές
- 9.2. Το Πυθαγόρειο θεώρημα
- 9.3. Γεωμετρικές κατασκευές
- 9.4. Γενίκευση του Πυθαγόρειου θεωρήματος (χωρίς την απόδειξη των θεωρημάτων Ι και ΙΙ και χωρίς την εφαρμογή 2)

Οδηγίες διδασκαλίας

Στην αρχή της σχολικής χρονιάς είναι σκόπιμο να γίνει, για μία (1) διδακτική ώρα, μια αναφορά σε στοιχεία από τη Γεωμετρία προηγούμενων τάξεων που θα χρησιμοποιηθούν στη Β' τάξη, όπως είναι η ισότητα τριγώνων, το άθροισμα γωνιών πολυγώνων, εφόσον αυτά θα χρησιμοποιηθούν αρκετές φορές (στις ιδιότητες παραλληλογράμμων, στην ομοιότητα τριγώνων και στο Πυθαγόρειο θεώρημα). Θα πρέπει να δοθεί έμφαση σε αποδείξεις που οι μαθητές/ήτριες μπορούν να «ανακαλύψουν» μέσα στην τάξη (π.χ. οι ιδιότητες των παραλληλογράμμων). Η κατανομή των διδακτικών ωρών που προτείνεται είναι ενδεικτική. Μέσα σε αυτές τις ώρες περιλαμβάνεται ο χρόνος που θα χρειαστεί για ανακεφαλαιώσεις, γραπτές δοκιμασίες, εργασίες κ.λπ..

Στο πλαίσιο του διδακτικού σχεδιασμού οι εκπαιδευτικοί, προκειμένου να αξιοποιήσουν τις προτεινόμενες ιστοσελίδες από το διδακτικό υλικό ή/και τα διδακτικά βιβλία, να προβαίνουν σε επανέλεγχο της εγκυρότητάς τους, διότι ενδέχεται λόγω του δυναμικού τους χαρακτήρα ορισμένες από αυτές να είναι ανενεργές ή να οδηγούν σε διαφορετικό περιεχόμενο.

Οι εκπαιδευτικοί θα πρέπει να λάβουν υπόψη τους ότι οι μαθητές/-ήτριες που προέρχονται από ΕΠΑ.Σ. Δ.ΥΠ.Α. χρειάζεται να υποστηριχθούν ως προς την ύλη του μαθήματος της προηγούμενης τάξης (Α' ΕΠΑ.Λ. & Π.ΕΠΑ.Λ) στο πλαίσιο της διαφοροποιημένης διδασκαλίας, καθώς δεν έχουν διδαχθεί τη συγκεκριμένη ύλη.

Κεφάλαιο 5^ο (Προτείνεται να διατεθούν 9 διδακτικές ώρες)

- Στο Κεφάλαιο 5 δεν θα συζητηθούν τα σύνθετα θέματα και οι γενικές ασκήσεις.

§5.1, §5.2

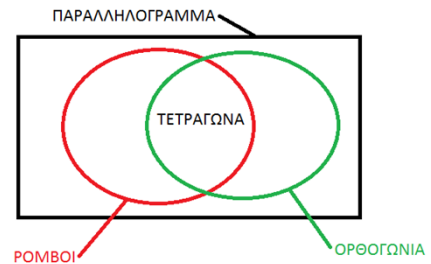
Να επισημανθεί ότι καθένα από τα κριτήρια για τα παραλληλόγραμμα περιέχει τις ελάχιστες ιδιότητες που απαιτούνται για να είναι ισοδύναμο με τον ορισμό του παραλληλογράμμου. Προτείνεται να ζητηθεί από τους/τις μαθητές/-ήτριες να διερευνήσουν αν ένα τετράπλευρο με τις δυο απέναντι πλευρές παράλληλες και τις άλλες δυο ίσες είναι παραλληλόγραμμα.

§5.3 - §5.5

Να επισημανθεί ότι κάθε ένα από τα κριτήρια για να είναι ένα τετράπλευρο ορθογώνιο ή ρόμβος ή τετράγωνο περιέχει τις ελάχιστες ιδιότητες που απαιτούνται για να είναι ισοδύναμο με τον ορισμό του ορθογωνίου ή του ρόμβου ή του τετραγώνου αντίστοιχα. Επιδιώκεται οι μαθητές/-ήτριες να αναγνωρίζουν τα είδη των παραλληλογράμμων (ορθογώνιο, ρόμβος, τετράγωνο) με βάση τα αντίστοιχα κριτήρια και όχι με βάση κάποια πρότυπα σχήματα που συνδέονται με την οπτική γωνία που τα κοιτάμε. Να δοθεί έμφαση στην ταξινόμηση των παραλληλογράμμων με βάση τις ιδιότητές τους (βλέπε ενδεικτική δραστηριότητα 1) για την άρση της παρανόησης που δημιουργείται σε μαθητές/-ήτριες, ότι ένα τετράγωνο δεν είναι ορθογώνιο ή ένα τετράγωνο δεν είναι ρόμβος. Προτείνεται να ζητηθεί από τους/τις μαθητές/-ήτριες να διερευνήσουν: αν ένα τετράπλευρο με ίσες διαγώνιες είναι ορθογώνιο και αν ένα τετράπλευρο με κάθετες διαγώνιες είναι ρόμβος.

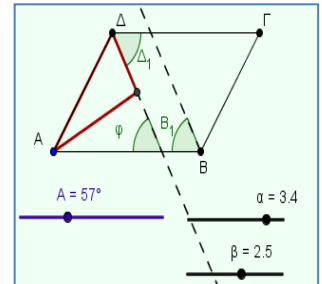
Ενδεικτική δραστηριότητα 1:

Να δημιουργήσετε διαγραμματική αναπαράσταση της ταξινόμησης των παραλληλογράμμων (π.χ. με χρήση εννοιολογικού χάρτη, διαγράμματος Venn).



Ενδεικτική δραστηριότητα 2:

Η άσκηση εμπέδωσης 3 του σχολικού βιβλίου προτείνεται να υλοποιηθεί πιο διερευνητικά με το μικροπείραμα «Τι σχήμα δημιουργούν οι διχοτόμοι των γωνιών ενός παραλληλογράμμου;» από τα εμπλουτισμένα σχολικά βιβλία. Με τη βοήθεια του λογισμικού οι μαθητές/-ήτριες μεταβάλλουν τις γωνίες και τις πλευρές ενός παραλληλογράμμου για να δημιουργήσουν την εικόνα σχετικά με το σχήμα που δημιουργείται από τις διχοτόμους, ενώ στη συνέχεια αποδεικνύουν την εικόνα αυτή.



<http://photodentro.edu.gr/v/item/ds/8521/5825>

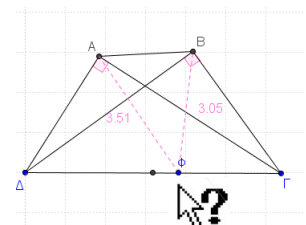
§5.6 – §5.9

Προτείνεται να ζητηθεί από τους/τις μαθητές/-ήτριες να εικάσουν σε ποια γραμμή ανήκουν τα σημεία που ισαπέχουν από δυο παράλληλες ευθείες και στη συνέχεια να αποδείξουν ότι η μεσοπαράλληλή τους είναι ο ζητούμενος γεωμετρικός τόπος. Προτείνεται, επίσης, η διαπραγμάτευση στην τάξη της Εφαρμογής 1 της §5.6. Στις §5.7 και §5.8 η συζήτηση προτείνεται να επικεντρωθεί στο γεγονός ότι, για τα διάφορα είδη τριγώνων, όλες οι διάμεσοι διέρχονται από το ίδιο σημείο (και αντιστοίχως για τα ύψη) και να μη συζητηθούν ασκήσεις.

Ενδεικτική δραστηριότητα:

Προτείνεται να χρησιμοποιηθεί διερευνητικά το μικροπείραμα «Η σχέση της υποτείνουσας ενός ορθογωνίου τριγώνου με την διάμεσο που αντιστοιχεί σ' αυτήν και επίλυση προβλημάτων με τη σχέση αυτή».

<http://photodentro.edu.gr/v/item/ds/8521/5781>



§5.10, §5.11

Εκτός από το συγκεκριμένο αντικείμενο των παραγράφων αυτών, προτείνεται να εμπλακούν οι μαθητές/-ήτριες στην επίλυση προβλημάτων που συνδυάζουν γεωμετρικά θέματα από όλο το κεφάλαιο, όπως η δραστηριότητα 1 και η εργασία στο τέλος του κεφαλαίου.

Κεφάλαιο 7° (Προτείνεται να διατεθούν 3 διδακτικές ώρες)

Προτείνεται να γίνει σύντομη αναφορά στις ιδιότητες των αναλογιών και να δοθεί έμφαση στο Θεώρημα του Θαλή. Μέσω παραδειγμάτων επιδιώκεται να κατανοήσουν οι μαθητές ότι ζεύγη ευθυγράμμων τμημάτων διαφορετικών μηκών είναι δυνατόν να έχουν τον ίδιο λόγο. Μεταξύ των στόχων διδασκαλίας είναι οι μαθητές/-ήτριες να εφαρμόζουν το Θεώρημα του Θαλή, σε δοσμένα σχήματα, ή σε σχήματα που χρειάζεται να σχεδιαστούν βοηθητικές ευθείες, καθώς και να αναδειχθούν οι εφαρμογές του Θεωρήματος σε τρίγωνα και τραπέζια.

- Στο Κεφάλαιο 7 δεν θα συζητηθούν αποδεικτικές ασκήσεις, σύνθετα θέματα καθώς και οι γενικές ασκήσεις.

Κεφάλαιο 8^ο (Προτείνεται να διατεθούν 3 διδακτικές ώρες)

Να δοθεί έμφαση στα κριτήρια ομοιότητας τριγώνων. Στόχοι είναι οι μαθητές/-ήτριες:

- ✓ Να κατανοήσουν τη λειτουργία κριτηρίων ομοιότητας, που όπως και τα κριτήρια ισότητας, με λιγότερες προϋποθέσεις από τον ορισμό μπορούμε να αποφανθούμε για την ομοιότητα δύο τριγώνων.
- ✓ Να συσχετίσουν την ισότητα με την ομοιότητα τριγώνων και να εντοπίσουν διαφορές.
- ✓ Να αξιοποιήσουν την ομοιότητα στην επίλυση προβλημάτων όπως η εφαρμογή 2 της παραγράφου 8.2.

Ενδεικτική δραστηριότητα:

Δίνεται τρίγωνο ΑΒΓ με πλευρές $AB = 2$, $AG = 4$ και τη γωνία $\hat{A} = 60^\circ$. Να κατασκευάσετε τρίγωνα όμοια προς το ΑΒΓ με λόγο ομοιότητας 1, 2 και $\frac{1}{2}$.

- Στο Κεφάλαιο 8 δεν θα συζητηθούν αποδεικτικές ασκήσεις, σύνθετα θέματα και οι γενικές ασκήσεις.

Κεφάλαιο 9^ο (Προτείνεται να διατεθούν 8 διδακτικές ώρες)

Στο κεφάλαιο αυτό η έμφαση σε ασκήσεις αλγεβρικού χαρακτήρα δεν συνεισφέρει στην κατανόηση της Γεωμετρίας.

Στο Κεφάλαιο 9 δεν θα συζητηθούν σύνθετα θέματα και γενικές ασκήσεις.

§9.1-9.3

Στόχοι της διδασκαλίας είναι οι μαθητές/τριες:

- ✓ Να μπορούν να σχεδιάζουν ορθές προβολές και να αναγνωρίζουν ευθύγραμμα τμήματα ως προβολές άλλων ευθυγράμμων τμημάτων.
- ✓ Να ερμηνεύουν τις μετρικές σχέσεις με προβολές της § 9.2 ως αποτέλεσμα ομοιότητας τριγώνων και να τις χρησιμοποιούν σε επίλυση προβλημάτων.
- ✓ Να εφαρμόζουν το Πυθαγόρειο Θεώρημα και το αντίστροφό του στην επίλυση προβλημάτων.

Στην παράγραφο 9.3 είναι σκόπιμο να διατεθεί χρόνος ώστε να σχολιαστεί το ιστορικό σημείωμα για την ανακάλυψη των ασύμμετρων μεγεθών.

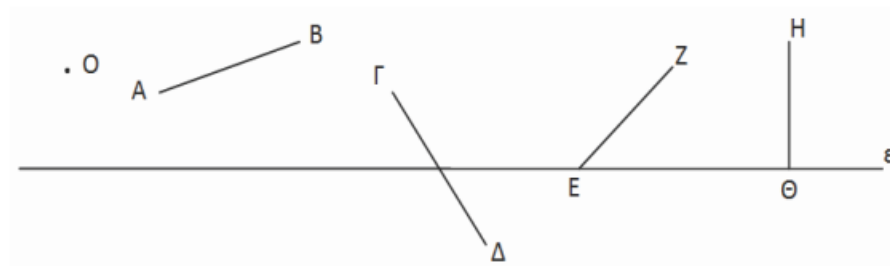
Ενδεικτική δραστηριότητα:

Να κατασκευάσετε ορθές προβολές

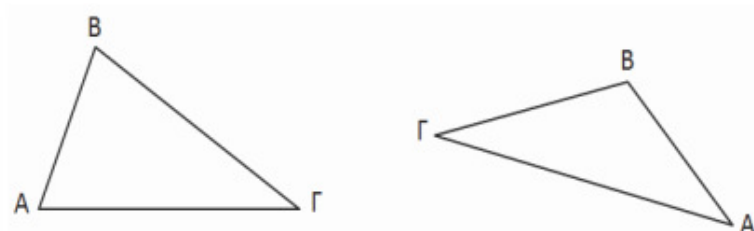
α) του Ο, των ευθυγράμμων τμημάτων ΑΒ, ΓΔ, ΕΖ και ΗΘ στην ευθεία ε και

β) της ΑΒ πάνω στην ΒΓ

στα δύο παρακάτω σχήματα.



(α)



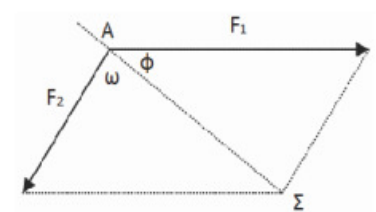
(β)

§9.4

Στόχοι είναι οι μαθητές/-ήτριες να χρησιμοποιούν το Πυθαγόρειο και το Γενικευμένο Πυθαγόρειο Θεώρημα για να διακρίνουν αν ένα τρίγωνο είναι οξυγώνιο, ορθογώνιο ή αμβλυγώνιο και να χρησιμοποιούν αυτά τα θεωρήματα και τον νόμο των συνημιτόνων σε επίλυση προβλημάτων.

Ενδεικτική δραστηριότητα:

Ένα πλοίο κινείται με κατεύθυνση από το Α προς το Σ. Από τη στιγμή που βρίσκεται στη θέση Α και μέχρι την ολοκλήρωση της πορείας του, ασκούνται σε αυτό πлагιομετωπικοί άνεμοι που το ωθούν με δύναμη μέτρου F_2 που σχηματίζει γωνία ω με την επιθυμητή πορεία πλεύσης. Ο καπετάνιος, προκειμένου να διατηρήσει σταθερή την πορεία, δίνει εντολή να στραφεί το πηδάλιο κατά ϕ μοίρες. Αν οι προπέλες ωθούν το πλοίο με σταθερή δύναμη μέτρου F_1 μπορείτε να περιγράψετε έναν τρόπο με τον οποίο μπορεί να προσδιοριστεί η γωνία ϕ ;



ΦΥΣΙΚΕΣ ΕΠΙΣΤΗΜΕΣ: ΦΥΣΙΚΗ

Διδακτέα-Εξεταστέα Ύλη

Από το Βιβλίο: [ΦΥΣΙΚΗ Β΄ ΤΑΞΗ ΕΠΑ.Λ.](#), Αλεξάκης Ν., Αμπατζής Σ, Γκουγκούσης Γ, Κουντούρης Β, Μοσχοβίτης Ν., Οβαδίας Σ., Πετρόχειλος Κ., Σαμπράκος Μ., Ψαλίδας Α.

1. ΔΥΝΑΜΕΙΣ ΜΕΤΑΞΥ ΗΛΕΚΤΡΙΚΩΝ ΦΟΡΤΙΩΝ

1.1 Ο νόμος του Coulomb

1.2 Ηλεκτρικό πεδίο