

Κεφ. 1. Υπενθύμιση – Α' μέρος

1. Δίνεται ο αριθμός 569.147. Γράψε το ψηφίο των:

Εκατοντάδων:

Μονάδων:

Δεκάδων:

Εκατοντάδων Χιλιάδων:

Δεκάδων Χιλιάδων:

Μονάδων Χιλιάδων:

2. Γράψε με λέξεις τον κάθε αριθμό:

980.809:

999.090:

55.304:

908.089:

3. Κάνε κάθετα τις πράξεις:

α) $15.468 + 641 + 3.207$	β) $2,3 + 0,47 + 68$	γ) $13.453 : 19$	δ) 420×69
ε) $840.000 : 4$	στ) $168 : 3$	ζ) $63.188 + 22.015$	η) 150×22

4. Γράψε το αποτέλεσμα κάθε πολλαπλασιασμού, όπως στο παράδειγμα:

$$580 \times 1000 = 580.000$$

$$760 \times 10 = \dots\dots\dots$$

$$2.980 \times 100 = \dots\dots\dots$$

$$2.300 \times 100 = \dots\dots\dots$$

$$6.300 \times 10 = \dots\dots\dots$$

$$4.030 \times 10 = \dots\dots\dots$$

$$69.700 \times 100 = \dots\dots\dots$$

$$40.500 \times 1.000 = \dots\dots\dots$$


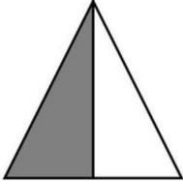
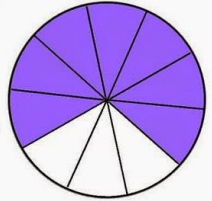
$$790 \times 1.000 = \dots\dots\dots$$

5. Συμπλήρωσε με λόγια ή με κλάσματα τον πίνακα:

Κλάσμα	Λόγια
	επτά εβδομα
	τέσσερα δωδέκατα
$\frac{2}{3}$	
$\frac{6}{9}$	

Κλάσμα	Λόγια
$\frac{8}{12}$	
	τρία τέταρτα
$\frac{1}{6}$	
	πέντε δέκατα

6. Γράψε με λόγια ή με κλάσμα το μέρος του σχήματος που είναι χρωματισμένο:

	<p>Με κλάσμα: _____</p> <p>Με λόγια:</p>
	<p>Με κλάσμα: _____</p> <p>Με λόγια:</p>
	<p>Με κλάσμα: _____</p> <p>Με λόγια:</p>