

Τι πλάσμα είναι αυτό το ... κλάσμα;

Όνομα _____
Επώνυμο _____
Ημερομηνία _____

1. Βρίσκω το ΕΚΠ των παρακάτω αριθμών:

3 5 15

8 12 6 4

ΕΚΠ (3, 5, 15) = _____

ΕΚΠ (8, 12, 6, 4) = _____

2. Βάζω < = > στο κουτάκι :

$$\frac{2}{3} \square 1$$

$$\frac{4}{4} \square \frac{6}{6}$$

$$\frac{5}{4} \square 1$$

$$\frac{6}{6} \square 1$$

3. Μπορείς να μετατρέψεις τους μεικτούς σε κλάσματα ;


$$2 \frac{1}{4} =$$

$$3 \frac{2}{5} =$$


$$1 \frac{3}{4} =$$

$$4 \frac{2}{3} =$$


4. Χρωμάτισε κάθε φορά τα κυκλάκια που σου δείχνει το κλάσμα:.




$$\frac{1}{3}$$



$$\frac{1}{4}$$



$$\frac{1}{6}$$



$$\frac{1}{12}$$

5. Μία τάξη έχει 25 μαθητές. Τα $\frac{2}{5}$ των μαθητών είναι αγόρια. Πόσα αγόρια και πόσα κορίτσια υπάρχουν στην τάξη;

