




Όνομα: \_\_\_\_\_

# Μαθηματικά 6η Ενότητα

## 43. Επαναληπτικό Μάθημα

1. Φτιάχνω στον άβακα τον αριθμό που μου δείχνουν τα σκυλάκια.



Συμπληρώνω το ημερολόγιο.

_____
_____
_____

Τρίτη
16
Μαρτίου

_____
_____
Μαρτίου

Πέμπτη
_____
_____

Βρίσκω πόσο κάνουν φτιάχνοντας πρώτα το 10.

$$\begin{array}{c} 8 + 6 \\ \swarrow \quad \searrow \\ 8 + 2 + 4 = 14 \\ \underbrace{\hspace{2cm}} \\ 10 \end{array}$$

$$\begin{array}{c} 9 + 2 \\ \swarrow \quad \searrow \\ \bigcirc + \bigcirc + \bigcirc = \bigcirc \\ \underbrace{\hspace{2cm}} \\ \square \end{array}$$

$$\begin{array}{c} 9 + 5 \\ \swarrow \quad \searrow \\ \bigcirc + \bigcirc + \bigcirc = \bigcirc \\ \underbrace{\hspace{2cm}} \\ \square \end{array}$$

$$\begin{array}{c} 7 + 6 \\ \swarrow \quad \searrow \\ \bigcirc + \bigcirc + \bigcirc = \bigcirc \\ \underbrace{\hspace{2cm}} \\ \square \end{array}$$