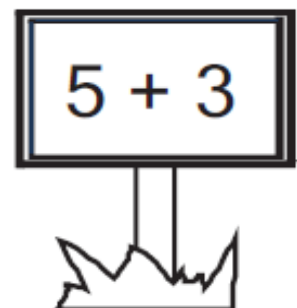
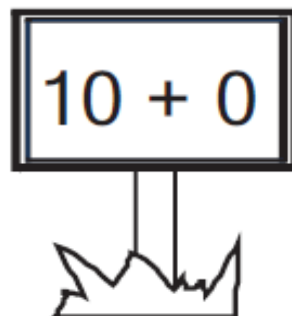
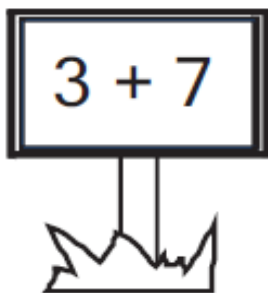
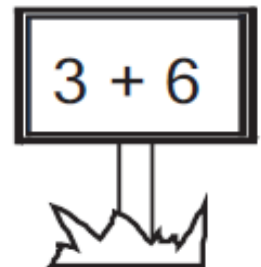
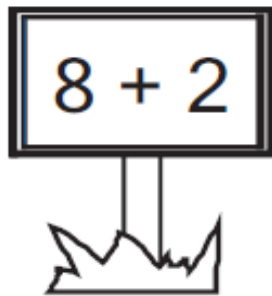
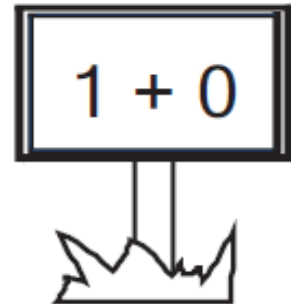


ΟΝΟΜΑ: _____

ΜΑΘΗΜΑΤΙΚΑ 3^η ΕΝΟΤΗΤΑ

Κεφ.21: Προσθετική ανάλυση αριθμών από το 6 μέχρι το 10

Να χρωματίσεις μόνο όποια ταμπέλα έχει ζευγαράκι που κάνει 10.



Λογάριασε.....

α) Τα δίδυμα ζευγαράκια μέχρι το 10

$$5 + 5 = \quad 2 + 2 = \quad 4 + 4 =$$

$$3 + 3 = \quad 1 + 1 =$$

β) Τα ζευγαράκια που αρχίζουν με το 5

$$5 + 0 = \quad 5 + 1 = \quad 5 + 2 =$$

$$5 + 3 = \quad 5 + 4 = \quad 5 + 5 =$$