










Υπολογίζω τα ρέστα

1. Πόσα ρέστα θα πάρει κάθε παιδί; Συμπληρώσε το κουτάκι και ζωγράψισε έπειτα τα ρέστα στο ηλαίσιο:

		Αγόρασα την ξύστρα και έδωσα 1€	Ρέστα.....	
		Αγόρασα την κόλλα και έδωσα 1€ και 50λ	Ρέστα.....	
		Αγόρασα το μολύβι και έδωσα 2€	Ρέστα.....	

2. Ο Γιώργος θέλει να αγοράσει το ρομπότ της εικόνας. Έχει στην τσέπη του 10 €. Πόσα χρήματα θα πάρει ρέστα;



Εκτιμώ: Θα πάρει ρέστα.....

Ζωγραφίζω τα ρέστα:

Απαντώ:

.....

3. Η Ρένα έχει στο πορτοφόλι της τα χρήματα που βλέπεις στην εικόνα.



Μπορεί να αγοράσει και τα δύο παιχνίδια;

Ποιο παιχνίδι θα αγοράσει ώστε να μη χρειαστεί να πάρει καθόλου ρέστα;

Αν πάρει το άλλο παιχνίδι, πόσα χρήματα θα έχει πλέον στο πορτοφόλι;