

ΠΡΑΞΕΙΣ ΚΑΙ ΠΡΟΒΛΗΜΑΤΑ

1. Κάνε τις πράξεις.

$12+8=20$

$13+9=22$

$15+5=20$

$22+4=26$

$36+6=42$

$9+6=15$

$17+7=24$

$20+5=25$

$30+10=40$

$31+4=35$

$25-5=20$

$15-5=10$

$30-10=20$

$22-9=13$

$18-8=10$

$16-5=11$

$27-8=19$

$19-7=12$

$35-4=31$

$50-1=49$

















2. Το βιβλίο που διαβάζω έχει 56 σελίδες. Έχω διαβάσει τις 10 πρώτες σελίδες. Πόσες σελίδες πρέπει να διαβάσω ακόμα για να το τελειώσω;

Λύση:

$56-10=46$

Απάντηση: Πρέπει να διαβάσω 46 σελίδες ακόμα.

3. Κάνε την αντιστοίχιση.

 17+3	 18
 12+6	 20
 9+8	 30
 21+9	 17
 10-8	 27
 29-2	 2
 14-6	 19
 22-3	 8

ΠΡΑΞΕΙΣ ΚΑΙ ΠΡΟΒΛΗΜΑΤΑ

4. Παρατηρώ την εικόνα και απαντώ κάνοντας τις πράξεις (όπου χρειάζεται).

- ✳ Πόσα είναι τα κίτρινα πουλάκια; Είναι 7.
- ✳ Πόσα είναι τα γαλάζια πουλάκια; Είναι 6.
- ✳ Πόσα πουλάκια είναι πάνω στο δέντρο; Πάνω στο δέντρο είναι 5 πουλάκια.
- ✳ Πόσα είναι έξω από αυτό; Είναι 8.
- ✳ Πόσα είναι όλα μαζί; $8+5=13$ Όλα μαζί είναι 13.
- ✳ Την επόμενη μέρα ήρθαν ακόμα 7 πουλάκια. Πόσα έγιναν όλα; $13+7=20$. Έγιναν 20 πουλάκια.

