



ΜΑΘΗΜΑΤΙΚΑ

1. Γράφω τι ώρα δείχνουν τα παρακάτω ρολόγια :







π.μ.

ή

μ.μ.

2. Βάζω τους δείκτες στα παρακάτω ρολόγια, όπως δείχνουν οι ώρες :



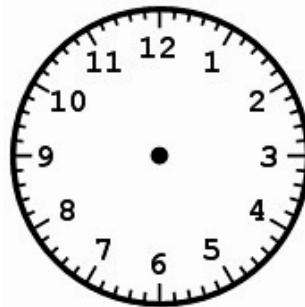

08.10

20.50

06.30

15.15

3. Ένα λεωφορείο ξεκίνησε από την Αθήνα στις **7.00** το πρωί και έφτασε στην Πάτρα μετά από **2 ώρες και 45 λεπτά**. Να δείξεις στα παρακάτω ρολόγια την ώρα που ξεκίνησε από την Αθήνα και την ώρα που έφτασε το λεωφορείο στην Πάτρα.



Όνοματεπώνυμο : _____