


# Βασικά τμήματα υπολογιστή


1. Χρωμάτισε τα μέρη του υπολογιστή. Την οθόνη κίτρινη, τον πύργο μπλε, το πληκτρολόγιο πράσινο και το ποντίκι κόκκινο.



2. Κύκλωσε τις λέξεις που αποτελούν μέρη του υπολογιστή.

Πύργος	Πλήκτρο	Αρουραίος	Πίνακας
Πληκτρολόγιο	Γάτα	Ακουστικό	Στυλό
Ηχείο	Οθόνη	Εκτυπωτής	Μολύβι

3. Ένωσε τα καλώδια για να λειτουργήσει ο υπολογιστής.



4. Συμπλήρωσε το όνομα κάθε τμήματος του υπολογιστή.

O \_ \_ N \_

\_ O \_ T \_ \_ I

Π \_ H \_ \_ ΡΟ \_ \_ Γ \_ \_

\_ \_ Ρ \_ Ο \_

5. Σωστό – Λάθος. Βάλε Σ δίπλα από κάθε σωστή πρόταση και Λ δίπλα από κάθε λανθασμένη.

A. Ο πύργος είναι το πιο σημαντικό τμήμα ενός υπολογιστή.

B. Το πληκτρολόγιο μοιάζει με τηλεόραση.

Γ. Το ποντίκι μας βοηθάει να δείχνουμε σε αντικείμενα της οθόνης.

Δ. Το πληκτρολόγιο για τον υπολογιστή είναι όπως το μολύβι στο χαρτί.

E. Με τα ηχεία μπορούμε να ακούσουμε μουσική στον υπολογιστή.

ΣΤ. Το ποντίκι μπορεί να εκτυπώσει αυτά που βλέπουμε στην οθόνη.

6. Ποιος είμαι?



A. Χρησιμοποίησε με για να δείξεις αντικείμενα στην οθόνη. \_\_\_\_\_


B. Δείχνω ταινίες, παιχνίδια και φωτογραφίες. \_\_\_\_\_

Γ. Χρησιμοποίησε με για να γράψεις. \_\_\_\_\_

Δ. Με χρειάζεσαι για να ακούσεις τραγούδια. \_\_\_\_\_

E. Είμαι το μυαλό του υπολογιστή. \_\_\_\_\_

7. Χρωμάτισε το αριστερό πλήκτρο κόκκινο, το δεξί πλήκτρο πράσινο, το πλήκτρο κύλισης μπλε και το υπόλοιπο ποντίκι κίτρινο.



8. Στη διπλανή εικόνα, ποιο πλήκτρο θα πατήσεις για να κάνεις αριστερό κλικ? Γράψε πάνω στο πλήκτρο το γράμμα Α. Ποιο πλήκτρο θα πατήσεις για να κάνεις δεξί κλικ? Γράψε πάνω στο πλήκτρο το γράμμα Δ.

