


## Μέτρηση χρόνου

Όνομα:.....

### 1. Γράψε τι ώρα δείχνουν τα παρακάτω ρολόγια



### 2. Πόσες ώρες εργάστηκε ο υπάλληλος. Παρατήρησε την εικόνα και συμπλήρωσε την απάντηση



Ξεκίνησα να δουλεύω  
πριν 30 λεπτά

9:00

Θα τελειώσω την  
δουλειά σε 30 λεπτά

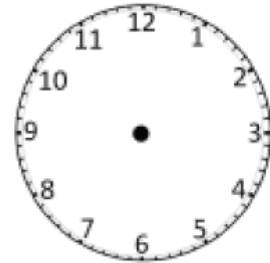
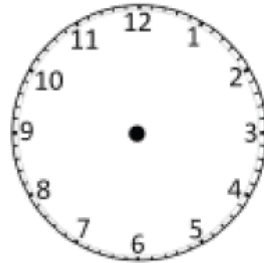
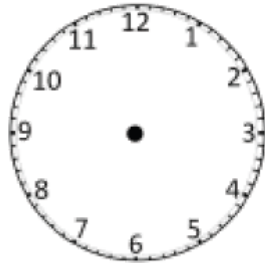
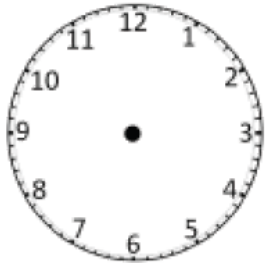


14:00

Πόσες ώρες εργάστηκε συνολικά;

.....

3. Συμπλήρωσε τους δείκτες που λείπουν ώστε τα ρολόγια να δείχνουν σε κάθε περίπτωση τη σωστή ώρα



10:15

18:10

6:55

5:45

4. Παρατήρησε το ημερολόγιο και απάντησε στις ερωτήσεις που ακολουθούν

ΜΑΡΤΙΟΣ						
Δ	Τ	Τ	Π	Π	Σ	Κ
			1	2	3	4
5	6	7	8	9	10	11
12	13	14	15	16	17	18
19	20	21	22	23	24	25
26	27	28	29	30	31	



Είμαι ο Νίκος. Έχω γενέθλια στις 15 Μαρτίου. Τι μέρα είναι;  
.....

Είμαι η Μαρίνα. Τα δικά μου γενέθλια είναι 12 μέρες μετά τα γενέθλια του Νίκου. Πότε έχω γενέθλια;  
.....

