

Όνοματεπώνυμο:

Τάξη:

Ημερομηνία:









## Φύλλο εργασίας

**Τι προκύπτει όταν συνδυάσω τα βασικά σχήματα;**

Τι σχήμα προκύπτει εάν συνδυαστούν ανά δύο τα τρία βασικά σχήματα;

Συμπλήρωσε στον παρακάτω πίνακα:

Μετά ελέγξτε τους συνδυασμούς στο περιβάλλον του λογισμικού.

Όνοματεπώνυμο:

Τάξη:

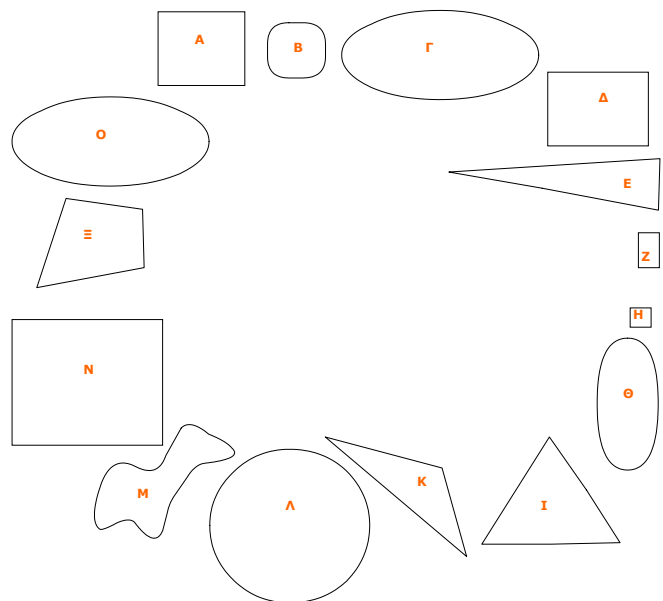

Ημερομηνία:



## Φύλλο εργασίας

### Τι προκύπτει όταν ...

Τα σύνθετα σχήματα της παρακάτω εικόνας προκύπτουν με συνδυασμό των σχημάτων που βλέπετε δεξιά της, όπως ακριβώς είναι (χωρίς περιστροφή). Από ποιά από τα παρακάτω σχήματα προκύπτει καθένα;



Συμπληρώστε τον παρακάτω πίνακα.


Μετά ελέγξτε τους συνδυασμούς στο περιβάλλον του λογισμικού.