

**ΠΟΙΑ ΟΜΑΔΑ ΕΧΕΙ ΤΑ
ΠΕΡΙΣΣΟΤΕΡΑ ΜΗΛΑ ?**



4





5



Ο ΑΡΙΘΜΟΣ 5 ΕΙΝΑΙ
ΜΕΓΑΛΥΤΕΡΟΣ ΑΠΟ
ΤΟΝ ΑΡΙΘΜΟ 4








3



6



3



6



Ο ΑΡΙΘΜΟΣ 6 ΕΙΝΑΙ
ΜΕΓΑΛΥΤΕΡΟΣ ΑΠΟ ΤΟΝ
ΑΡΙΘΜΟ 3



**ΠΟΙΑ ΟΜΑΔΑ ΕΧΕΙ ΤΑ
ΛΙΓΟΤΕΡΑ ΜΟΛΥΒΙΑ?**





4

7







ΑΡΑ Ο ΑΡΙΘΜΟΣ 4 ΕΙΝΑΙ
ΜΙΚΡΟΤΕΡΟΣ ΑΠΟ ΤΟΝ
ΑΡΙΘΜΟ 7



ΠΟΙΑ ΟΜΑΔΑ ΕΧΕΙ ΤΑ ΛΙΓΟΤΕΡΑ ΠΑΓΩΤΑ?



8

Ο ΑΡΙΘΜΟΣ 7 ΕΙΝΑΙ
ΜΙΚΡΟΤΕΡΟΣ ΑΠΟ ΤΟΝ
ΑΡΙΘΜΟ 8

7



ΠΟΙΑ ΟΜΑΔΑ ΕΧΕΙ ΤΑ ΠΕΡΙΣΣΟΤΕΡΑ ΜΠΑΛΟΝΙΑ ΚΑΙ ΠΟΙΑ ΤΑ ΛΙΓΟΤΕΡΑ?



9

10



10

Η ΟΜΑΔΑ ΜΕ ΤΑ ΚΙΤΡΙΝΑ ΜΠΑΛΟΝΙΑ ΕΧΕΙ
ΠΕΡΙΣΣΟΤΕΡΑ – Ο ΑΡΙΘΜΟΣ 10 ΕΙΝΑΙ
ΜΕΓΑΛΥΤΕΡΟΣ ΑΠΟ ΤΟΝ ΑΡΙΘΜΟ 9

9



ΠΟΙΑ ΟΜΑΔΑ ΕΧΕΙ ΤΙΣ ΛΙΓΟΤΕΡΕΣ ΜΠΑΛΕΣ? Η ΟΜΑΔΑ ΤΟΥ ΠΟΔΟΣΦΑΙΡΟΥ Η Η ΟΜΑΔΑ ΤΟΥ ΜΠΑΣΚΕΤ ?



6

2



2

6

**Η ΟΜΑΔΑ ΤΟΥ ΜΠΑΣΚΕΤ ΕΧΕΙ ΤΙΣ ΛΙΓΟΤΕΡΕΣ
ΜΠΑΛΕΣ ΑΦΟΥ Ο ΑΡΙΘΜΟΣ 2 ΕΙΝΑΙ
ΜΙΚΡΟΤΕΡΟΣ ΑΠΟ ΤΟΝ ΑΡΙΘΜΟ 6**

ΣΑΣ

ΕΥΧΑΡΙΣΤΩ

ΠΑΙΔΙΑ