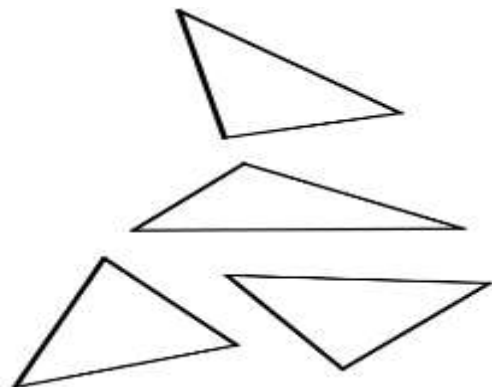


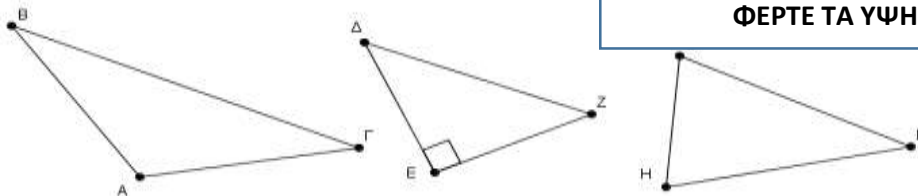
Επανάληψη Τρίγωνα - Παραλληλόγραμμα – Τραπεζία-Στοιχεία τριγώνου - Είδη τριγώνων

- 1) Συγκρίνοντας τις πλευρές ενός τριγώνου, μεταξύ τους, προκύπτουν τρία είδη τριγώνων: το, το και το
- 2) Ένα τρίγωνο, ανάλογα με το είδος των γωνιών του, διακρίνεται σε, σε..... και σε
- 3)



ΑΝΤΙΣΤΟΙΧΙΣΤΕ ΤΑ ΕΙΔΗ ΤΡΙΓΩΝΩΝ ΩΣ ΠΡΟΣ ΤΙΣ ΓΩΝΙΕΣ

- 4) Κάθε ευθύγραμμο τμήμα που ενώνει την κορυφή ενός τριγώνου με το μέσο της απέναντι πλευράς, λέγεται
- 5) Το ευθύγραμμο τμήμα που ξεκινάει από την κάθε κορυφή του τριγώνου, χωρίζει την αντίστοιχη γωνία σε δυο ίσες γωνίες και καταλήγει στην απέναντι πλευρά λέγεται
- 6) Το ευθύγραμμο τμήμα που ξεκινάει από την κάθε κορυφή του τριγώνου και καταλήγει κάθετα στην απέναντι πλευρά λέγεται



ΦΕΡΤΕ ΤΑ ΥΨΗ ΣΤΑ ΤΡΙΓΩΝΑ

Τι παρατηρείτε στο αμβλυγώνιο τρίγωνο για τα ύψη του.....

- 7) Συμπληρώστε τα σωστά
 - α) Κάθε ορθογώνιο τρίγωνο έχει μια γωνία.
 - β) Το αμβλυγώνιο τρίγωνο δεν μπορεί να έχει δύο γωνίες.
 - γ) Το ισόπλευρο τρίγωνο έχει όλες τις του ίσες
 - δ) Το ισοσκελές τρίγωνο μπορεί να είναι και και..... και.....
 - ε) Το ορθογώνιο τρίγωνο δεν μπορεί ποτέ να είναι ως προς τις πλευρές τους
 - στ) Το ορθογώνιο τρίγωνο μπορεί να είναι και και
 - ζ) Το ισόπλευρο τρίγωνο είναι πάντα
 - η) Ένα σκαληνό τρίγωνο μπορεί να είναι η η.....
 - θ) Το ισόπλευρο τρίγωνο έχει όλες τις γωνίες του.....

Παραλληλόγραμμα - Ορθογώνιο - Τραπεζίο

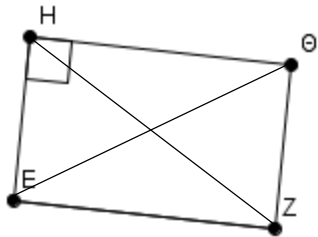
- 1) **Παραλληλόγραμμα** λέγεται το τετράπλευρο ΑΒΓΔ που έχει τις απέναντι πλευρές του, και οιπλευρές του είναι
- 2) **Ύψος** λέγεται η δύο απέναντι πλευρών του παραλληλογράμμου.
- 3) Οι **διαγώνιες** σε ένα παραλληλόγραμμα

4)

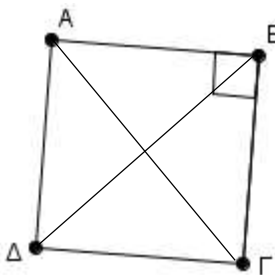


ΦΕΡΤΕ ΤΑ ΥΨΗ ΣΤΟ ΠΑΡΑΛΛΗΛΟΓΡΑΜΜΟ

- 5) **Ορθογώνιο παραλληλόγραμμο** ή απλά **ορθογώνιο** λέγεται ένα παραλληλόγραμμο που έχει όλες τις γωνίες του
- 6) Οι **διαγώνιες** του ορθογωνίου παραλληλογράμμου είναι πάντα



- 7) Ένα παραλληλόγραμμο που έχει όλες τις γωνίες του ορθές και όλες τις πλευρές του ίσες λέγεται
- 8) Οι **διαγώνιες τετραγώνου** είναι, τέμνονταικαι διχοτομούν τις γωνίες των.....τους.



ΦΕΡΤΕ ΤΑ ΥΨΗ ΣΤΟ ΤΕΤΡΑΓΩΝΟ

τι παρατηρείτε.....

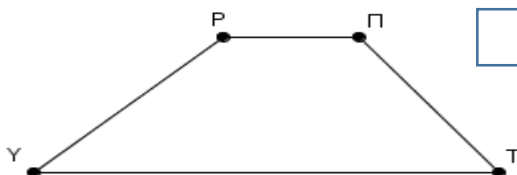
- 9) **Ρόμβος** λέγεται ένα παραλληλόγραμμο που έχει τις πλευρές του
- 10) Οι διαγώνιες του ρόμβου τέμνονται.....



Συμπληρώστε $ΛΝ = \dots = \dots = \dots$

Οι διαγώνιες $ΛΞ$ $ΝΟ$ (Κάθετες)

- 11) **Τραπεζίο** λέγεται το τετράπλευρο που έχει **μόνο** δύο πλευρές
- 12) **Ύψος τραπεζίου** λέγεται η..... των βάσεων του..



ΦΕΡΤΕ ΤΑ ΥΨΗ ΣΤΟ ΤΡΑΠΕΖΙΟ

- 13) **Ισοσκελές τραπέζιο** λέγεται το τραπέζιο που έχει τις μη πλευρές του