

ΕΛΛΗΝΙΚΗ ΜΑΘΗΜΑΤΙΚΗ ΕΤΑΙΡΕΙΑ

Επιτροπή Διαγωνισμού του περιοδικού «Ο μικρός Ευκλείδης»

11^{ος} Πανελλήνιος Μαθητικός Διαγωνισμός

«Παιχνίδι και Μαθηματικά»

10 - 3 - 2017

Για μαθητές της Ε΄ Τάξης Δημοτικού

Όνοματεπώνυμο:	Βαθμός	
..... Δημοτικό Σχολείο	Τάξη/Τμήμα	

ΘΕΜΑ 1^ο

Από πόσα κυβάκια αποτελείται το διπλανό στερεό;

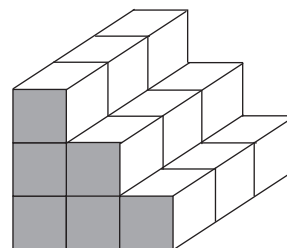
Να κυκλώσεις το σωστό.

α. 9

β. 12

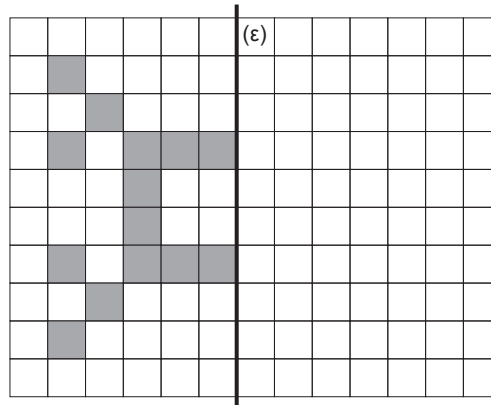
γ. 18

δ. 21



ΘΕΜΑ 2^ο

Να συμπληρώσεις το σχέδιο, ώστε να έχει άξονα συμμετρίας την ευθεία (ε).



ΘΕΜΑ 3^ο

Να γράψεις:

α. τον μεγαλύτερο οκταψήφιο φυσικό αριθμό,

β. τον μικρότερο δεκαδικό αριθμό με τριψήφιο ακέραιο μέρος και τριψήφιο δεκαδικό μέρος με ένα τουλάχιστον μη μηδενικό ψηφίο.

ΘΕΜΑ 4^ο

Να γράψεις το κατάλληλο σύμβολο (< , > ή =) σε κάθε τετράγωνο.

$$\frac{1}{2} \square \frac{1}{4}$$

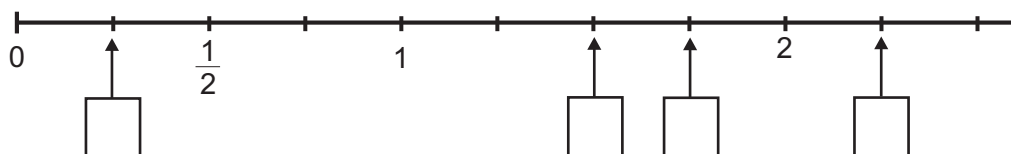
$$\frac{5}{10} \square \frac{7}{10}$$

$$\frac{6}{7} \square \frac{60}{70}$$

$$\frac{3}{4} \square \frac{4}{5}$$

ΘΕΜΑ 5^ο

Να γράψεις το κλάσμα ή τον μεικτό αριθμό που δείχνει κάθε βέλος στην παρακάτω αριθμογραμμή.



ΘΕΜΑ 6°

Η Μαρία περιμένει στη σειρά του κυλικείου του σχολείου. Μαζί με τη Μαρία περιμένουν συνολικά 17 παιδιά. Μπροστά της είναι τριπλάσια παιδιά από όσα είναι πίσω της. Ποια είναι η θέση της Μαρίας από την αρχή της σειράς;

Λύση

Απάντηση:

ΘΕΜΑ 7°

Η Νεφέλη έχει βάλει σε ένα κουτί κέρματα της ίδιας αξίας, που συνολικά είναι 5€. Πόσα κέρματα μπορεί να έχει το κουτί; Να γράψεις όλες τις περιπτώσεις.

Λύση

Απάντηση:

ΘΕΜΑ 8°

Ένα τρένο θα μετέφερε χαρτί βάρους 720 τόνων μοιρασμένο εξίσου σε 9 δρομολόγια. Αφού έκανε 3 δρομολόγια, αναγκάστηκε να αποσύρει κάποια βαγόνια του κι έτσι τα δρομολόγια αυξήθηκαν κατά δύο. Πόσους τόνους χαρτί μετέφερε το τρένο σε καθένα από τα υπόλοιπα δρομολόγια;



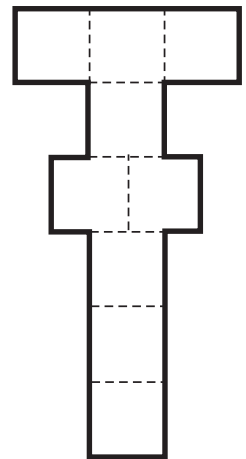
Λύση

Απάντηση:

ΘΕΜΑ 9°

Τα παιδιά της Ε΄ τάξης σχεδίασαν στην αυλή του σχολείου 9 τετράγωνα με πλευρά 45 εκ. το καθένα, για να παίξουν κουτσό, όπως φαίνεται στο διπλανό σχήμα. Πόσα μέτρα είναι η περίμετρος του σχήματος που έφτιαξαν;

Λύση



Απάντηση:

ΘΕΜΑ 10°

Ο Κυριάκος έφαγε τα $\frac{5}{12}$ της σοκολάτας του διπλανού σχήματος. Η Έφη έφαγε τα $\frac{3}{7}$ από την υπόλοιπη σοκολάτα.



Πόσα κομμάτια σοκολάτας έφαγε ο Κυριάκος και πόσα η Έφη;

Λύση

Απάντηση:

ΚΑΛΗ ΕΠΙΤΥΧΙΑ

ΘΕΜΑΤΑ Ε΄ ΤΑΞΗ / 2