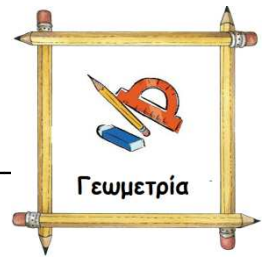
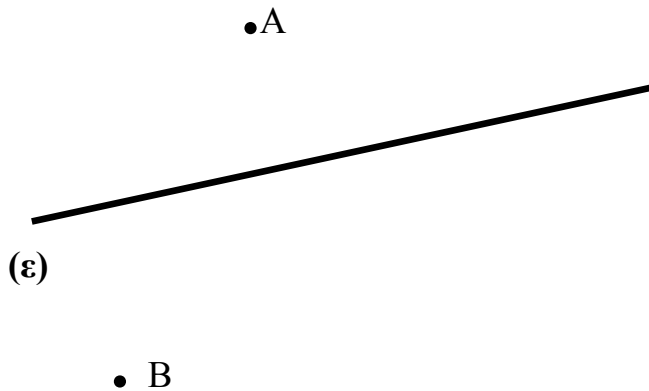


Σχεδιάζω παράλληλες μεταξύ τους ευθείες

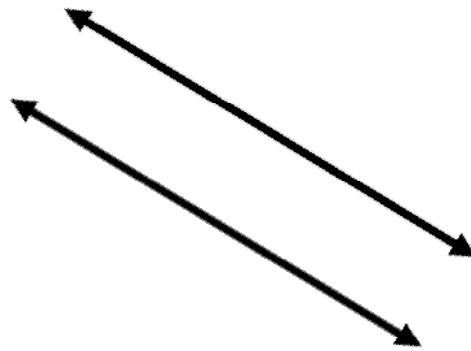
Όνομα: \_\_\_\_\_



1. Να σχεδιάσεις από το σημείο A και B τις δύο παράλληλες ευθείες ως προς την ευθεία (ε)



2. Να χαράξεις την απόσταση μεταξύ των δύο παραλλήλων



3. Να σχεδιάσεις δύο παράλληλες ευθείες προς την κόκκινη ευθεία. Σε απόσταση 3 εκ. (από πάνω) και 1 εκ. (από κάτω).



4. Στα παρακάτω σχήματα να σχεδιάσεις και να μετρήσεις την απόσταση των παράλληλων ευθειών

