


# Σχεδιάζω κάθετες μεταξύ τους ευθείες



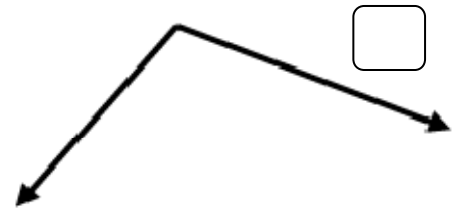
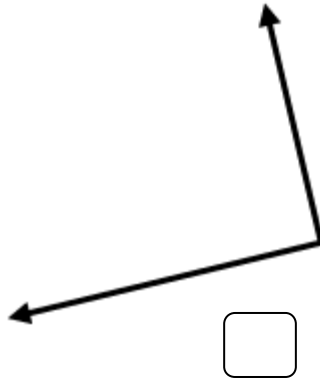
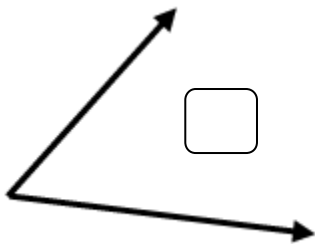
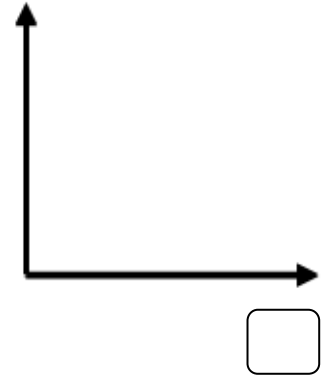
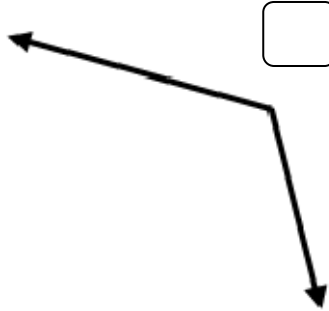
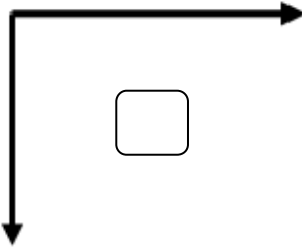
Όνομα: \_\_\_\_\_

1. Με τη βοήθεια του μοιρογνωμονίου



έλεγξε ποιες ευθείες είναι

κάθετες. Σημείωσε με x στο αντίστοιχο κουτάκι.



2. Χρησιμοποίησε τον γνώμονα



για να φέρεις κάθετες ευθείες.

