

Επαναληπτικές ασκήσεις

Εποχή του Χαλκού (3.000 π.Χ. – 1.100 π.Χ.)

1. Δώστε έναν σύντομο ορισμό για καθέναν από τους παρακάτω ιστορικούς όρους.

- ειδώλια: .....
- ιερογλυφικά: .....
- ἄναξ: .....
- ταυροκαθάψια: .....

2. Να αναφέρετε τα χρονικά όρια (χρονολογία εμφάνισης και παρακμής) των τριών βασικών πολιτισμών της Ελλάδας κατά την Εποχή του Χαλκού και έπειτα τοποθετήστε τους με τη σωστή χρονολογική σειρά συμπληρώνοντας την παρένθεση αριστερά (από το 1 έως το 3).

- ( ) Μυκηναϊκός πολιτισμός: από το ..... έως το .....
- ( ) Κυκλαδικός πολιτισμός: από το ..... έως το .....
- ( ) Μινωικός πολιτισμός: από το ..... έως το .....

3. Κατατάξτε στον πίνακα τις τοποθεσίες του πλαισίου, ανάλογα με τον πολιτισμό στον οποίο αναφέρονται (δεν μπορούν να συμπληρωθούν όλα τα κελιά κάθε στήλης).

Μάλια, Φυλακωπή, Θήβα, Ακρωτήρι Θήρας, Κνωσός, Τίρυνθα, Πύλος, Σύρος, Φαιστός, Σπήλαιο Καμαρών, Ζάκρος, Νάξος, Άργος

ΚΥΚΛΑΔΙΚΟΣ ΠΟΛΙΤΙΣΜΟΣ	ΜΙΝΩΙΚΟΣ ΠΟΛΙΤΙΣΜΟΣ	ΜΥΚΗΝΑΪΚΟΣ ΠΟΛΙΤΙΣΜΟΣ

4. Συμπληρώστε τα κενά των παρακάτω προτάσεων με τις κατάλληλες λέξεις.

- Το 1952 αποδείχτηκε ότι η Γραμμική Β΄ αποδίδει την ..... γλώσσα.
- Στην εμφάνιση του κυκλαδικού πολιτισμού συνέβαλε το ήπιο ..... και η καλή γεωγραφική ..... των Κυκλάδων.
- Τα πρώτα μινωικά ..... καταστράφηκαν από ισχυρό ..... το 1.700 π.Χ. .
- Οι Έλληνες της μυκηναϊκής εποχής είχαν κοινή γλώσσα και κοινή .....
- Η ιεραρχία της μυκηναϊκής ..... μπορεί να αποδοθεί με το σχήμα μιας πυραμίδας.
- Τα κυκλαδικά ειδώλια παρουσιάζουν τις ανθρώπινες μορφές με πολύ ..... τρόπο.
- Στην ..... βρισκόταν το παλάτι του βασιλιά Μίνωα.

5. Να αναφέρετε αν οι παρακάτω προτάσεις είναι σωστές (Σ) ή λανθασμένες (Λ).

- Η Γραμμική Α΄ ήταν συλλαβική γραφή.
- Οι δήμοι ήταν η κατώτερη κοινωνική τάξη της μυκηναϊκής κοινωνίας.
- Κάθε μινωικό ανάκτορο είχε διαφορετικό αρχιτεκτονικό σχέδιο από τα υπόλοιπα.
- Οι κυκλαδικοί οικισμοί καταστράφηκαν γύρω στο 2.300 π.Χ., μάλλον από επιδρομές άλλων πληθυσμών.
- Οι Μυκηναίοι δεν επηρεάστηκαν σε κάποιον τομέα από τους Μινωίτες.
- Στα μινωικά ανάκτορα συγκεντρωνόταν όλη η αγροτική παραγωγή της Κρήτης.
- Ο κυκλαδικός πολιτισμός είχε κάποιο σύστημα γραφής.
- Η Κάθοδος των Δωριέων μπορεί να οδήγησε τον μυκηναϊκό πολιτισμό στην πτώση του.

6. Αντιστοιχίστε τα στοιχεία της στήλης Α΄ με τις σωστές πληροφορίες της στήλης Β΄.

	Α΄
1	Τσάντγουικ
2	Πότνια
3	ιερατείο
4	αυλικοί
5	Έβανς
6	γραφείς
7	Σλήμαν
8	Θεά των όφρων


	Β΄
Α	Σύμβουλοι του μυκηναίου βασιλιά
Β	Ανακάλυψε την Κνωσό
Γ	Εξειδικευμένοι υπάλληλοι του ανακτόρου
Δ	Μυκηναϊκή θεότητα
Ε	Αποκρυπτογράφησε την Γραμμική Β΄
ΣΤ	Μινωική θεότητα
Ζ	Θρησκευτικοί άρχοντες
Η	Ανακάλυψε τις Μυκήνες

1	2	3	4	5	6	7	8

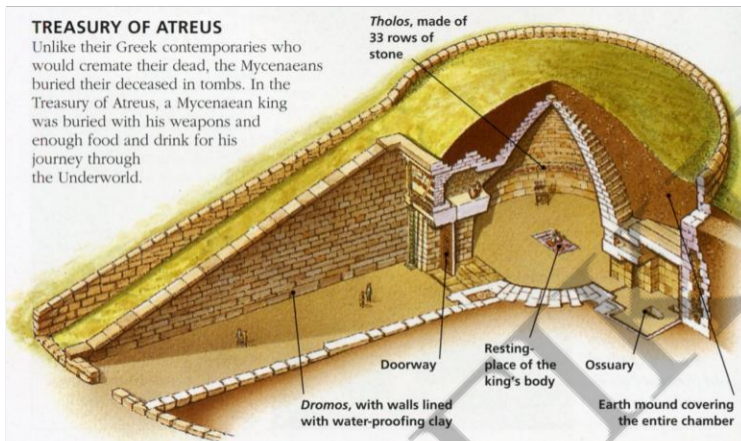
7. Να αναγνωρίσετε και να περιγράψετε σύντομα αυτό που δείχνει καθεμιά από τις παρακάτω εικόνες. Επίσης να αναφέρετε με ποιον πολιτισμό της Εποχής του Χαλκού σχετίζεται.




Εικόνα 1.



Εικόνα 2.



Εικόνα 3.



Εικόνα 4.



Εικόνα 5.