

ΟΝΟΜΑ: _____

Μαθηματικά 2η Ενότητα

11. Οι αριθμοί από το 6 μέχρι το 10 (II) (0 αριθμός 9)


1. Μαθαίνω και έπειτα συμπληρώνω τα ζευγαράκια του 9.

0	και	9
1	και	8
2	και	7
3	και	6
4	και	5
5	και	4
6	και	3
7	και	2
8	και	1
9	και	0




0	και	
	και	8
2	και	
	και	6
4	και	
5	και	
	και	3
7	και	
	και	1
9	και	


2. Πόσα ψαράκια χρειάζομαι για να έχω 9 στην κάθε γυάλα;




4 και _____




_____ και _____



_____ και _____



_____ και _____



_____ και _____