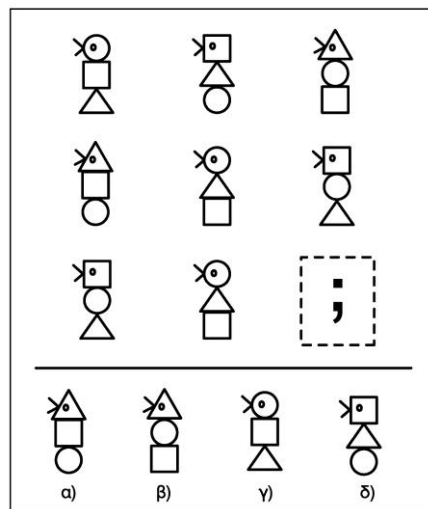


## Ασκήσεις Παρατηρητικότητας

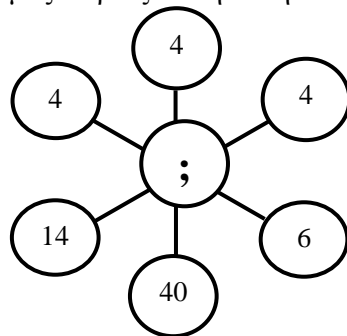
### □ Άσκηση 1

Ποιο σχήμα ταιριάζει στη θέση του ερωτηματικού;



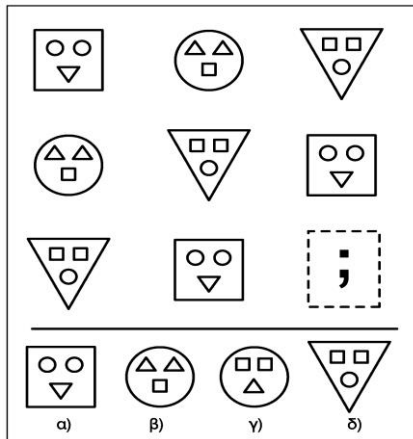
### □ Άσκηση 2

Ποιος αριθμός ταιριάζει στη θέση του ερωτηματικού;



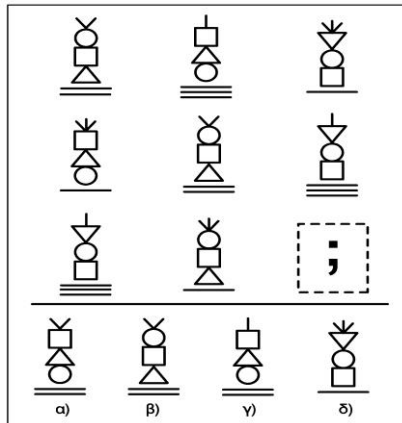
### □ Άσκηση 3

Ποιο σχήμα ταιριάζει στη θέση του ερωτηματικού;



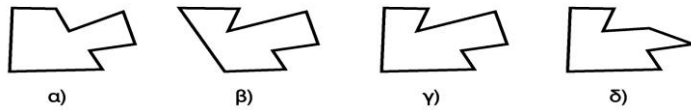
□ Άσκηση 4

Ποιο σχήμα ταιριάζει στη θέση του ερωτηματικού;



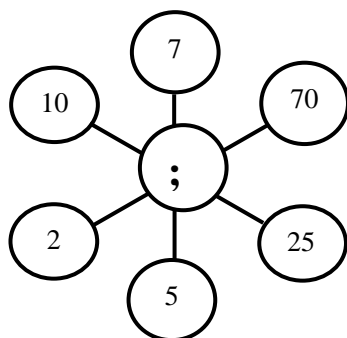
□ Άσκηση 5

Ποιο κομμάτι κόπηκε από το ξύλο;



□ Άσκηση 6

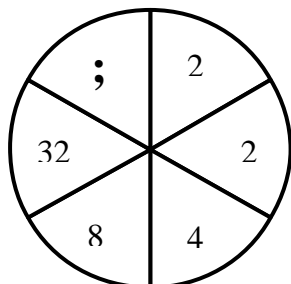
Ποιος αριθμός ταιριάζει στη θέση του ερωτηματικού;



- α) 100      β) 11      γ) 35      δ) 42

□ **Άσκηση 7**

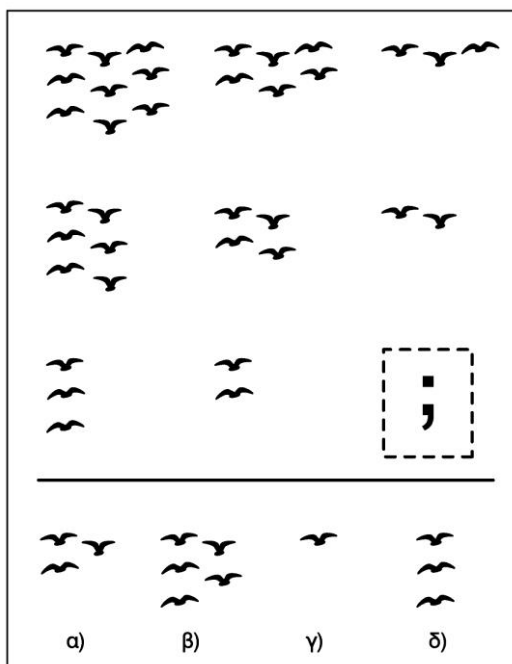
Ποιος αριθμός ταιριάζει στη θέση του ερωτηματικού;



- α) 256      β) 45      γ) 54      δ) 90

□ **Άσκηση 8**

Ποιος σχηματισμός πουλιών ταιριάζει στη θέση του ερωτηματικού;



□ **Άσκηση 9**

Ποιο από τα ζώα δεν ταιριάζει με τα υπόλοιπα;

- α) πρόβατο  
β) λύκος  
γ) κότα  
δ) ελάφι

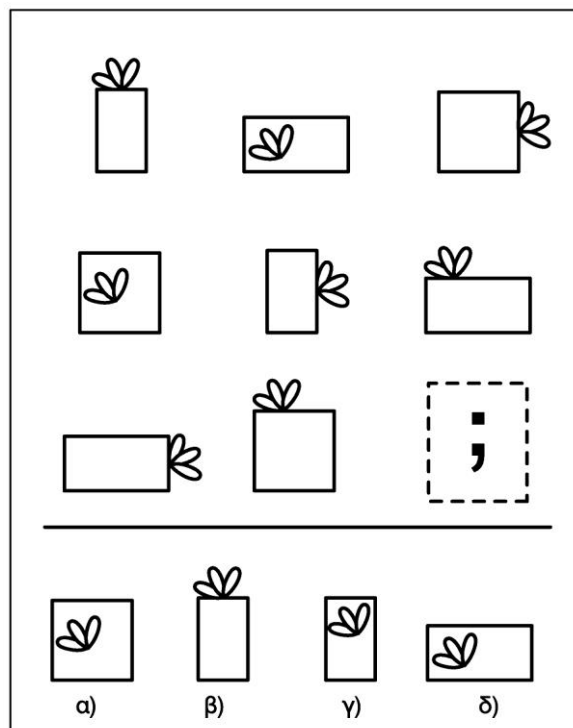
□ **Άσκηση 10**

Ποιο από τα δέντρα δεν ταιριάζει με τα υπόλοιπα;

- α) λεμονιά
- β) πορτοκαλιά
- γ) μανταρινιά
- δ) πεύκο

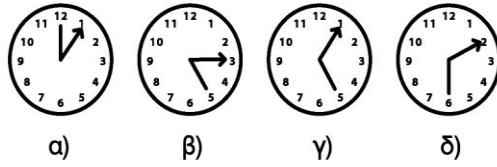

□ **Άσκηση 11**

Ποιο σχήμα ταιριάζει στη θέση του ερωτηματικού;



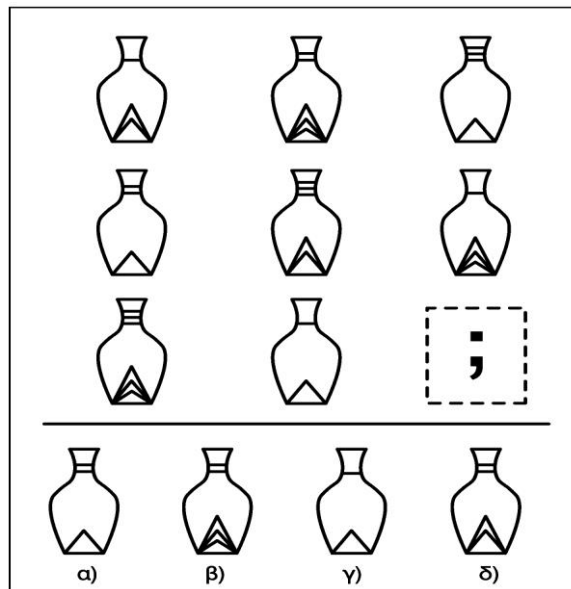
□ **Άσκηση 12**

Ποιο ρολόι ταιριάζει στη θέση του ερωτηματικού;



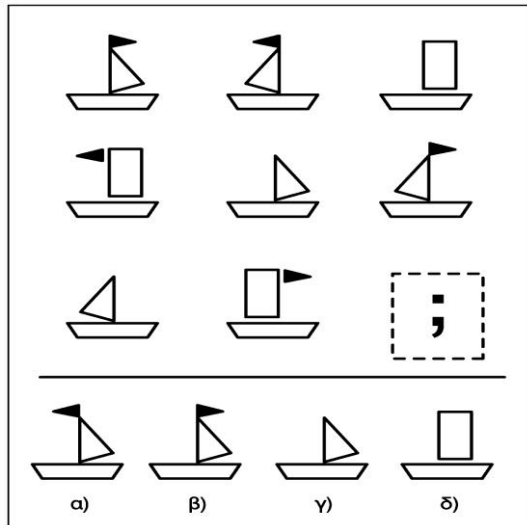
□ Άσκηση 13

Ποιο σχήμα ταιριάζει στη θέση του ερωτηματικού;




□ Άσκηση 14

Ποιο σχήμα ταιριάζει στη θέση του ερωτηματικού;



□ Άσκηση 15

Ποιο σχήμα ταιριάζει στη θέση του ερωτηματικού;



□ Άσκηση 16

Ποιος αριθμός ταιριάζει στη θέση του ερωτηματικού;

0,1	0,011	0,00111	
0,0011	0,111	0,01	
0,0111	0,001	;	
<hr/>			
0,011	0,0011	0,11	0,01
α)	β)	γ)	δ)

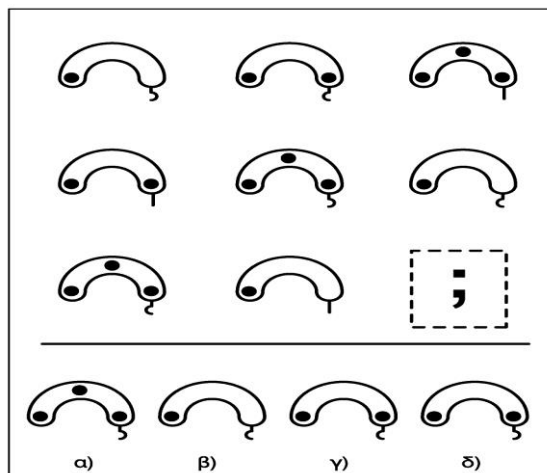
□ Άσκηση 17

Ποια λέξη δεν ταιριάζει με τις άλλες;

- α) παραχάρακτης
- β) επικεφαλίδα
- γ) εντομοκτόνο
- δ) τέλος

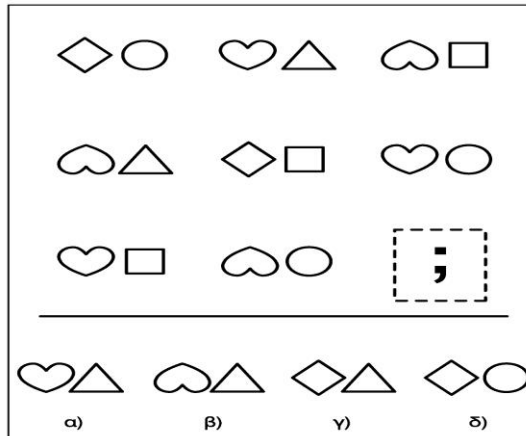
□ Άσκηση 18

Ποιο σχήμα ταιριάζει στη θέση του ερωτηματικού;



□ Άσκηση 19

Ποιο σχήμα ταιριάζει στη θέση του ερωτηματικού;



□ Άσκηση 20

Ποιο σχήμα ταιριάζει στη θέση του ερωτηματικού;

