


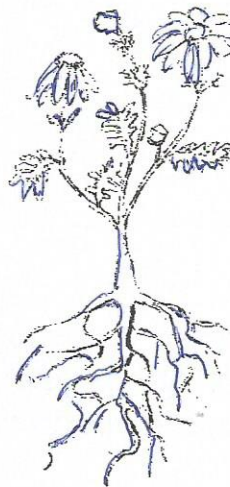
Όνοματεπώνυμο: .....

Ημερομηνία: .....

1) Σημείωσε τα βασικά μέρη των φυτών.

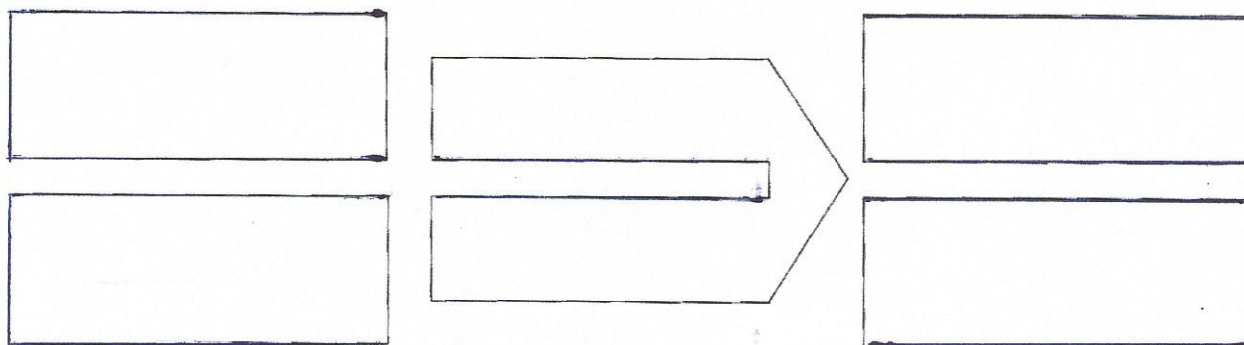


Three empty rectangular boxes for labeling the tree's parts.



2) Περιγράψε τη λειτουργία της φωτοσύνθεσης και συμπλήρωσε τα κουτάκια.

Seven horizontal dotted lines for writing the description of photosynthesis.



3) Η αναπνοή και η φωτοσύνθεση είναι «αντίθετες λειτουργίες». Μπορείς να εξηγήσεις την πρόταση αυτή;

---

---

---

---

---

4) Αν σκεπάσουμε ένα φυτό για μερικές ώρες με μια διαφανή σακούλα, θα παρατηρήσουμε στην εσωτερική της επιφάνεια σταγονίτσες νερού.  
**Σε ποια λειτουργία του φυτού οφείλεται αυτό;**

---

---

---

---

---

---

---

---



ΚΑΛΗ ΕΠΙΤΥΧΙΑ!!

ΒΑΘΜΟΛΟΓΙΑ