

Όνοματεπώνυμο:

1) Να κάνεις τις παρακάτω πράξεις:

$$\begin{array}{r} 32,08 \\ \times 1,9 \\ \hline \end{array}$$

$$\begin{array}{r} 121,7 \\ \times 8,8 \\ \hline \end{array}$$

$$\begin{array}{r} 6,004 \\ \times 0,3 \\ \hline \end{array}$$

$$\begin{array}{r} 21,472 \\ \times 7,04 \\ \hline \end{array}$$

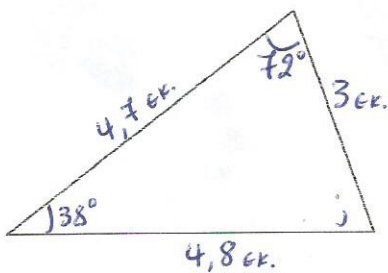
$$\begin{array}{r} 4,1496 \\ \times 6,24 \\ \hline \end{array}$$

$$\begin{array}{r} 9,8 \\ \times 0,125 \\ \hline \end{array}$$

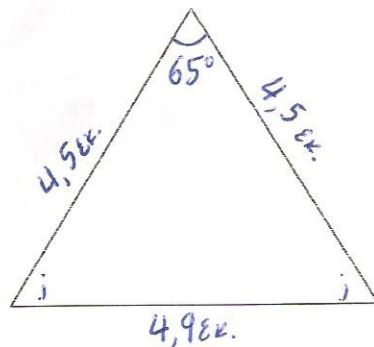
2) Ένα οικόπεδο σχήματος ορθογωνίου παραλληλογράμμου έχει μήκος 24,45μ. και πλάτος 18,30μ. Θέλουμε να το περιφράξουμε με σήτα, που κοστίζει 2,05 ευρώ το μέτρο. Πόσα ευρώ θα πληρώσουμε;

Απάντηση:

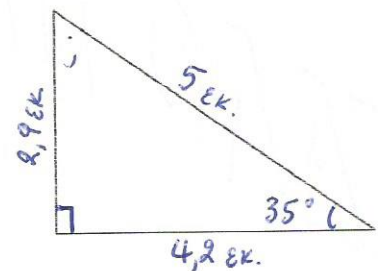
3) Να βρεις τα μέτρα των γωνιών των τριγώνων και την περίμετρό τους. Έπειτα να σχεδιάσεις στο πρώτο τρίγωνο τα ύψη του.



Περίμετρος:



Περίμετρος:



Περίμετρος: