

## ΑΣΚΗΣΕΙΣ ΣΤΗ ΓΛΩΣΣΑ

1. Να συμπληρώσεις τον παρακάτω πίνακα:

Ονομαστική ενικού	Γενική ενικού	Αιτιατική ενικού	Γενική πληθυντικού	Αιτιατική πληθυντικού
ο βυσσινης				
η σταχτιά				
το θαλασσί				
ο κανελής				
η πορτοκαλιά				
το καφετί				

2. Να συμπληρώσεις τα ρήματα που λείπουν κρατώντας τον αριθμό και το πρόσωπο στα οποία βρίσκονται:

ΧΡΟΝΟΙ ΡΗΜΑΤΩΝ			
Ενεστώτας	<i>κεντώ</i>		
Παρατατικός			<i>σκέφτονταν</i>
Αόριστος			
Εξακολουθητικός		<i>θα αγοράζει</i>	
Συνοπτικός μέλ.			
Παρακείμενος			
Υπερσυντέλικος			
Συντελεσμένος μέλ			

## ΑΣΚΗΣΕΙΣ ΣΤΑ ΜΑΘΗΜΑΤΙΚΑ

1. Να κάνεις τις πράξεις κάθετα:

A)  $53,008 + 10,712$

β)  $56,002 - 5,09$

γ)  $25,35 \times 3,6$

2. Συμπλήρωσε τους αριθμούς στα μαγικά τετράγωνα:

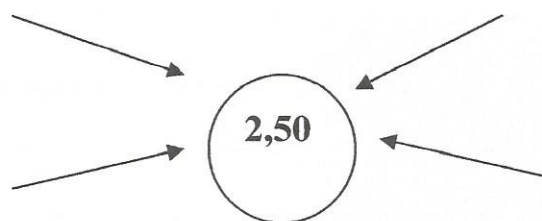
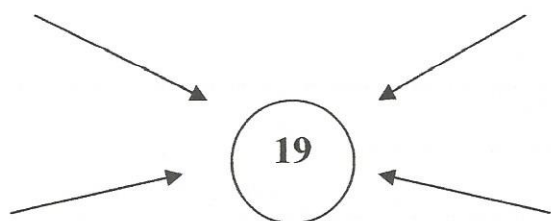
	0,5	
0,8		0,6

Οριζόντια, κάθετα και διαγώνια να έχουν άθροισμα : 1,5

$\frac{2}{10}$	$\frac{7}{10}$	
$\frac{9}{10}$		

Οριζόντια, κάθετα και διαγώνια να έχουν άθροισμα : 1,5


3. Γράψε ποιους αριθμούς μπορεί να στρογγυλοποιήσες για να φτάσεις στον αριθμό-στόχο:



4. Η μητέρα αγόρασε τη διπλανή τούρτα για τα γενέθλια της Μυρτώς. Πόσο πλήρωσε;

Εκτιμώ: .....

Υπολογίζω με ακρίβεια πόσο κόστισε:



Πόση είναι η διαφορά (σφάλμα) στην εκτίμηση και στον ακριβή υπολογισμό;

.....