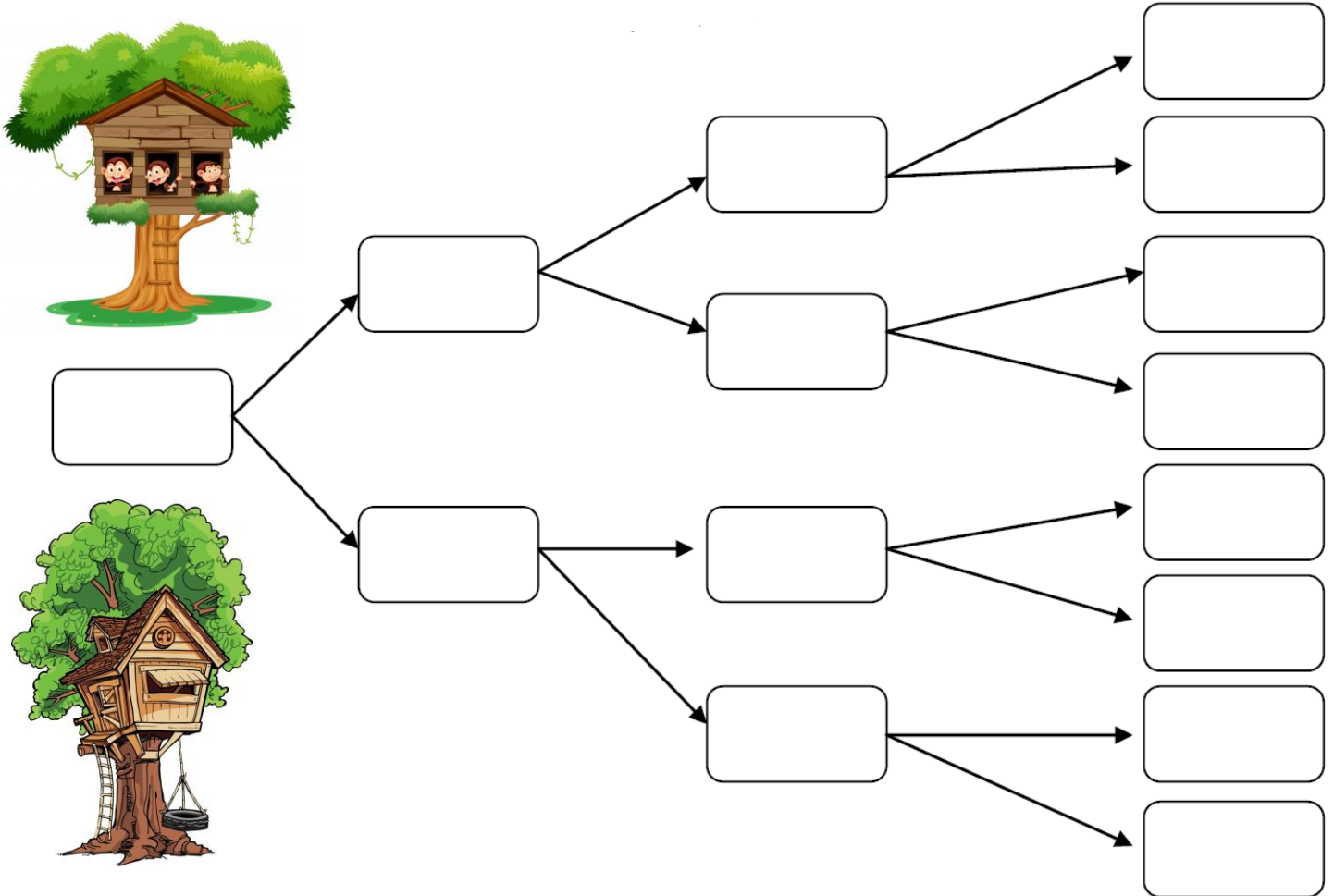


ΟΝΟΜΑ: _____

ΜΑΘΗΜΑΤΙΚΑ 8^η ΕΝΟΤΗΤΑ

Κεφ.46: Λύνω προβλήματα: Στρατηγικές νοερών υπολογισμών (α)

1. Συμπληρώνω το μαγικό δέντρο του 1.000.



2. Με την βοήθεια της άσκησης 1 λύνω τα παρακάτω.

$$500 + \underline{\quad} = 1.000$$

$$\underline{\quad} + 250 = 500$$

$$250 + \underline{\quad} + \underline{\quad} + \underline{\quad} = 1.000$$

$$125 + \underline{\quad} = 250$$

$$125 + \underline{\quad} + \underline{\quad} + \underline{\quad} = 500$$



$$2 \times \underline{\quad} = 1.000$$

$$2 \times \underline{\quad} = 500$$

$$\underline{\quad} \times 250 = 1.000$$

$$2 \times 125 = \underline{\quad}$$

$$\underline{\quad} \times 125 = 500$$



3. Κάνω τους παρακάτω υπολογισμούς όπως το παράδειγμα.

$$2 \times 5 = 10$$

$$2 \times 50 = 100$$

$$2 \times 500 = 1.000$$

$$2 \times 3 = \underline{\quad}$$

$$2 \times 30 = \underline{\quad}$$

$$2 \times 300 = \underline{\quad}$$










$$3 \times 3 = \underline{\quad}$$

$$3 \times 30 = \underline{\quad}$$

$$3 \times 300 = \underline{\quad}$$



4. Οι γονείς του Δημήτρη ψώνισαν από το μανάβικο της γειτονιάς. Μπορείς να συμπληρώσεις τον παρακάτω πίνακα;

| Αγόρασαν | Έφαγαν | Έμειναν |
|--|---|--|
|  700 γραμ. |  400 γραμ. |  _____ γραμ. |
|  1.000 γραμ. |  _____ γραμ. |  100 γραμ. |
|  _____ γραμ. |  500 γραμ. |  300 γραμ. |

5. Παρατηρώ τις εικόνες και απαντώ στις παρακάτω ερωτήσεις.



Μέλι Θυμαρίσιο
6 € το μισό κιλό



Ανθόμελο
2 € τα 250 γραμ.

Πόσο κοστίζει ένα κιλό Θυμαρίσιο μέλι; _____

Πόσο κοστίζει ένα κιλό ανθόμελο; _____

Πόσο κοστίζει ενάμισι κιλό Θυμαρίσιο μέλι; _____

Πόσο κοστίζει ενάμισι κιλό ανθόμελο; _____