

ΟΝΟΜΑ: \_\_\_\_\_

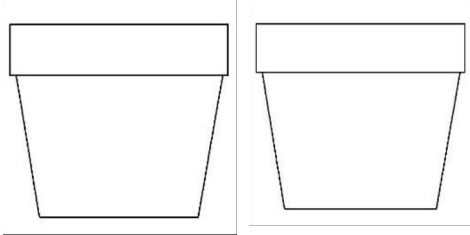
## ΜΑΘΗΜΑΤΙΚΑ 3<sup>η</sup> ΕΝΟΤΗΤΑ

### Κεφ.22: Αναλύω αριθμούς μέχρι το 100. Εισαγωγή στην Προπαίδεια



1. Φτιάχνω το δικό μου κήπο, σύμφωνα με τις οδηγίες που μου δίνονται.

❁ Σε κάθε γλάστρα ζωγραφίζω από 3 λουλούδια.

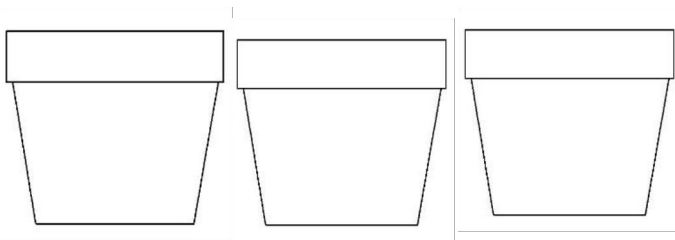


Έφτιαξα \_\_\_ γλάστρες με \_\_\_  
λουλούδια η κάθε μια. Δηλαδή:

$$\underline{\quad} + \underline{\quad} = \underline{\quad}$$

$$\text{ή } \underline{\quad} \times \underline{\quad} = \underline{\quad}$$

❁ Σε κάθε γλάστρα ζωγραφίζω από 2 λουλούδια.

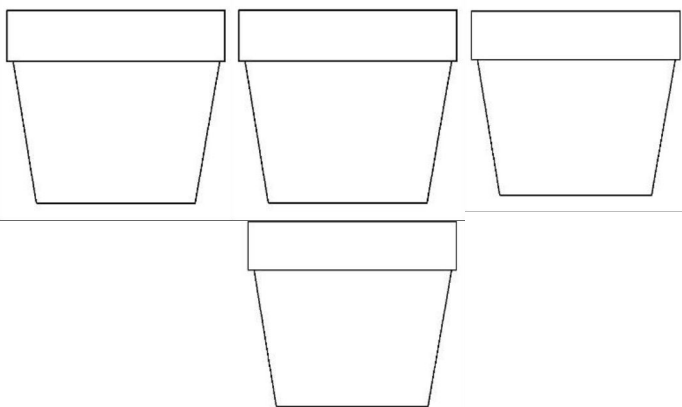


Έφτιαξα \_\_\_ γλάστρες με \_\_\_  
λουλούδια η κάθε μια. Δηλαδή:

$$\underline{\quad} + \underline{\quad} + \underline{\quad} = \underline{\quad}$$

$$\text{ή } \underline{\quad} \times \underline{\quad} = \underline{\quad}$$

❁ Σε κάθε γλάστρα ζωγραφίζω από 4 λουλούδια.

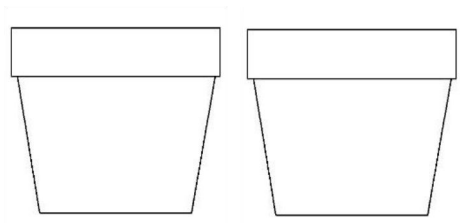


Έφτιαξα \_\_\_ γλάστρες με \_\_\_  
λουλούδια η κάθε μια. Δηλαδή:

$$\underline{\quad} + \underline{\quad} + \underline{\quad} + \underline{\quad} = \underline{\quad}$$

$$\text{ή } \underline{\quad} \times \underline{\quad} = \underline{\quad}$$

❁ Σε κάθε γλάστρα ζωγραφίζω από 7 λουλούδια.



Έφτιαξα \_\_\_ γλάστρες με \_\_\_  
λουλούδια η κάθε μια. Δηλαδή:

$$\underline{\quad} + \underline{\quad} = \underline{\quad}$$

$$\text{ή } \underline{\quad} \times \underline{\quad} = \underline{\quad}$$