

ΟΝΟΜΑ: _____

Μαθηματικά 9η Ενότητα

59. Πολλαπλασιασμός και διαίρεση

1. Βρίσκω πόσα πόδια έχουν τα σκυλάκια.

Το 1 σκυλάκι έχει ____ πόδια.

Άρα 1 φορά το 4 =



Τα 2 σκυλάκια έχουν ____ πόδια.

Άρα 2 φορές το 4 =



$$\square + \square = \square$$

Τα 3 σκυλάκια έχουν ____ πόδια.

Άρα 3 φορές το 4 =



$$\square + \square + \square = \square$$

Τα 4 σκυλάκια έχουν ____ πόδια.



Άρα 4 φορές το 4 =



$$\square + \square + \square + \square = \square$$

2. Μοιράζω ισάξια τα ψαράκια στις γατούλες.



Πόσα ψαράκια θα πάρει η κάθε γατούλα;



Κάθε γατούλα θα πάρει ___ ψαράκια,

γιατί ___ φορές το ___ = ___



Πόσα ψαράκια θα πάρει η κάθε γατούλα;



Κάθε γατούλα θα πάρει ___ ψαράκια,

γιατί ___ φορές το ___ = ___

Πόσα ψαράκια θα πάρει η κάθε γατούλα;



Κάθε γατούλα θα πάρει ___ ψαράκια,

γιατί ___ φορές το ___ = ___