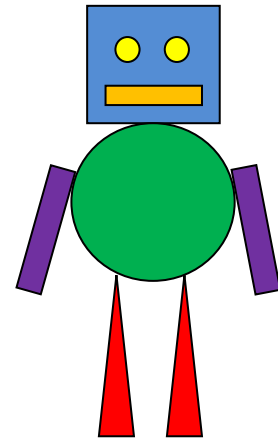


Φύλλο Εργασίας Μαθηματικών 2

1. Ο Άλφι και ο Αρνό παίζοντας με τα γεωμετρικά σχήματα έφτιαξαν ένα ρομπότ!

Για να το φτιάξουν χρησιμοποίησαν:



Για το κεφάλι: ένα μπλε τετράγωνο.


(Συμπλήρωσε τα επόμενα)



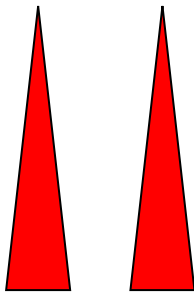
Για τα μάτια: _____




Για το στόμα: _____



Για το σώμα: _____



Για τα πόδια: _____



Για τα χέρια: _____

Φτιάξε κι εσύ το δικό σου ρομπότ χρησιμοποιώντας τα γεωμετρικά σχήματα που ξέρεις!

2. Μπορείς φτιάξεις και ένα τρισδιάστατο ρομπότ χρησιμοποιώντας ένα χάρτινο ρολό όπως στην παρακάτω εικόνα.

Ποιο γεωμετρικό στερεό είναι το χάρτινο ρολό; _____

Φτιάξε μύτη, μάτια στόμα κλπ, χρησιμοποιώντας γεωμετρικά σχήματα!



Πηγή: <http://ukkonooa.blogspot.com/>