

## Φύλλο Εργασίας Μαθηματικών 1

Α. Ο Άλφι, το μικρό ρομπότ, κοιτάζει στο βιβλίο Μαθηματικών του Αρνό τα γεωμετρικά σχήματα και τα γεωμετρικά στερεά:

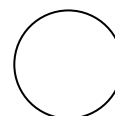
### Γεωμετρικά σχήματα



τετράγωνο



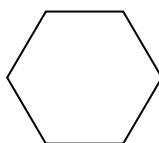
ορθογώνιο  
παραλληλόγραμμο



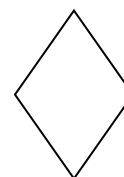
κύκλος



τρίγωνο

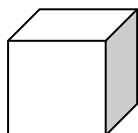


εξάγωνο




ρόμβος

### Γεωμετρικά στερεά



κύβος




ορθογώνιο  
παραλληλεπίπεδο



κύλινδρος


1. Μετά ο Άλφι αρχίζει να κάνει περίεργες ζωγραφιές. Ο Αρνό μιλάει στο τηλέφωνο με ένα φίλο του και περιγράφει τι βλέπει.

Ξεκίνησε έτσι: Η 1<sup>η</sup> ζωγραφιά του Άλφι είναι:

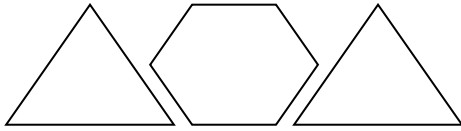


Ένας ρόμβος ανάμεσα σε δυο κύκλους.

(Συνέχισε την περιγραφή)



.....

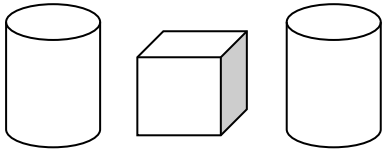


.....

2. Κατόπιν ο Άλφι άρχισε να παίζει με τα τουβλάκια του Αρνό. Ο Αρνό συνέχισε την περιγραφή:

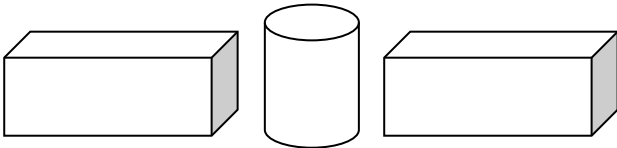
*Τώρα ο Άλφι τοποθέτησε:*

*(Συνέχισε την περιγραφή)*




.....

.....



.....


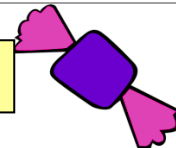
.....



.....

.....

3. Μερικά από τα ψώνια του κ. Άγγελου είναι τα παρακάτω. Ζωγράφισε όσα νομίσματα χρειάστηκε για να αγοράσει τα πράγματα που φαίνονται στις εικόνες.

	
80 λεπτά	35 λεπτά



8 ευρώ



145 ευρώ