


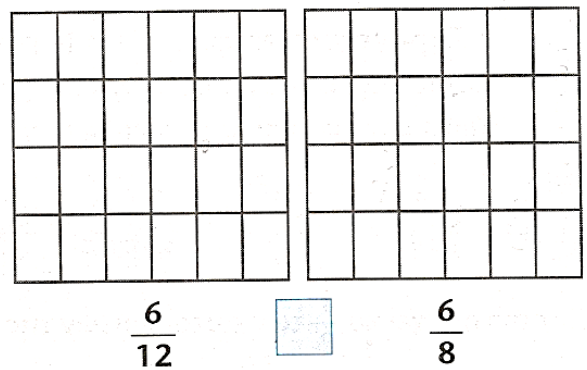
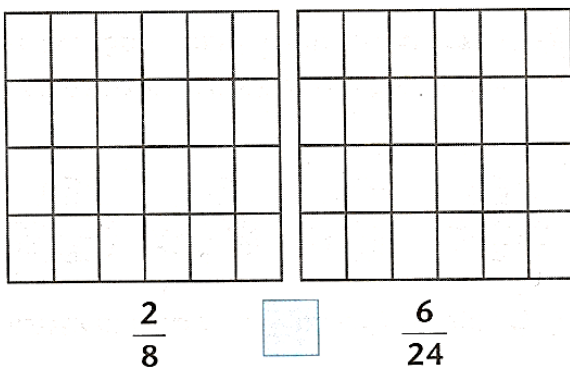
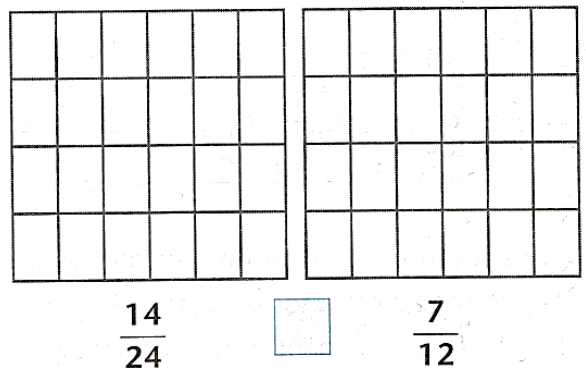
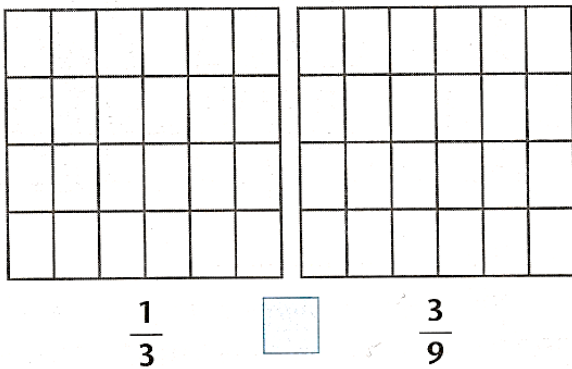
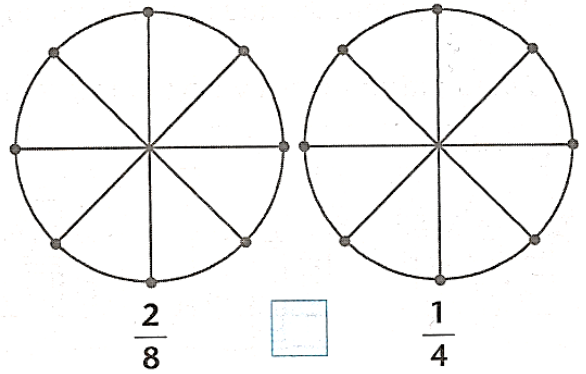
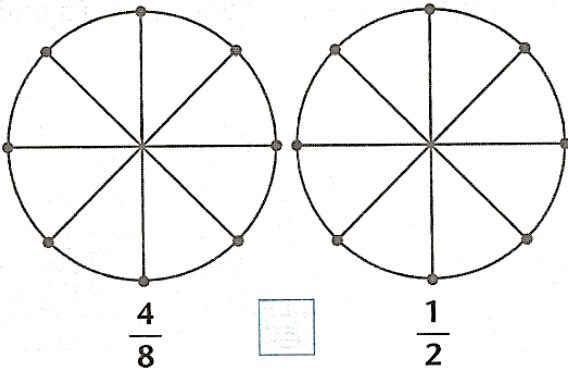


Ισοδύναμα κλάσματα

Όνομα: _____
Ημερομηνία: _____



1. Χρωματίζω το μέρος που δηλώνει κάθε κλάσμα και βάζω το σύμβολο της ισότητας σε όσα από τα παρακάτω ζεύγη κλασμάτων είναι ίσα:




Ισοδύναμα κλάσματα




2. Ένα παζλ έχει 48 κομμάτια. Η Μαρία έφτιαξε το $\frac{1}{4}$ των κομματιών, η Ελένη τα $\frac{2}{8}$, ο Νίκος τα $\frac{6}{24}$ και ο Σταύρος τα υπόλοιπα. Πόσα κομμάτια έφτιαξε κάθε παιδί;

Λύση




Απάντηση:


3. Ποιος ποδηλάτης κάλυψε τη μεγαλύτερη απόσταση; Χρωματίζω το μέρος που δηλώνει κάθε κλάσμα:

α.  $\frac{3}{4}$


--	--	--	--	--	--	--	--	--	--	--	--	--	--	--	--	--	--	--	--

β.  $\frac{8}{12}$

--	--	--	--	--	--	--	--	--	--	--	--	--	--	--	--	--	--	--	--

γ.  $\frac{2}{3}$

--	--	--	--	--	--	--	--	--	--	--	--	--	--	--	--	--	--	--	--

δ.  $\frac{4}{6}$

--	--	--	--	--	--	--	--	--	--	--	--	--	--	--	--	--	--	--	--

Απάντηση: