



Οι κλασματικές μονάδες

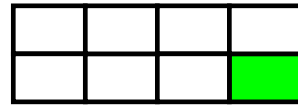
Όνομα: _____
Ημερομηνία: _____



1. Τι μέρος κάθε σχήματος είναι χρωματισμένο;
Γράφω το κατάλληλο κλάσμα:



↙ —



↙ —

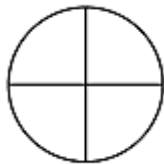


↙ —

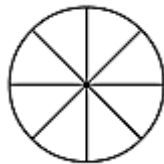


↙ —

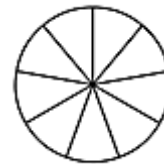
2. Χρωματίζω το μέρος του σχήματος που λέει κάθε κλάσμα.




$$\frac{1}{4}$$



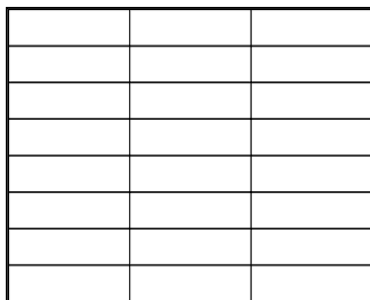
$$\frac{1}{8}$$



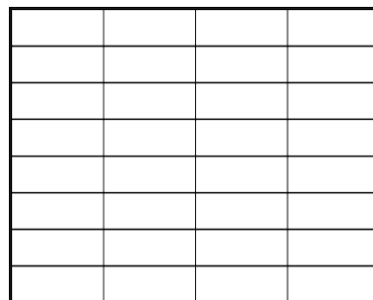
$$\frac{1}{9}$$



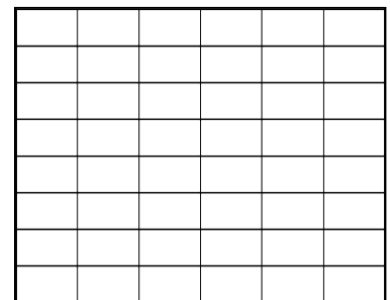
3. Χρωματίζω το:



$$\frac{1}{3}$$



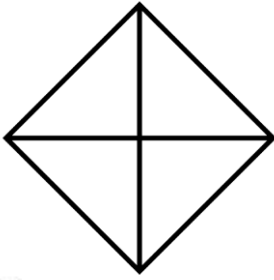
$$\frac{1}{4}$$



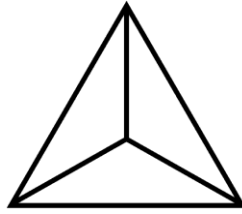
$$\frac{1}{6}$$

Οι κλασματικές μονάδες

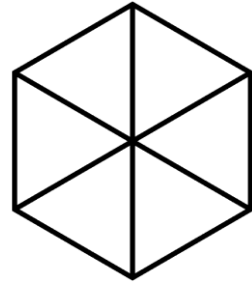
4. Χρωματίζω το:



$$\frac{1}{4}$$




$$\frac{1}{3}$$

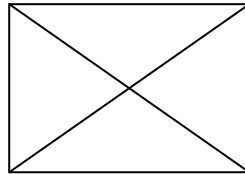


$$\frac{1}{6}$$

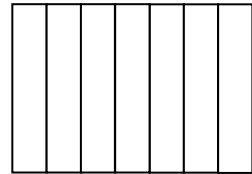
5. Χρωματίζω το μέρος του σχήματος που λέει κάθε κλάσμα:



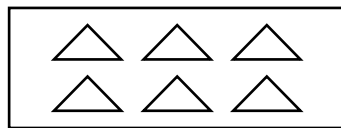
$$\frac{1}{5}$$



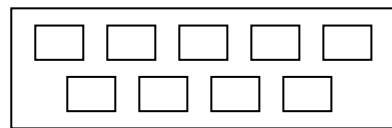
$$\frac{1}{4}$$



$$\frac{1}{7}$$



$$\frac{1}{6}$$




$$\frac{1}{9}$$



Οι κλασματικές μονάδες

6. Συμπληρώνω τις λέξεις ή τους αριθμούς που λείπουν:


$\frac{1}{2}$ 

 Ένα δωδέκατο


$\frac{1}{4}$ 

 Ένα εικοστό

$\frac{1}{6}$ 

 Ένα έβδομο


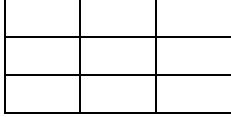




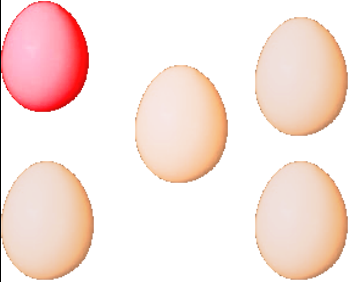

$\frac{1}{9}$ 

 Ένα όγδοο

$\frac{1}{10}$ 

Οι κλασματικές μονάδες

7. Σχηματίζω και γράφω τις κλασματικές μονάδες.

Ένα ένατο		
Κυκλώνω	Χρωματίζω	Γράφω το κλάσμα
		_____
Ένα τρίτο		
Κυκλώνω	Χρωματίζω	Γράφω το κλάσμα
		_____
Ένα δεύτερο		
Κυκλώνω	Χρωματίζω	Γράφω το κλάσμα
		_____
Ένα πέμπτο		
Κυκλώνω	Χρωματίζω	Γράφω το κλάσμα
		_____