
















# Επαναληπτικό ΤΕΣΤ στη 2<sup>η</sup> ενότητα

Όνομα: \_\_\_\_\_

Ημερομηνία: \_\_\_\_\_



1. Βοηθώ τους τουρίστες να βρουν τις βαλίτσες τους:

 9 x 11	 12 x 5	 13 x 8	 6 x 12	 6 x 15	 7 x 10
60	99	104	90	70	72
					

2. Μετρώ με το χάρακά μου τις γραμμές ΑΒ και ΓΔ. Ποια είναι μεγαλύτερη;

A \_\_\_\_\_ B

Γ \_\_\_\_\_ Δ

Γραμμή ΑΒ: ..... χιλ.

Γραμμή ΓΔ: ..... χιλ.

Απάντηση: .....

3. Αφαιρώ:

$$\begin{array}{r} 84 \\ - 43 \\ \hline \end{array}$$

$$\begin{array}{r} 93 \\ - 47 \\ \hline \end{array}$$

$$\begin{array}{r} 80 \\ - 26 \\ \hline \end{array}$$

$$\begin{array}{r} 91 \\ - 59 \\ \hline \end{array}$$

$$\begin{array}{r} 92 \\ - 86 \\ \hline \end{array}$$


$$\begin{array}{r} 75 \\ - 9 \\ \hline \end{array}$$

$$\begin{array}{r} 31 \\ - 6 \\ \hline \end{array}$$

$$\begin{array}{r} 87 \\ - 7 \\ \hline \end{array}$$


$$\begin{array}{r} 32 \\ - 5 \\ \hline \end{array}$$

$$\begin{array}{r} 80 \\ - 4 \\ \hline \end{array}$$



# Επαναληπτικό τεστ

## στη 2<sup>η</sup> ενότητα



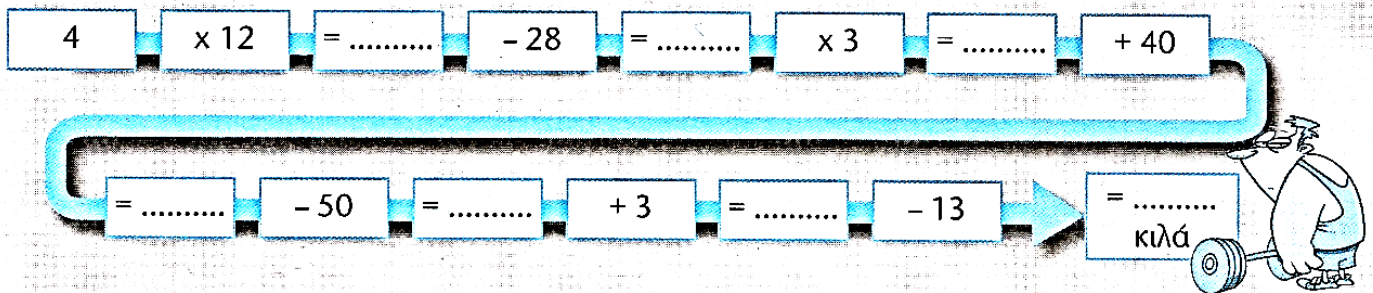
4. Αναλύω τους αριθμούς σε γινόμενα, όπως στο παράδειγμα:

α.  $529 = 500 + 20 + 9 = (5 \times 100) + (2 \times 10) + 9$

β.  $760 = \dots\dots\dots$

γ.  $491 = \dots\dots\dots$


5. Κάνω σωστά τις πράξεις και βρίσκω πόσα κιλά σήκωσε ο Παντελής:



6. Η κυρία Μαργαρίτα αγόρασε 5 τριαντάφυλλα και 6 λίλιουμ. Πλήρωσε μ' ένα χαρτονόμισμα των 50€. Πόσα ρέστα πήρε;

Λύση

το ένα τριαντάφυλλο 2 €  
το ένα λίλιουμ 3 €



Απάντηση: .....

