
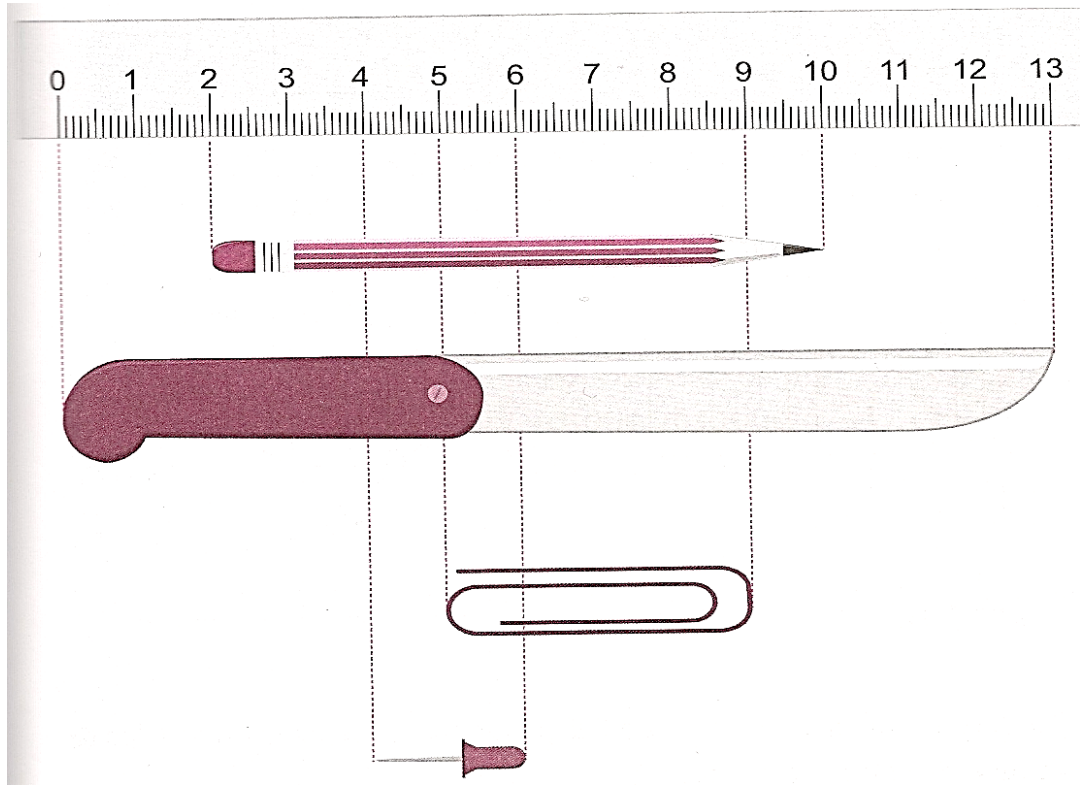


# Επαναληπτικές ασκήσεις 2<sup>ης</sup> ενότητας

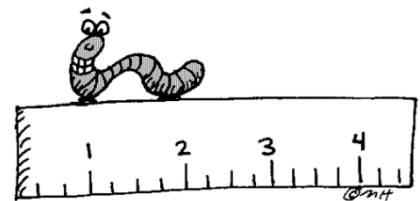
Όνομα: \_\_\_\_\_  
 Ημερομηνία: \_\_\_\_\_



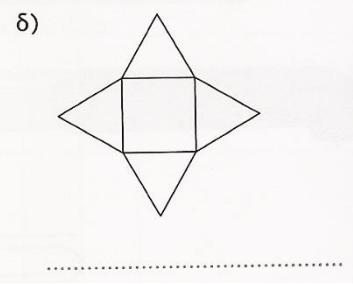
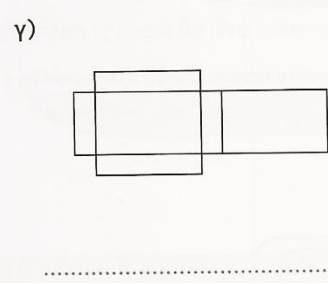
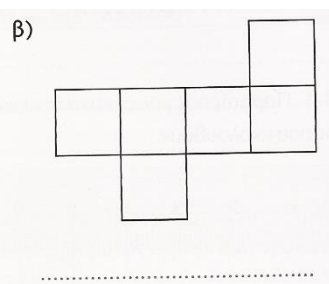
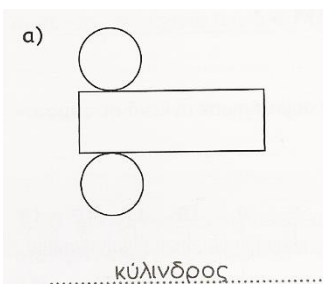
1. Παρατηρώ προσεκτικά την εικόνα και συμπληρώνω τα κενά στις προτάσεις που ακολουθούν:



- α) Το μήκος του μαχαιριού είναι ..... εκ.
- β) Το μήκος του μολυβιού είναι ..... εκ.
- γ) Το μήκος του συνδετήρα είναι ..... εκ.
- δ) Το μήκος της πινέζας είναι ..... εκ.
- ε) Το μολύβι είναι ..... εκ. πιο μακρύ από τον συνδετήρα.
- στ) Η πινέζα είναι ..... εκ. πιο κοντή από το μαχαίρι.



2. Ποιο γεωμετρικό στερεό θα προκύψει, αν διπλώσουμε καθένα από τα παρακάτω αναπτύγματα;



# Επαναληπτικές ασκήσεις 2<sup>ns</sup> ενότητας



3. Τοποθετώ τους αριθμούς κάθετα και υπολογίζω το αποτέλεσμα:

α) $57 - 37$	β) $23 - 18$	γ) $85 - 46$	δ) $71 - 8$
.....	.....	.....	.....
- .....	- .....	- .....	- .....
.....	.....	.....	.....

4. Ο κυρ-Θανάσης έχει στο αγρόκτημά του πρόβατα, γουρούνια, κουνέλια, κότες και περιστέρια. Ο παρακάτω πίνακας δείχνει πόσα ζώα από το κάθε είδος έχει ο κυρ-Θανάσης στο αγρόκτημά του:

Είδος ζώου	Αριθμός ζώων
Πρόβατα	15
Γουρούνια	12
Κουνέλια	14
Κότες	30
Περιστέρια	20

- Πόσες περισσότερες είναι οι κότες από τα κουνέλια;  
.....
- Πόσα είναι όλα τα ζώα μαζί;  
.....
- Πόσα πόδια έχουν τα περιστέρια και τα πρόβατα μαζί;  
.....
- Πόσα περισσότερα είναι τα πόδια που έχουν τα κουνέλια από τα πόδια που έχουν τα γουρούνια του αγροκτήματος;  
.....
- Πόσα λιγότερα είναι τα πόδια που έχουν τα γουρούνια από τα πόδια που έχουν οι κότες του αγροκτήματος;  
.....

5. Οδηγώ το κουτάβι στο σπίτι του:

$8 \times 9 = \dots - 12 = \dots$   
 $90 + \dots = 3 \times \dots = 40$   
 $=$

$\dots - 370 = \dots : 4 = \dots + 8$   
 $=$   
 $\dots = 11 + \dots = 3 \times \dots$   
 $\times$   
 $7 = \dots - 200 = \dots \mu.$