














Προσθέσεις και αφαιρέσεις τριψήφων αριθμών


Όνομα: _____
 Ημερομηνία: _____



1. Αντιστοιχίζω όσα είναι ίσα:


 $150 + 20$	 $145 + 35$	 $134 + 16$	 $252 - 150$	 $431 - 231$	 $628 - 430$
 180	 200	 170	 198	 150	 102

2. Κάνω κάθετα τις παρακάτω προσθέσεις:

$\begin{array}{r} 272 \\ + 116 \\ \hline \end{array}$	$\begin{array}{r} 507 \\ + 455 \\ \hline \end{array}$	$\begin{array}{r} 309 \\ + 213 \\ \hline \end{array}$	$\begin{array}{r} 703 \\ + 119 \\ \hline \end{array}$	$\begin{array}{r} 320 \\ + 197 \\ \hline \end{array}$
 $\begin{array}{r} 425 \\ + 45 \\ \hline \end{array}$	$\begin{array}{r} 705 \\ 123 \\ + 38 \\ \hline \end{array}$	$\begin{array}{r} 308 \\ 141 \\ + 24 \\ \hline \end{array}$	$\begin{array}{r} 506 \\ 142 \\ + 19 \\ \hline \end{array}$	$\begin{array}{r} 432 \\ 106 \\ + 43 \\ \hline \end{array}$

3. Συγκρίνω τα παρακάτω ζεύγη αριθμών βάζοντας ανάμεσά τους το σύμβολο της ισότητας ή της ανισότητας ($=$, $>$, $<$):

$340 + 150$	<input type="checkbox"/>	$560 - 70$
$500 + 410$	<input type="checkbox"/>	9×100
$810 + 90$	<input type="checkbox"/>	$1.000 - 80$
$670 + 130$	<input type="checkbox"/>	$990 - 200$
$170 + 310$	<input type="checkbox"/>	5×100



Προσθέσεις και αφαιρέσεις τριψήφρων αριθμών



4. Κάνω κάθετα τις παρακάτω αφαιρέσεις:

$$\begin{array}{r} 865 \\ - 103 \\ \hline \end{array}$$

$$\begin{array}{r} 291 \\ - 150 \\ \hline \end{array}$$

$$\begin{array}{r} 350 \\ - 213 \\ \hline \end{array}$$

$$\begin{array}{r} 671 \\ - 209 \\ \hline \end{array}$$

$$\begin{array}{r} 752 \\ - 118 \\ \hline \end{array}$$

$$\begin{array}{r} 904 \\ - 67 \\ \hline \end{array}$$

$$\begin{array}{r} 803 \\ - 65 \\ \hline \end{array}$$

$$\begin{array}{r} 460 \\ - 12 \\ \hline \end{array}$$

$$\begin{array}{r} 497 \\ - 28 \\ \hline \end{array}$$

$$\begin{array}{r} 700 \\ - 56 \\ \hline \end{array}$$

5. Υπολογίζω και γράφω τα αποτελέσματα:

α. $45 - 35 = 10$

β. $450 - 350 = 100$

γ. $84 - 30 =$

δ. $840 - 300 =$

ε. $68 - 18 =$

στ. $680 - 180 =$

ζ. $76 - 42 =$

η. $760 - 420 =$

θ. $94 - 51 =$

ι. $940 - 510 =$

ια. $88 - 34 =$

ιβ. $880 - 840 =$



6. Τα παιδιά της Γ' Δημοτικού έκαναν μια έρευνα για να δουν πόσα λογοτεχνικά βιβλία διάβασαν οι μαθητές του σχολείου τους το περασμένο καλοκαίρι. Μελετώ τον πίνακα και απαντώ στις ερωτήσεις που ακολουθούν:

Β' τάξη	Γ' τάξη	Δ' τάξη	Ε' τάξη	Στ' τάξη
50	125	230	270	260

α. Τα παιδιά ποιας τάξης διάβασαν τα περισσότερα βιβλία;

.....

β. Τα παιδιά ποιας τάξης διάβασαν τα λιγότερα βιβλία;

.....

γ. Πόσα περισσότερα βιβλία διάβασαν οι μαθητές της Στ' από τους μαθητές της Γ';

.....

δ. Πόσα βιβλία διάβασαν συνολικά τα παιδιά όλων των τάξεων;

.....