

## Μάθημα 55

1) Λογάριασε προσεκτικά:

$40 + 20 =$

$50 + 20 =$

$20 + 20 =$

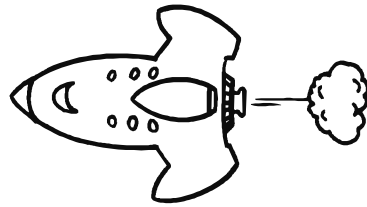
$30 + 20 =$

$60 + 20 =$

$50 + 30 =$

$30 + 30 =$

$50 + 20 =$



$43 + 10 =$

$57 + 20 =$

$63 + 20 =$

$71 + 20 =$

$32 + 20 =$

$57 + 20 =$

$46 + 40 =$

$52 + 30 =$

$70 - 30 =$

$50 - 20 =$

$80 - 40 =$


$60 - 30 =$

$65 - 20 =$

$75 - 30 =$

$47 - 20 =$

$52 - 30 =$



2) Λύσε το πρόβλημα:

Η Μαρία έχει στο πορτοφόλι της δυο χαρτονομίσματα των 20 € και ένα χαρτονόμισμα των 10 €. Πόσα χρήματα έχει όλα μαζί;

Ζωγράφισέ τα




Λογάριασε: \_\_\_\_\_

Απάντησε: \_\_\_\_\_

Πόσα χρήματα χρειάζεται ακόμη για να αγοράσει μια φωτογραφική μηχανή που κάνει 75 €;

Λογάριασε: \_\_\_\_\_

Απάντησε: \_\_\_\_\_



Όνομα: \_\_\_\_\_