

Οι αριθμοί μέχρι το 50

Όνομα: _____

Διάβασε και γράψε τους αριθμούς:

σαράντα εννιά

τριάντα έξι

τριάντα πέντε

δεκαεπτά

είκοσι τέσσερα

σαράντα ένα

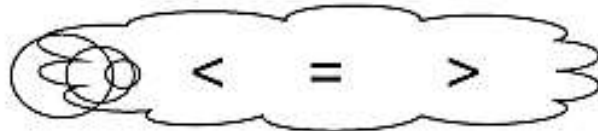
δεκαοκτώ

είκοσι τρία

τριάντα

σαράντα δύο

Σύγκρινε τους αριθμούς βάζοντας ανάμεσά τους το σωστό σημάδι:



46 38

32 23

50 17

29 26

37 37

32 39

40 50

14 41

Σκέψου και συμπλήρωσε τον πίνακα, όπως το παράδειγμα:

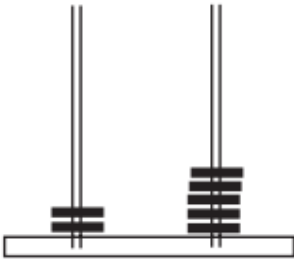
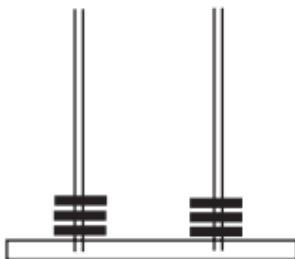
2 Δ 7 Μ	$10+10+7$	$20 + 7$	27
1 Δ 9 Μ			
4 Δ 3 Μ			
5 Δ 0 Μ			
3 Δ 8 Μ			
4 Δ 0 Μ			

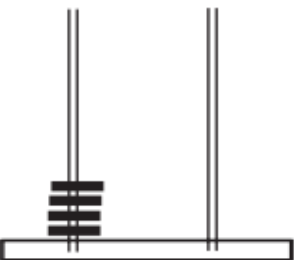
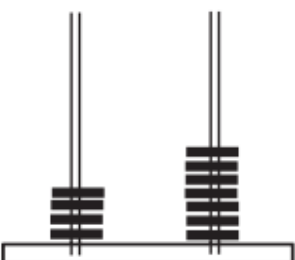
Γράψε τους αριθμούς που λείπουν κάθε φορά:

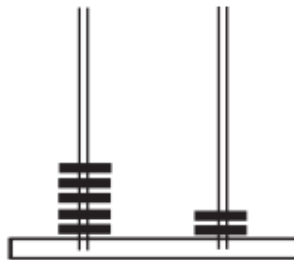
		36				50			27	
21					45					31
	40			28					17	

Ποιος αριθμός είναι;

Σκέψου όπως το παράδειγμα για να τον ανακαλύψεις.

 $2 \Delta \ 5 M = \boxed{25}$	 $\dots \Delta \ \dots M = \boxed{\dots}$
---	---

 $\dots \Delta \ \dots M = \boxed{\dots}$	 $\dots \Delta \ \dots M = \boxed{\dots}$
---	--

 $\dots \Delta \ \dots M = \boxed{\dots}$	 $\dots \Delta \ \dots M = \boxed{\dots}$
---	--