


Σχεδιάζω γωνίες

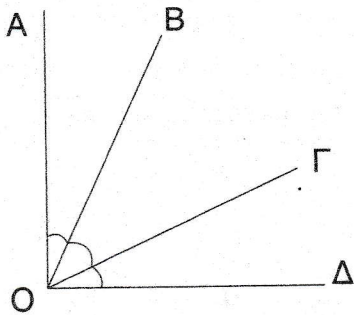
(ΜΑΘΗΜΑ 58)



1 Να σχεδιάσεις τρεις γωνίες: α) 70° , β) 90° και γ) 115° και να τις χαρακτηρίσεις.

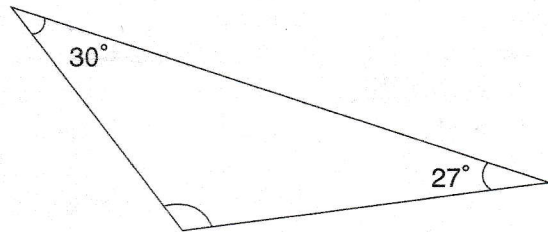
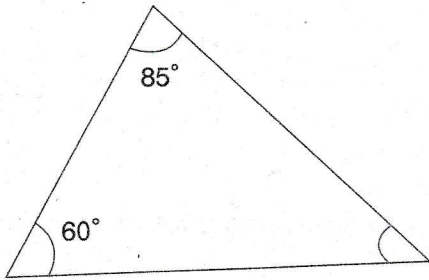
α) β) γ)

2 Να υπολογίσεις τη γωνία $\widehat{ΒΟΓ}$ και να επαληθεύσεις μετρώντας τη με το μοιρογνώμονιο.



$\widehat{ΑΟΔ} = \text{ορθή}$ $\widehat{ΑΟΒ} = 25^\circ$ $\widehat{ΓΟΔ} = 30^\circ$

3 Να υπολογίσεις το μέτρο της γωνίας που λείπει σε κάθε τρίγωνο.



4 Να υπολογίσεις το μέτρο της γωνίας που λείπει σε κάθε τετράπλευρο.

