

Όνομα:.....

Ημερομηνία:.....

Γράψε πόσο κάνουν:

$6 \times 7 =$

$7 \times 8 =$

$7 \times 11 =$

$4 \times 8 =$

$2 \times 6 =$

$6 \times 8 =$

$3 \times 6 =$

$4 \times 6 =$

$9 \times 6 =$

$7 \times 7 =$

$2 \times 8 =$

$4 \times 7 =$

$5 \times 8 =$

$5 \times 7 =$

$9 \times 7 =$

$6 \times 6 =$

$3 \times 8 =$

$8 \times 7 =$

$8 \times 8 =$


$2 \times 7 =$

$8 \times 5 =$

$3 \times 7 =$

$6 \times 11 =$

$8 \times 11 =$



Βρες την αξία του μοτίβο:



→ 15



→ 25



→ 35



.....

Ο Κώστας έφαγε 48 παγωτά όλο το καλοκαίρι. Η αδερφή του έφαγε τα διπλάσια. Πόσα παγωτά έφαγε η αδερφή του;





Το μανάβικο πούλησε 72 κιλά ντομάτες τη Δευτέρα.

Την Τρίτη πούλησε τα μισά.

1. Πόσα κιλά πούλησε την Τρίτη;

2. Πόσα πούλησε και τις δύο μέρες;



Δασκάλα Μαρία Γερονικολού

