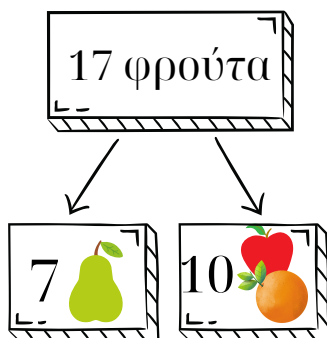




Όνομα: _____

Ημερομηνία: _____




Προβλήματα

Μέσα στη φρουτιέρα είναι μήλα, αχλάδια και πορτοκάλια. Όλα μαζί είναι 17. Τα αχλάδια είναι 7. Πόσα μπορεί να είναι τα μήλα και τα πορτοκάλια;



Βρίσκω όλες τις πιθανές λύσεις.
Τα αχλάδια είναι πάντα 7.



		
7		
7		
7		
7		
7		
7		
7		
7		
7		



