





## Βασικές Γεωμετρικές Έννοιες Ασκήσεις (I)

### Πρωταρχικές έννοιες

Να αντιστοιχίσετε τις βασικές γεωμετρικές έννοιες της πρώτης στήλης με την κατάλληλη λέξη της δεύτερης στήλης:




|   |   |   |  |   |   |   |   |
|---|---|---|--|---|---|---|---|
|  | • |   |  |   |   |   |   |
|  | • |   |  |   |   |   |   |
|  | • |   |  |   |   |   |   |
|  | • |   |  |   |   |   |   |
|   |   | • |  | • | • | • | • |
|   |   |   |  | • | • | • | • |
|   |   |   |  |   |   | • | • |
|   |   |   |  |   |   |   | • |

### Παράλληλες – Τεμνόμενες Ευθείες

Να τοποθετήσετε τις φράσεις τεμνόμενες ευθείες, παράλληλες ευθείες, σημείο τομής και τέμνονται στη σωστή θέση:

(i) Οι ευθείες  $xx'$  και  $yy'$  ονομάζονται ..... γιατί ανήκουν στο ίδιο επίπεδο και δεν έχουν κανένα κοινό σημείο.



(ii) Οι ευθείες  $xx'$  και  $yy'$  ονομάζονται ..... γιατί έχουν ένα κοινό σημείο. Λέμε ότι οι ευθείες  $xx'$  και  $yy'$  ..... στο σημείο A. Το σημείο A ονομάζεται ..... των ευθειών  $xx'$  και  $yy'$ .

