

ΧΡΙΣΤΟΥΓΕΝΝΙΑΤΙΚΕΣ ΔΡΑΣΤΗΡΙΟΤΗΤΕΣ ΓΙΑ ΤΟΥΣ ΜΙΚΡΟΥΣ ΜΑΣ ΦΙΛΟΥΣ

Επιμέλεια

Εκπ. Α/θμιας

Καισάρειου Δέσποινα ΠΕ71
Λώλου Ελευθερία ΠΕ61


Λογοθεραπεύτρια

Στρίκου Θεοδώρα ΠΕ21

Ενώστε τα στολίδια με το δέντρο.



Σχηματίστε τα γένια του Αϊ Βασίλη!



Κόψτε και ενώστε τα κομμάτια



Αντιγράψτε τις λέξεις στη διπλανή στήλη.



φάτνη



αστέρι



έλατο



στολίδι

Πόσα είναι τα χριστουγεννιάτικα αντικείμενα;
Μετρήστε και κυκλώστε το σωστό αριθμό !



- 2
- 1
- 3




- 6
- 4
- 7




- 5
- 4
- 2



- 1
- 4
- 2



- 7
- 8
- 6



- 2
- 4
- 3

Βάλτε στο κάθε δεντράκι τόσες χριστουγεννιάτικες μπάλες όσες ορίζει ο αριθμός στο πινακάκι. Στη συνέχεια χρωματίστε τις .



3



5



2



1



4



6


Κάντε τις προσθέσεις.



+



=



+



=



+



=



+



=



Χριστουγεννιάτικο σταυρόλεξο!



2

αστέρι



1

στεφάνι

3



3

καμπάνα

4




1



4

έλατο

2



Κοιτάξτε τις εικόνες και γράψτε μια ιστοριούλα.



Συμπληρώστε το μοτίβο.



Βρείτε τη φωνούλα που ξεκινούν τα παρακάτω αντικείμενα και
κυκλώστε τη σωστή.



α

π

ε



δ

η

μ



λ

α

φ



ρ

κ

τ



ξ

ε

τ



ξ

ο

μ

Συμπληρώστε τα γραμματάκια που λείπουν.



έλ _ το



κ _ λτσα



στε _ άνι



καμ _ άνα



_ στέρι



μπ _ λα



χιονον_ φάδα



κουρμπ _ έδες

Να κάνετε τις παρακάτω προσθέσεις-αφαιρέσεις.

• $10+10+7=$

$39-9=$

• $70+10+20=$

$50-10=$

• $27+3+1=$

$35-10=$

• $45+2+1=$

$19-7 =$



Βρείτε το συμπλήρωμα

• $40 + \underline{\quad} = 60$

• $18 + \underline{\quad} = 22$

• $32 + \underline{\quad} = 39$

• $6 + \underline{\quad} = 16$

• $9 + \underline{\quad} = 17$



Να κάνετε τους πολλαπλασιασμούς.

$4 \times 8 =$

$6 \times \underline{\quad} = 18$

$5 \times 7 =$

$3 \times \underline{\quad} = 12$

$3 \times 6 =$

$5 \times \underline{\quad} = 40$

$4 \times 9 =$

$2 \times \underline{\quad} = 16$

$3 \times 7 =$

$3 \times \underline{\quad} = 27$




Ας λύσουμε ένα προβληματάκι !

Η Μαρία έχει 38 καραμέλες. Η Χριστίνα έχει 9 καραμέλες λιγότερες από τη Μαρία.

A) πόσες καραμέλες έχει η Χριστίνα;


B) πόσες καραμέλες έχουν και τα δύο κορίτσια μαζί;

Λύση





Αγαπημένε μου Άγιε Βασίλη,
ελπίζω να έρθεις και φέτος και να μου φέρεις το δώρο που τόσο πολύ επιθυμώ!



A large, empty, rounded rectangular box with a black outline, intended for writing a message or drawing.

Σου χαρίζω την πιο όμορφη ζωγραφιά μου..

Με αγάπη,

ΚΑΛΑ ΧΡΙΣΤΟΥΓΕΝΝΑ!!!!!!



ΚΕΣΥ ΔΗΜΝΟΥ